

Евгений Панюков

**ИГРА ГО  
ПЕРВЫЙ ЗАДАЧНИК  
ДЛЯ НАЧИНАЮЩИХ  
(II часть)**

## Содержание

Тема №9. Количество групп.....	1
Тема №10. Соединение групп.....	5
Тема №11. Разрезание групп.....	13
Тема №12. Дамэ.....	19
Тема №13. Атари.....	24
Тема №14. "Вилка" или Двойное атари. ....	33
Тема №15. Самоатары.....	42
Тема №16. Один глаз из двух пунктов.....	46
Тема №17. Статус группы.....	55

## **Помните? (опрос)**

Сколько лет игре го?

Почему игра го называется "го"?

Сделать ход – что это значит?

Какие камни немедленно удаляются с игрового поля?

Какие ходы запрещены?

Что такое правило ко?

Какие камни захватить невозможно?

На какие линии лучше всего ставить камни в начале партии?

Что означает термин "дамэ"?

Что означает термин "атар"?

## **Запомните!**

Перед атакой выберите цель. Обычно атакуют более слабые камни (с меньшим количеством дамэ).

"Лучший ход противника – твой лучший ход!"

От умения строить живые группы или убивать группы противника зависит уровень вашего мастерства!

Чтобы захватить группу, не обязательно закрывать ей все дамэ. Достаточно отобрать возможность построить два глаза!

Мёртвые или пленные группы не нужно добивать!

Внутри живой группы просто так ставить камни не надо.

Прежде чем атаковать, осмотритесь! Может быть вашим камням нужна помощь и защита!

## Вы уже сыграли 100 партий на поле 9x9?

Даже если игровое поле сделано из картона и вместо камней – пуговицы, уже можно получать удовольствие от игры.

После освоения правил:

1. Как делается ход;
2. Как захватываются камни;
3. Какие ходы запрещены, необходимо научиться защищать свои камни, и освоить построение живых групп, так как это напрямую связано с количеством ваших побед и поражений.

Не забирайтесь в дебри теории, играйте как нравится. Через некоторое время можно переходить на доску 13x13 и снова повторить правила и основные приёмы игры.

### Стремление к повышению мастерства

Об игре го написано немало книг, но даже прочитав их, невозможно выйти в один ряд с профессионалами. Поэтому играйте так, чтобы игра доставляла удовольствие.

Играйте с партнёрами разного стиля и характера. Одни любят сразу получать территорию, другим нравится организовывать давление, третьи с первых же ходов создают сложный бой и т.д. Выбирайте свой стиль и играйте.

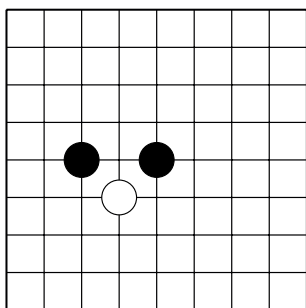
Играйте как можно больше!

### Решайте задачи!

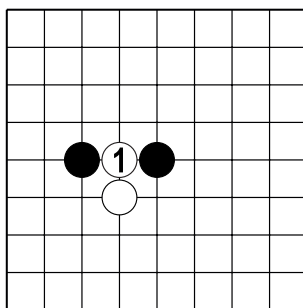
На жизнь и смерть групп необходимо обращать самое серьёзное внимание. Чтобы повысить мастерство, **постоянно** решайте задачи на жизнь и смерть групп!

## Тема №9. Количество групп.

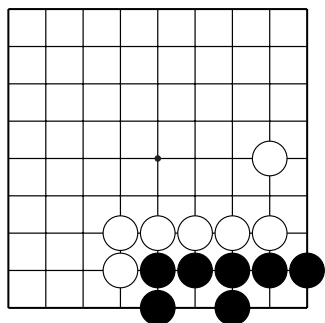
Под словом "группа" подразумевается один камень или группа камней, которую нельзя разделить даже за несколько ходов.



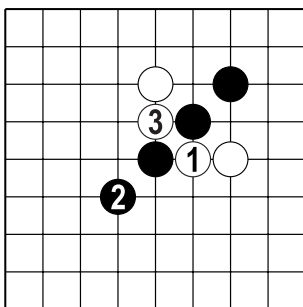
Д.1. Здесь две группы чёрных каждая из которых состоит из одного камня. И одна группа белых из одного камня.



Д.2. Ходом 1 белые не дают чёрным соединиться в одну группу. У белых получилась одна группа из двух камней.



Д.3. У чёрных одна группа. Белые не смогут разделить чёрные камни.

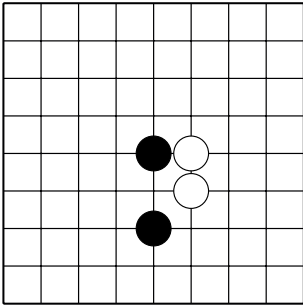


Д.4. Белые могут разделить чёрных двумя ходами. После 3 хода у чёрных – четыре группы, у белых – две.

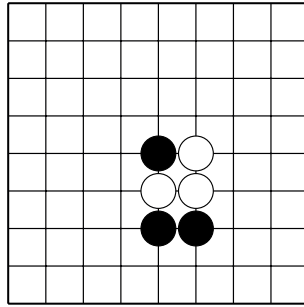
**Чем меньше групп, тем легче защищаться!**

Тема №9. Количество групп.

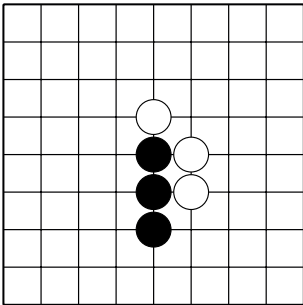
Сколько групп у чёрных и сколько групп у белых?



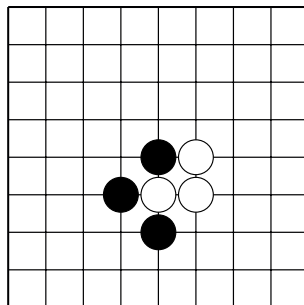
№1 ( ч ) ( б )



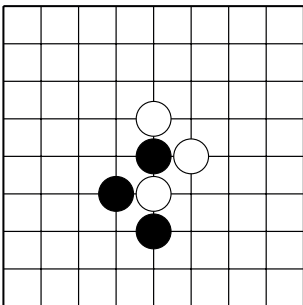
№2 ( ч ) ( б )



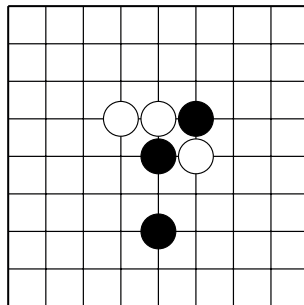
№3 ( ч ) ( б )



№4 ( ч ) ( б )



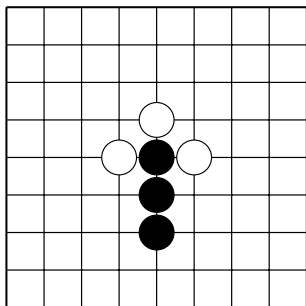
№5 ( ч ) ( б )



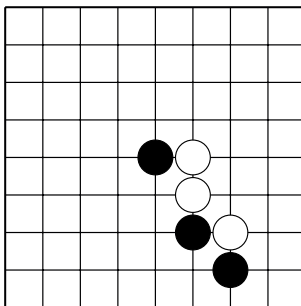
№6 ( ч ) ( б )

Тема №9. Количество групп.

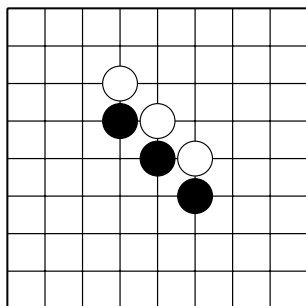
Сколько групп у чёрных и сколько групп у белых?



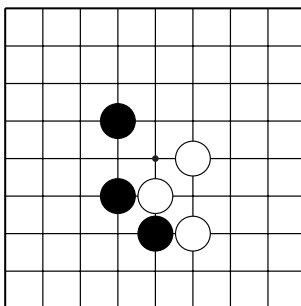
№7 ( ч ) ( б )



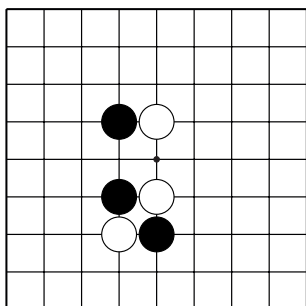
№8 ( ч ) ( б )



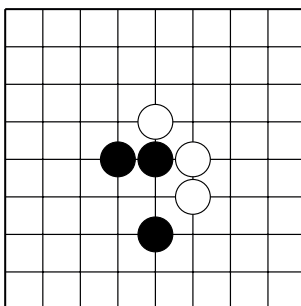
№9 ( ч ) ( б )



№10 ( ч ) ( б )



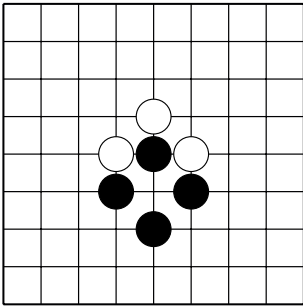
№11 ( ч ) ( б )



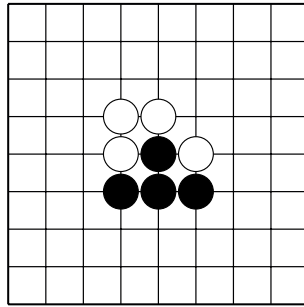
№12 ( ч ) ( б )

Тема №9. Количество групп.

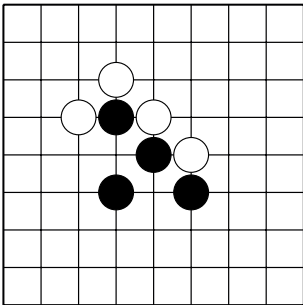
Сколько групп у чёрных и сколько групп у белых?



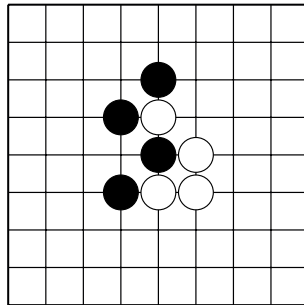
№13 ( ч ) ( б )



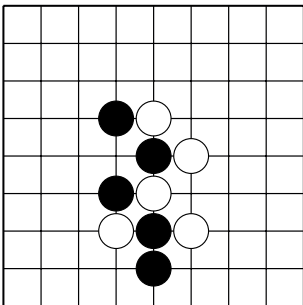
№14 ( ч ) ( б )



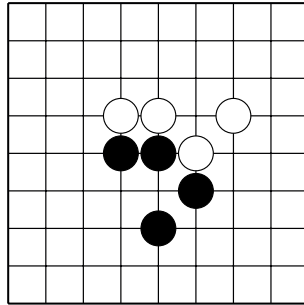
№15 ( ч ) ( б )



№16 ( ч ) ( б )



№17 ( ч ) ( б )



№18 ( ч ) ( б )

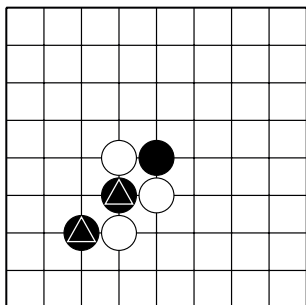




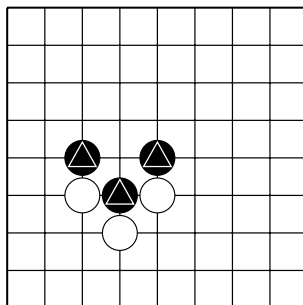
Тема №10. Соединение групп.

Создайте **прямое соединение** между камнями ♣.

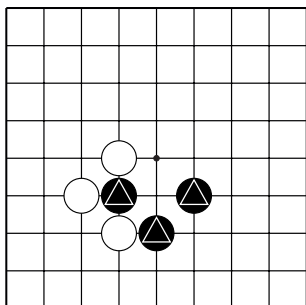
Укажите один ход.



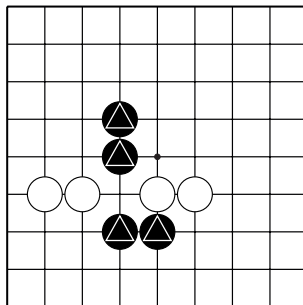
№1



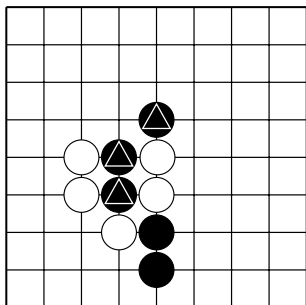
№2



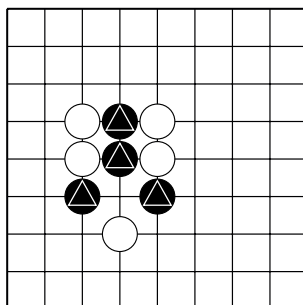
№3



№4



№5

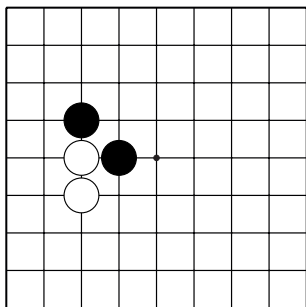


№6

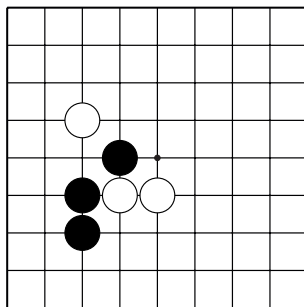
Тема №10. Соединение групп.

Создайте **прямое соединение** между чёрными камнями.

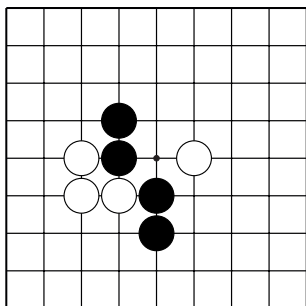
Укажите один ход.



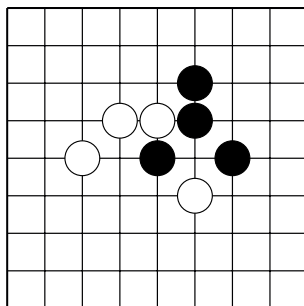
№7



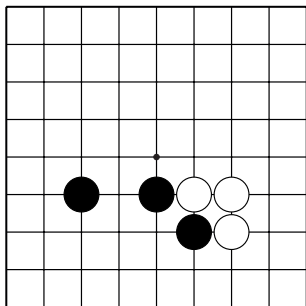
№8



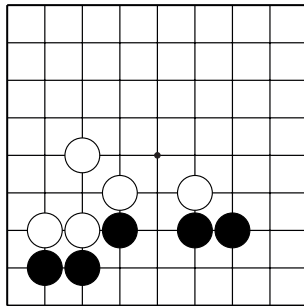
№9



№10



№11

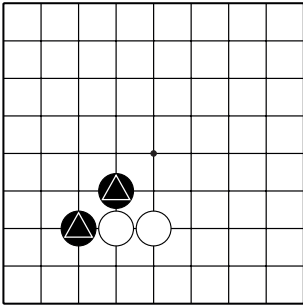


№12

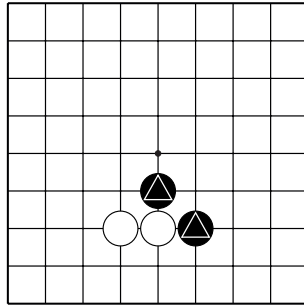
Тема №10. Соединение групп.

Создайте соединение “**пасть тигра**” между камнями ♁.

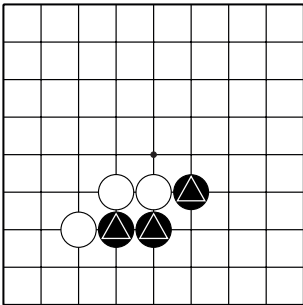
Укажите один ход.



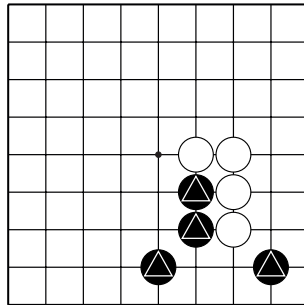
№13



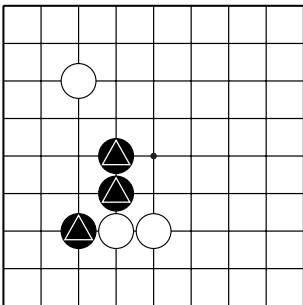
№14



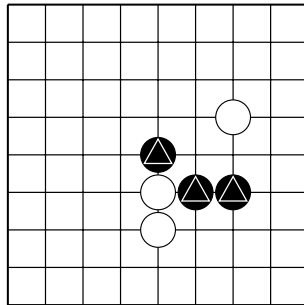
№15



№16



№17

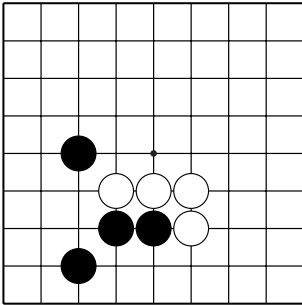


№18

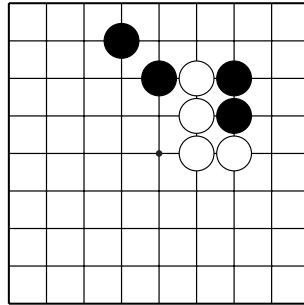
Тема №10. Соединение групп.

Создайте соединение “пасть тигра” между чёрными камнями.

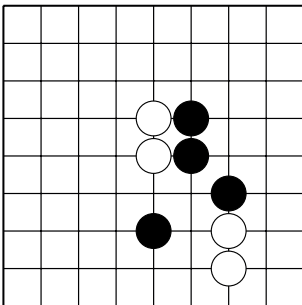
Укажите один ход.



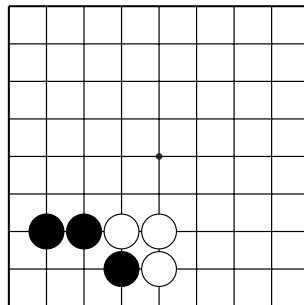
№19



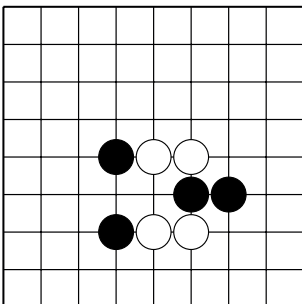
№20



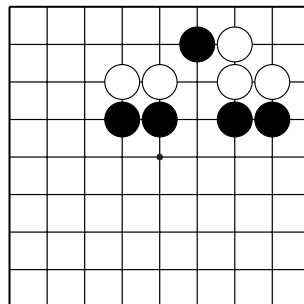
№21



№22



№23

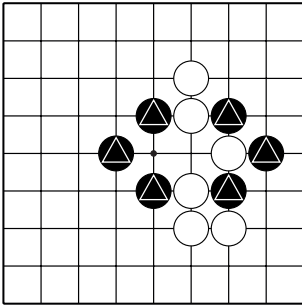


№24

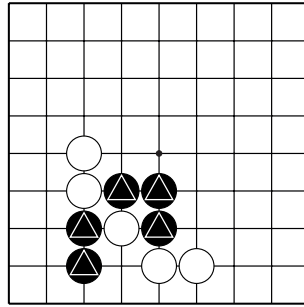
Тема №10. Соединение групп.

Соедините камни ♣ захватив камень белых.

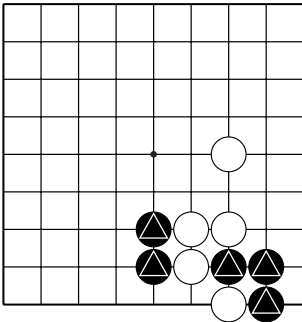
Укажите один ход.



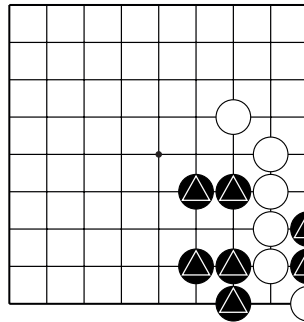
№25



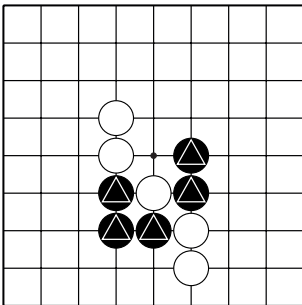
№26



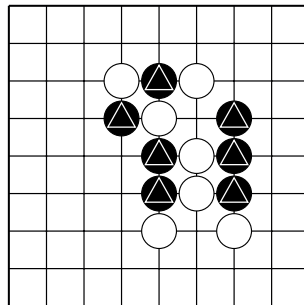
№27



№28



№29

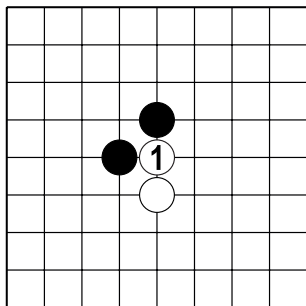


№30

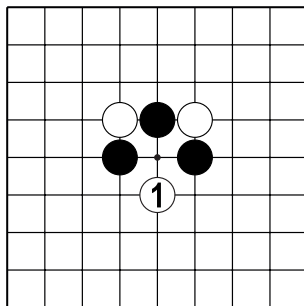


Тема №10. Соединение групп.

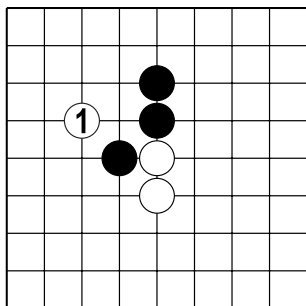
Какой ход чёрных соединяет свои камни после хода белых 1?



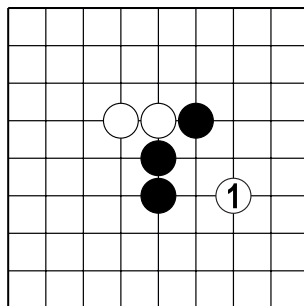
№37



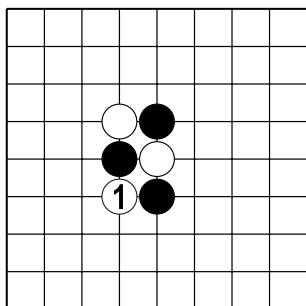
№38



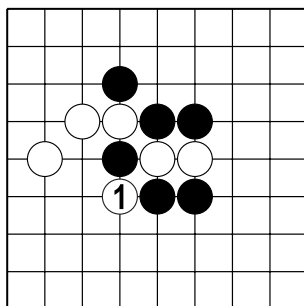
№39



№40



№41



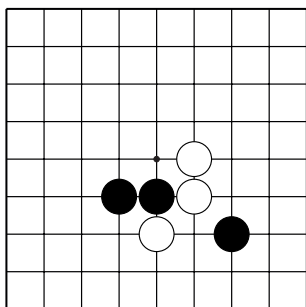
№42



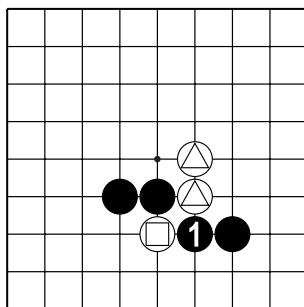
## Тема №11. Разрезание групп.

Проще захватить маленькую группу, чем большую.

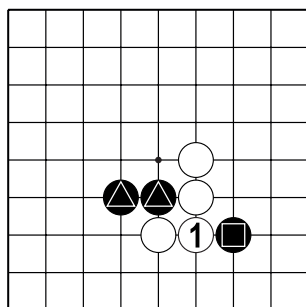
Разрезания, как и соединения, бывают прямыми и не прямыми.



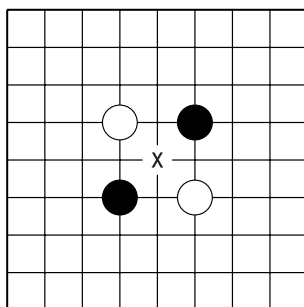
Д.1. Как играть в этой позиции?



Д.2. Ходом 1 чёрные отделяют камни  $\ominus$  от  $\omin�$ .



Д.3. Если белые соединятся в 1, они отрежут камни  $\omin�$  от  $\omin�$ .

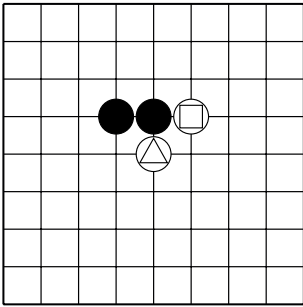


Д.4. В этой позиции пункт "x" важен для обеих сторон, т.к. разрезает камни противника и соединяет свои.

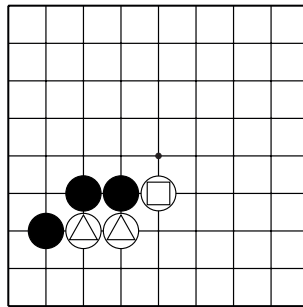
**Разрезание групп соперника с последующей атакой часто приносит прибыль.**

# Тема №11. Разрезание групп.

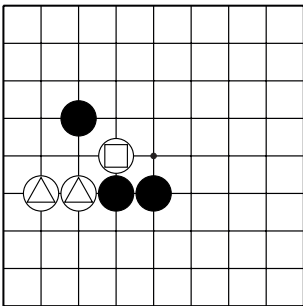
Какой ход чёрных отделяет камни  $\ominus$  от  $\triangle$ ?



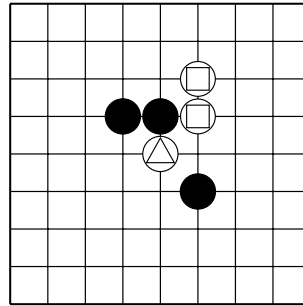
№1



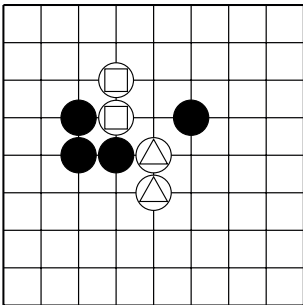
№2



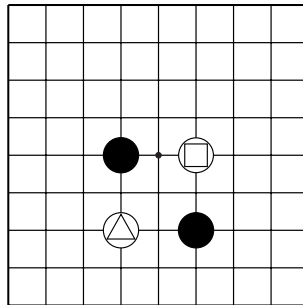
№3



№4



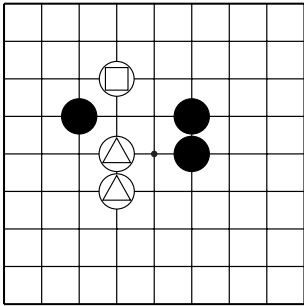
№5



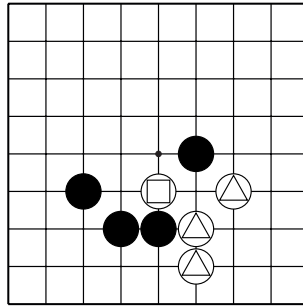
№6

Тема №11. Разрезание групп.

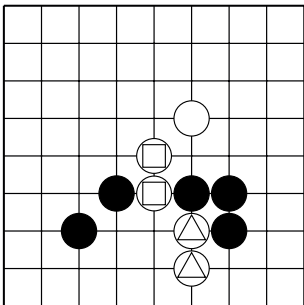
Какой ход чёрных отделяет камни  $\ominus$  от  $\triangle$ ?



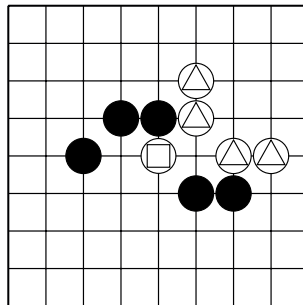
№7



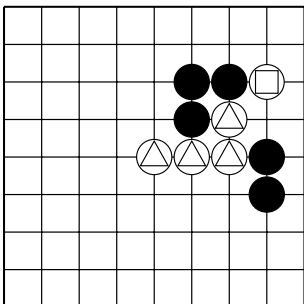
№8



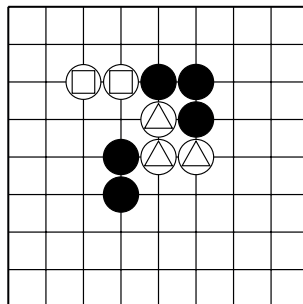
№9



№10



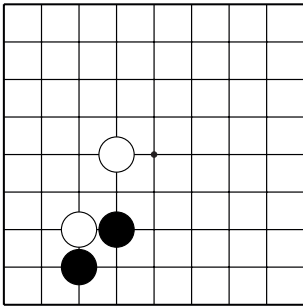
№11



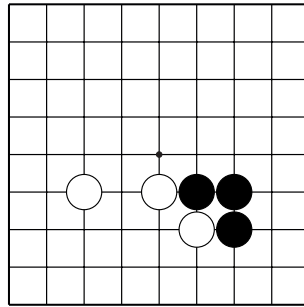
№12

Тема №11. Разрезание групп.

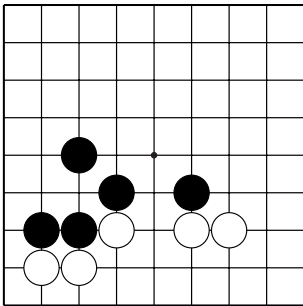
Какой ход чёрных разделяет камни белых?



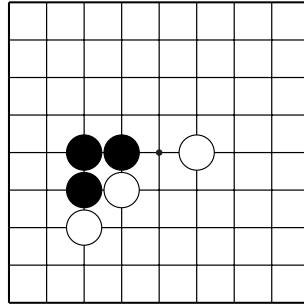
№13



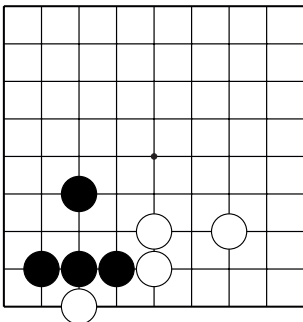
№14



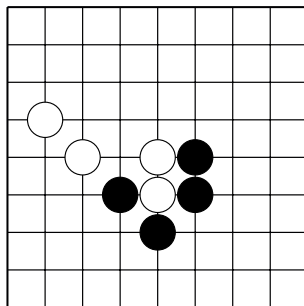
№15



№16



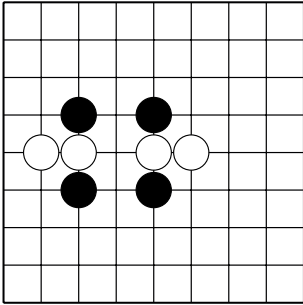
№17



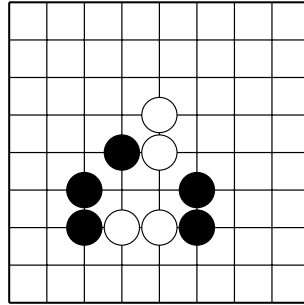
№18

Тема №11. Разрезание групп.

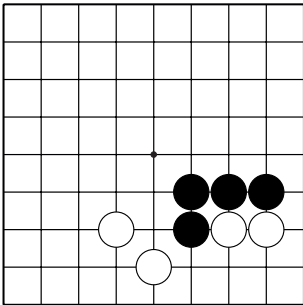
Какой ход чёрных разделяет камни белых?



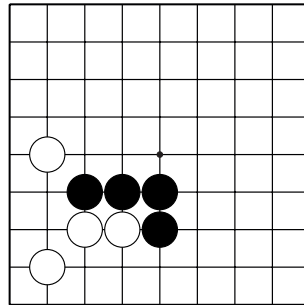
№19



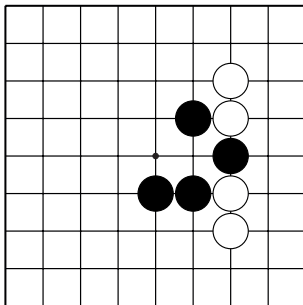
№20



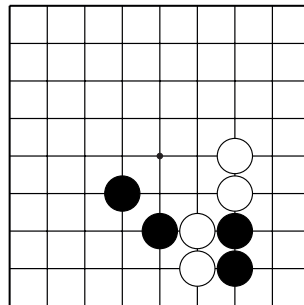
№21



№22



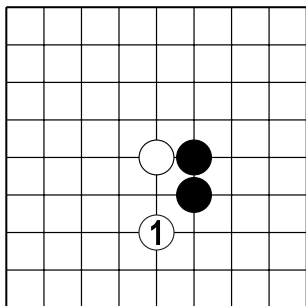
№23



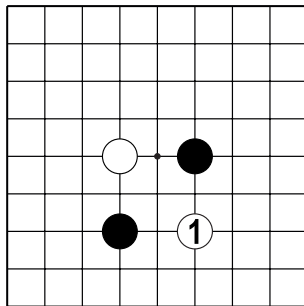
№24

Тема №11. Разрезание групп.

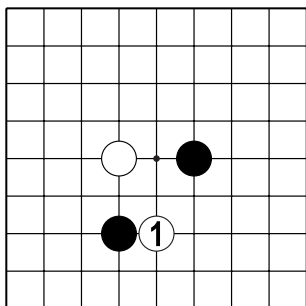
Как чёрным разделить белых после хода 1?



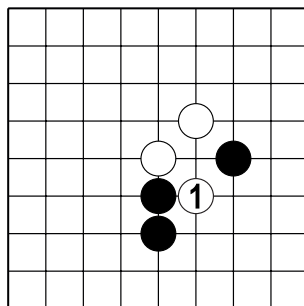
№25



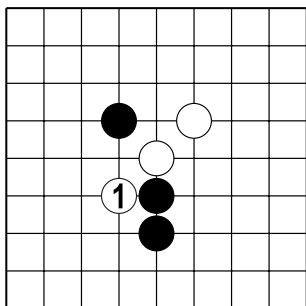
№26



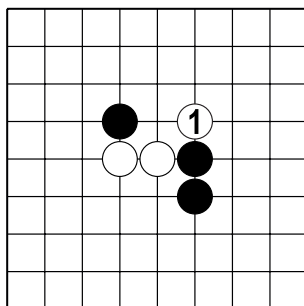
№27



№28



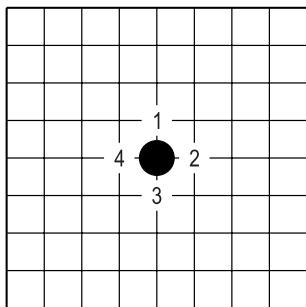
№29



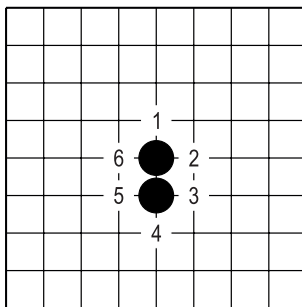
№30

Тема №12. Дамэ.

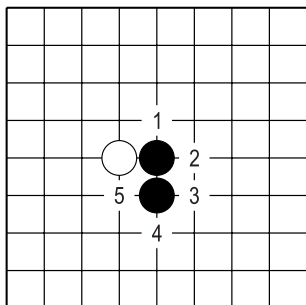
Камень (группа камней) имеет силу (время жизни), выраженную в количестве свободных пунктов (дамэ – яп.).



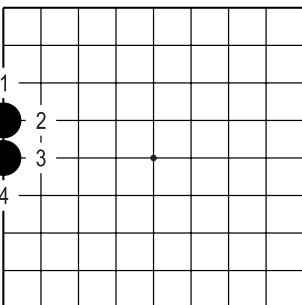
Д.1. У одного камня в центре четыре жизни (дамэ).



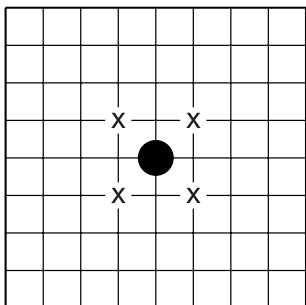
Д.2. У группы из двух камней в центре – шесть дамэ.



Д.3. Здесь белый камень отнимает одно дамэ у чёрных. То есть у чёрных в этой ситуации пять дамэ.



Д.4. У группы из двух камней на первой (крайней) линии – четыре дамэ.

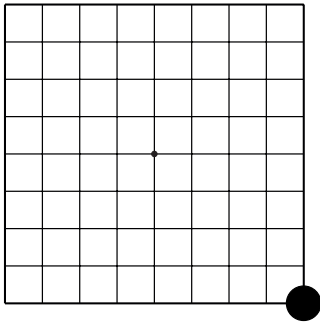


Д.5. Обратите внимание!  
Пункты, обозначенные «х» – НЕ дамэ чёрного камня. Если белые поставят в эти пункты свои камни, у чёрного камня останется четыре дамэ.

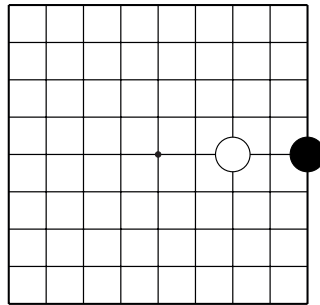
Тема №12. Дамэ.

1. Сколько **свободных** пунктов (дамэ) у **чёрных** камней.

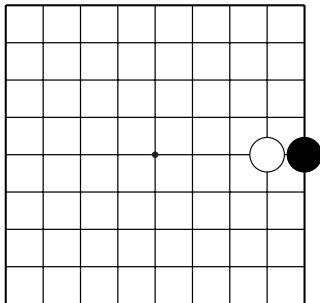
2. Запишите ответ.



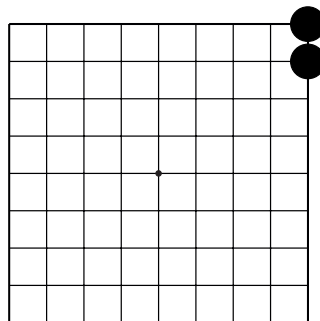
№1 ( )



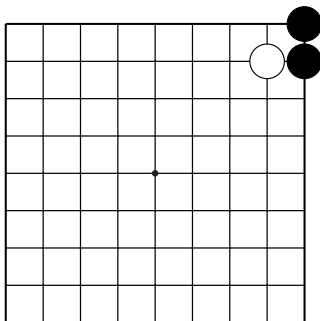
№2 ( )



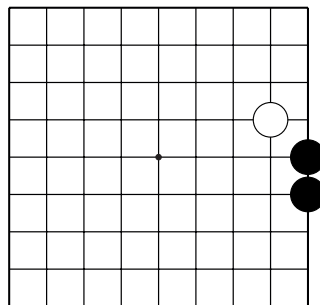
№3 ( )



№4 ( )



№5 ( )



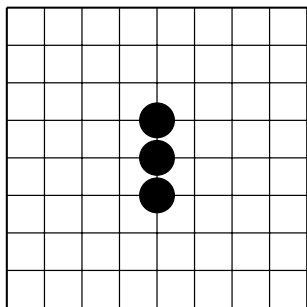
№6 ( )



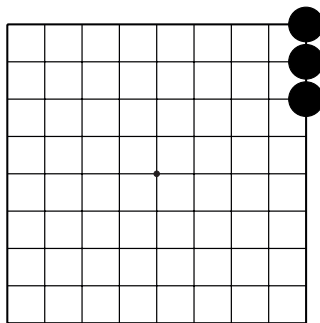
Тема №12. Дамэ.

1. Сколько **свободных пунктов** (дамэ) у чёрных камней.

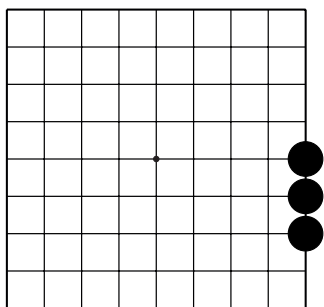
2. Запишите ответ.



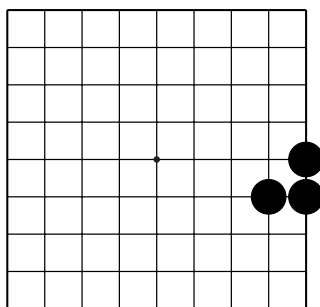
№7 ( )



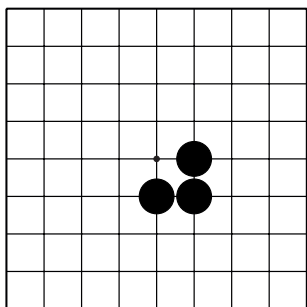
№8 ( )



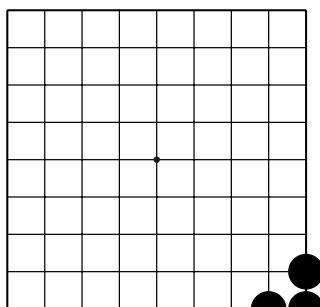
№9 ( )



№10 ( )



№11 ( )

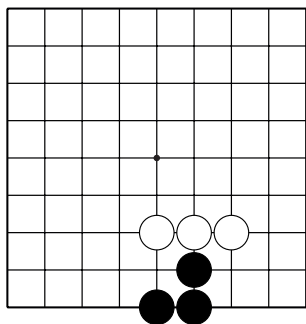


№12 ( )

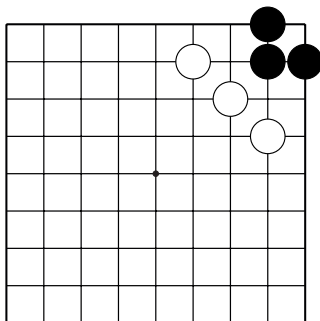
Тема №12. Дамэ.

1. Сколько **свободных** пунктов (дамэ) у **чёрных** камней.

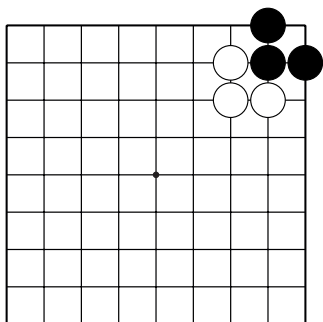
2. Запишите ответ.



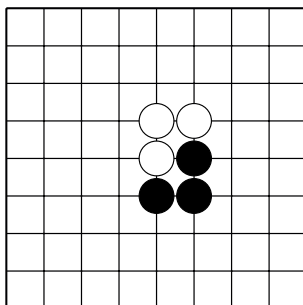
№13 ( )



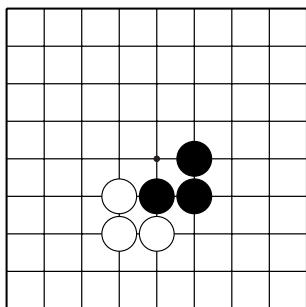
№14 ( )



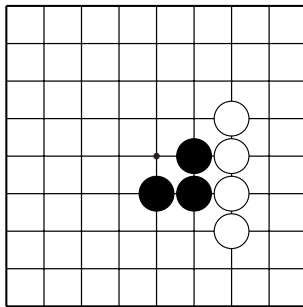
№15 ( )



№16 ( )



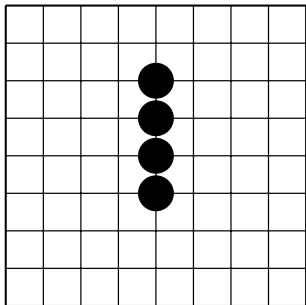
№17 ( )



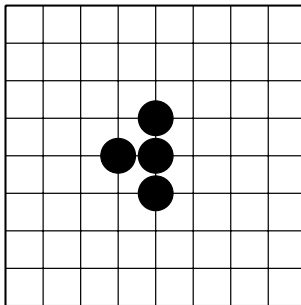
№18 ( )

Тема №12. Дамэ.

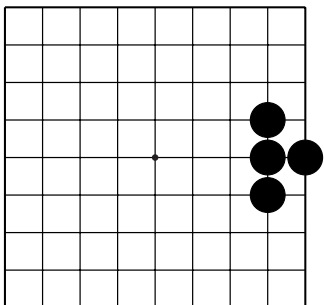
1. Сколько **свободных** пунктов (дамэ) у **чёрных** камней.
2. Запишите ответ.



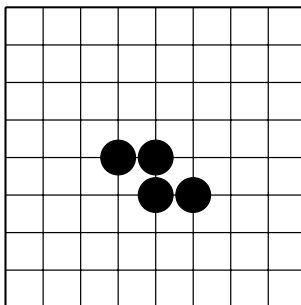
№19 ( )



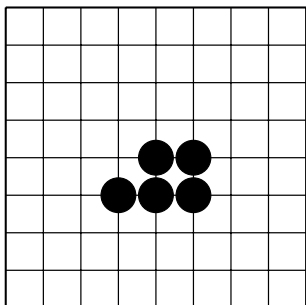
№20 ( )



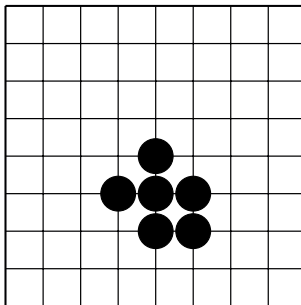
№21 ( )



№22 ( )



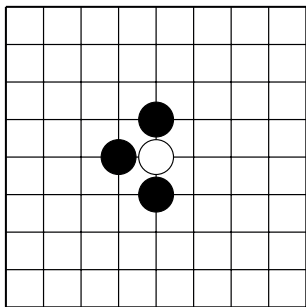
№23 ( )



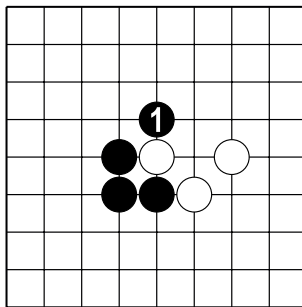
№24 ( )

### Тема №13. Атари

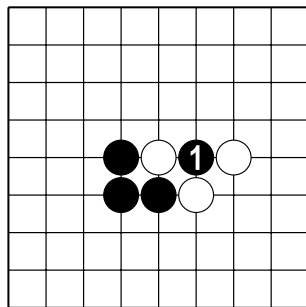
Атари (яп.) – ситуация, в которой у камня (камней) **ТОЛЬКО ОДНО** дамэ.  
Другими словами, атари – это ситуация перед захватом камней.



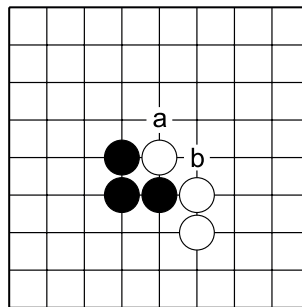
Д.1. Камень белых находится в атари – у него одно дамэ.



Д.2. Ходом 1 чёрные нападают на белый камень, то есть ход чёрных 1 создаёт ситуацию атари.



Д.3. Здесь ход чёрных 1 создаёт ситуацию атари, но в данной позиции он не разумен, т.к. чёрный камень 1 сам поставлен в атари.

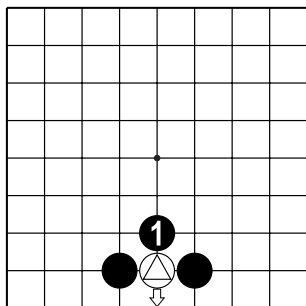


Д.4. Чёрные могут сыграть атари в "a" или "b". Нужно хорошо подумать, прежде чем сделать следующий ход.

## Тема №13. Атари

Атари бывают грубые и глупые, мудрые и полезные.

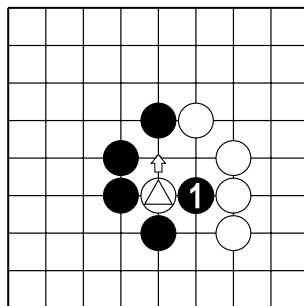
### Примеры полезных атари:



#### Атари

(прижать к первой линии)

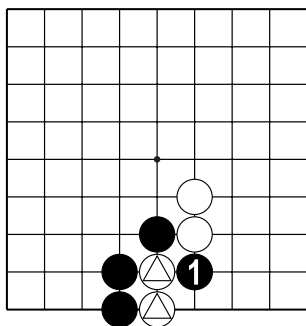
После хода чёрных 1 от камня ⊗ можно играть лишь на первую линию (в направлении стрелки).



#### Атари

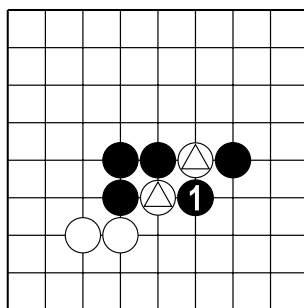
(прижать к своим камням)

После хода чёрных 1 от камня ⊗ можно играть лишь в направлении стрелки, но на пути стоит камень чёрных. Очевидно, что белым не убежать.



#### Разрезающее атари

После хода чёрных 1 два камня ⊗ отрезаются и их не спасти.

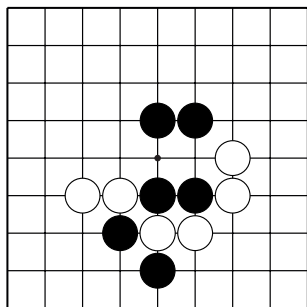


#### Двойное атари

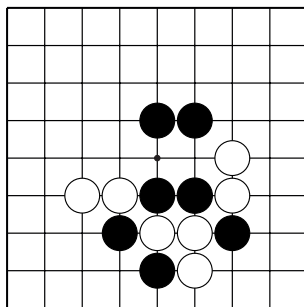
После хода чёрных 1 у каждого из камней ⊗ по одному дамэ. Какой бы камень белые не спасли, чёрные могут захватить другой.

Тема №13. Атари.

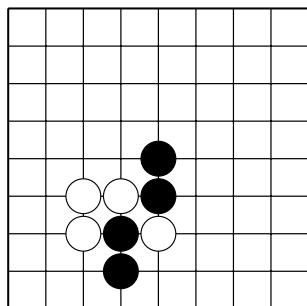
Найдите камни белых с двумя дамэ и атакуйте их так, чтобы они могли удлиниться только в сторону ближайшей первой линии.



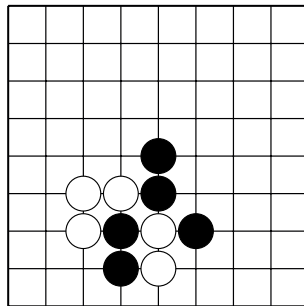
№1



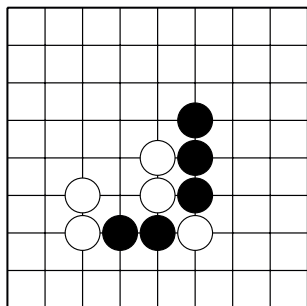
№2



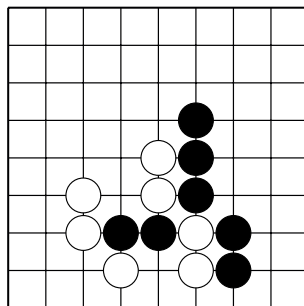
№3



№4



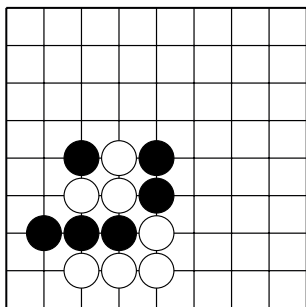
№5



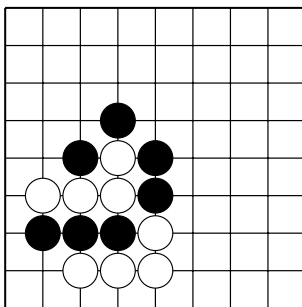
№6

Тема №13. Атари.

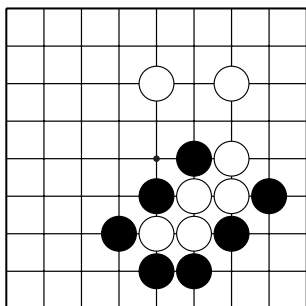
Найдите камни белых с двумя дамэ и атакуйте их так, чтобы они могли удлиниться только в сторону ближайшей первой линии.



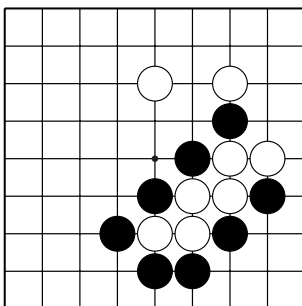
№7



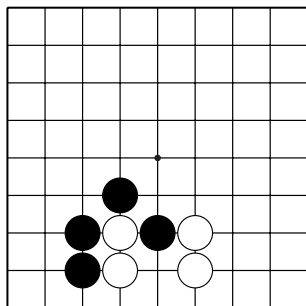
№8



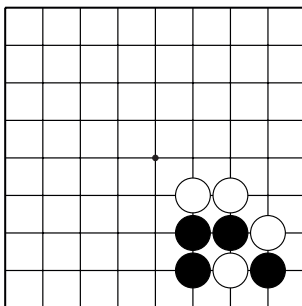
№9



№10



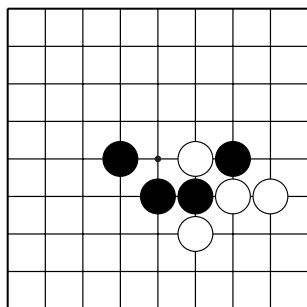
№11



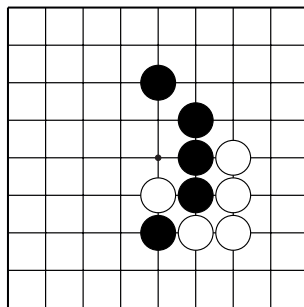
№12

Тема №13. Атари.

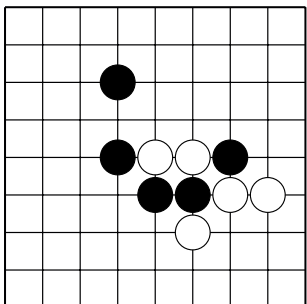
Найдите камни белых с двумя дамэ и атакуйте их так, чтобы они могли удлиниться только в сторону ближайших чёрных камней.



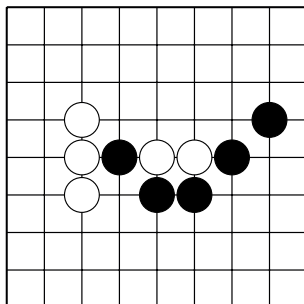
№13



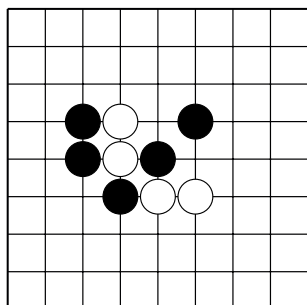
№14



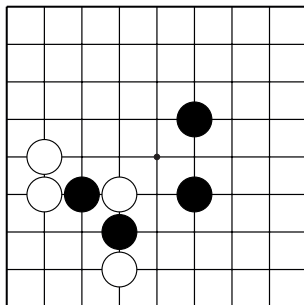
№15



№16



№17

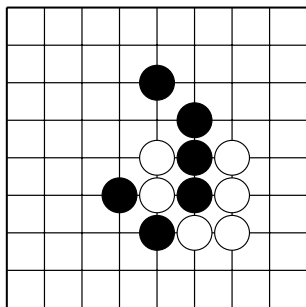


№18

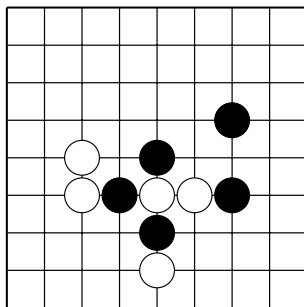


Тема №13. Атари.

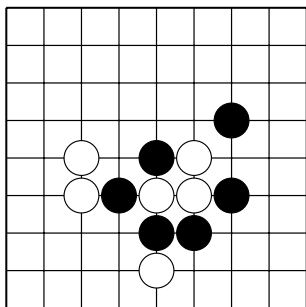
Найдите камни белых с двумя дамэ и атакуйте их так, чтобы они могли удлиниться только в сторону ближайших чёрных камней.



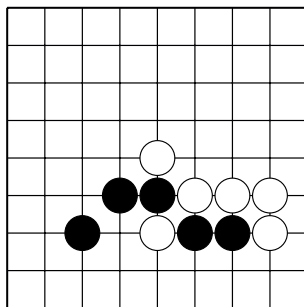
№19



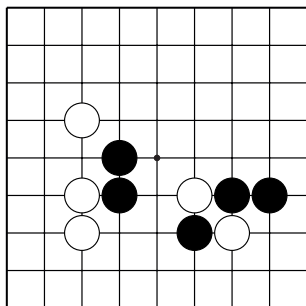
№20



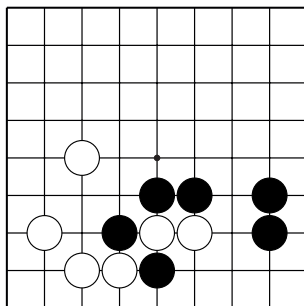
№21



№22



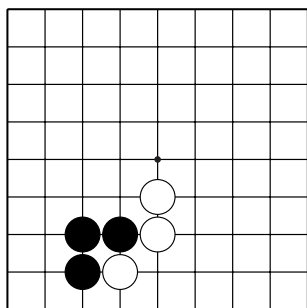
№23



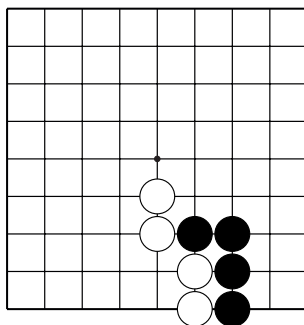
№24

Тема №13. Атари.

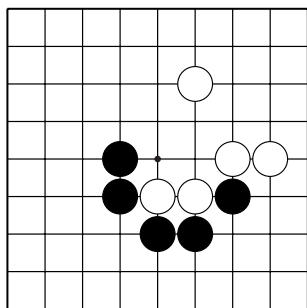
Ход чёрных. Найдите камни белых с двумя дамэ и атадите на них, одновременно отрезая их от других белых камней.



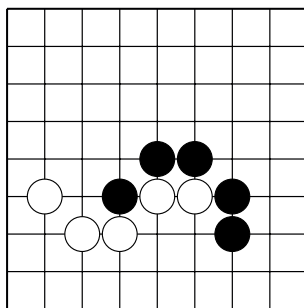
№25



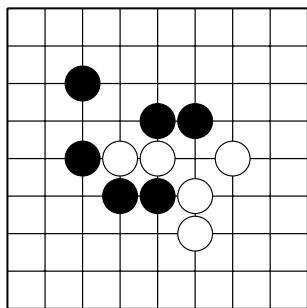
№26



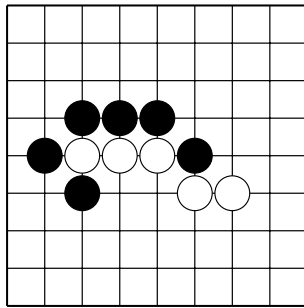
№27



№28



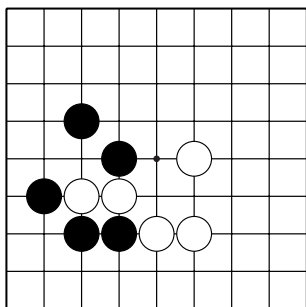
№29



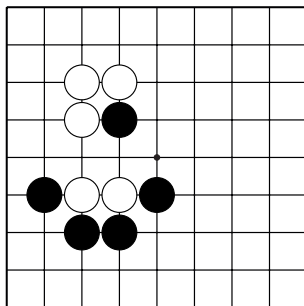
№30

Тема №13. Атари.

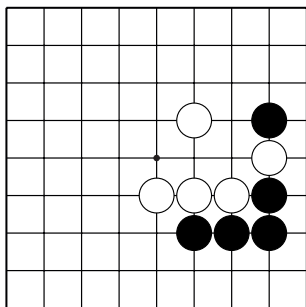
Ход чёрных. Найдите камни белых с двумя дамэ и атадите на них, одновременно отрезая их от других белых камней.



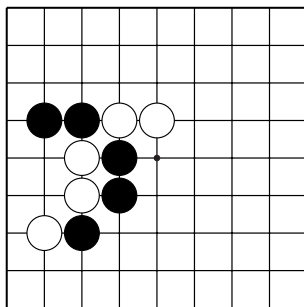
№31



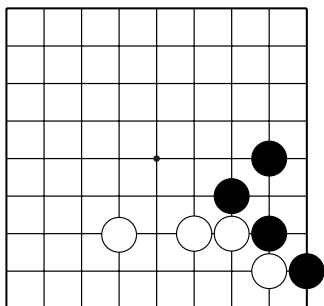
№32



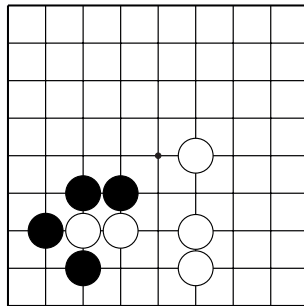
№33



№34



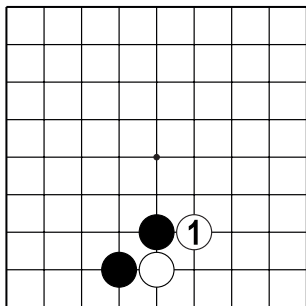
№35



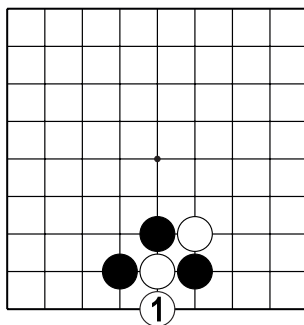
№36

Тема №13. Атари.

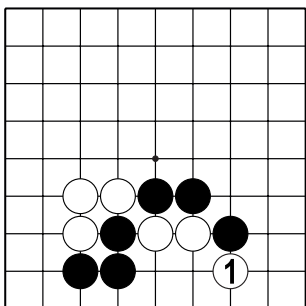
Как чёрным атаковать после хода белых 1?



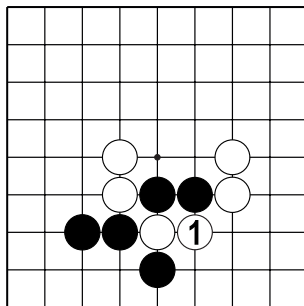
№37



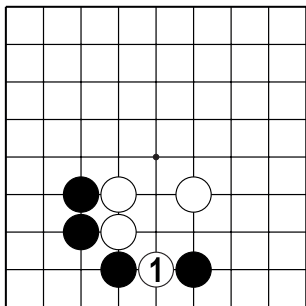
№38



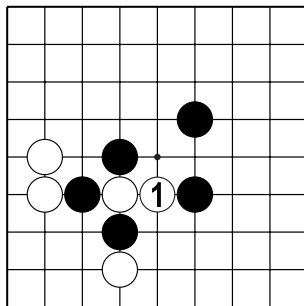
№39



№40



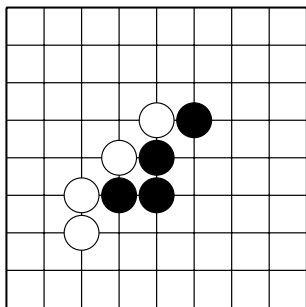
№41



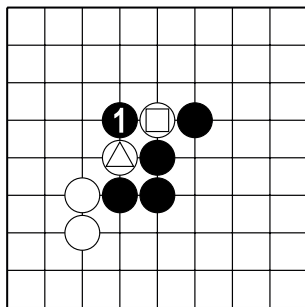
№42

Тема №14. "Вилка" или Двойное атари.

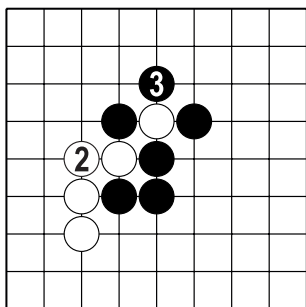
Двойное атари – один из самых простых и эффективных приёмов захвата камней.



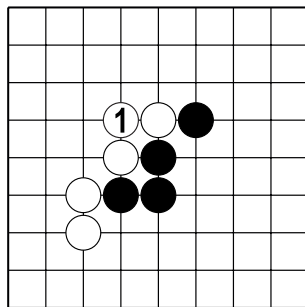
Д.1. Как атаковать белых?



Д.2. После хода ч.1 у каждого из камней 2 по одному дамэ....



Д.3. ...если белые защитят один камень, чёрные захватят другой, и наоборот.



Д.4. Если бы был ход белых, то соединение б.1 – самый простой способ защиты.

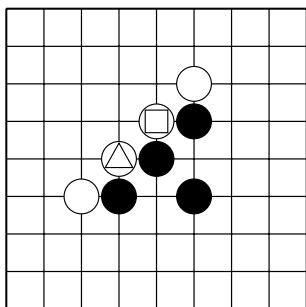
**Запомните пословицу:**

**«Лучший ход противника – твой лучший ход»!**

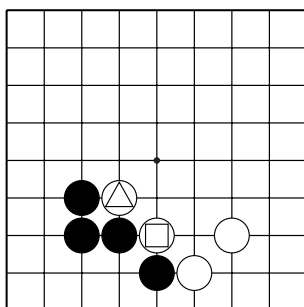
Тема №14. "Вилка" или Двойное атари.

Ход чёрных.

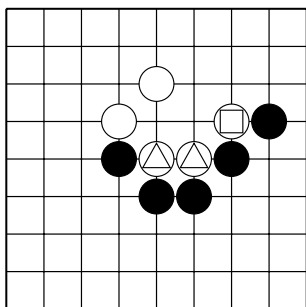
Как атаковать отмеченные камни белых?



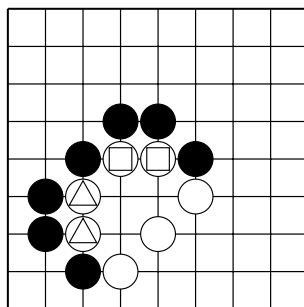
№1



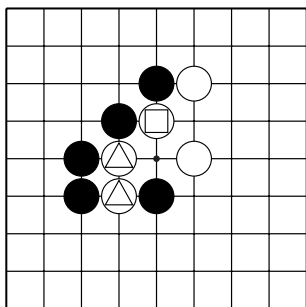
№2



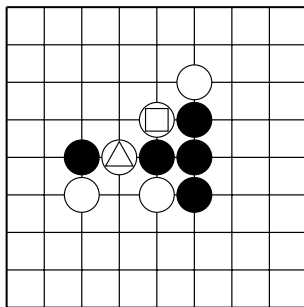
№3



№4



№5

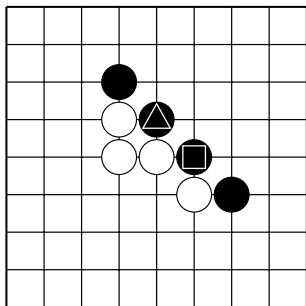


№6

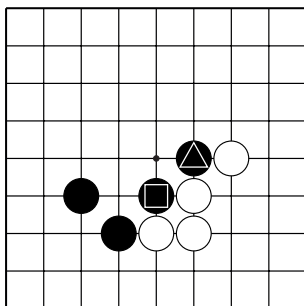
Тема №14. "Вилка" или Двойное атари.

Ход чёрных.

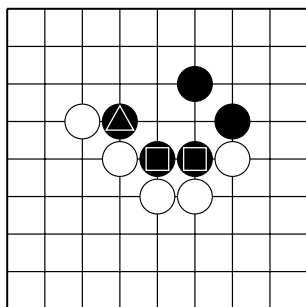
Как **защитить** отмеченные камни чёрных от двойного атари?



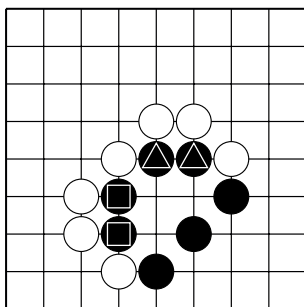
№7



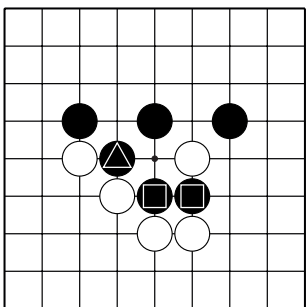
№8



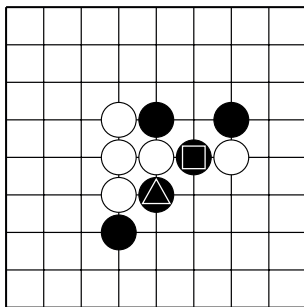
№9



№10

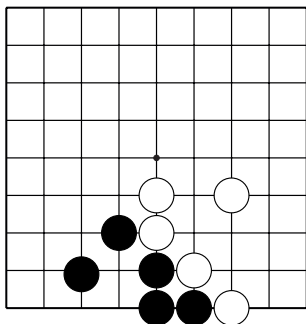


№11

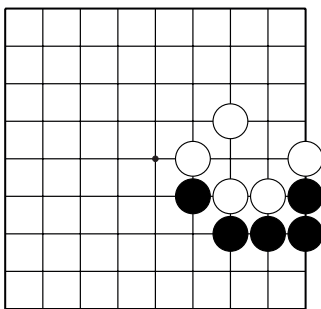


№12

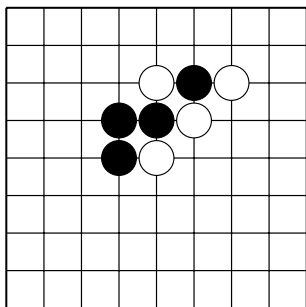
Тема №14. "Вилка" или Двойное атари.  
 Ход чёрных.  
 Как атаковать белые камни?



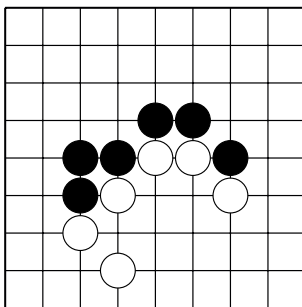
№13



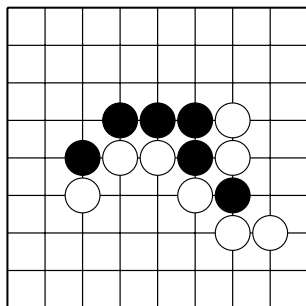
№14



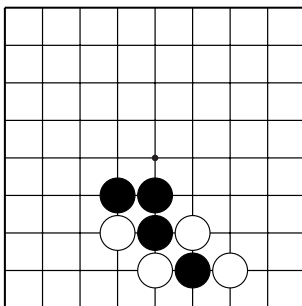
№15



№16



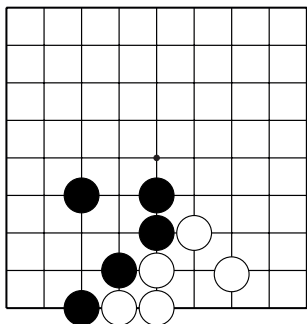
№17



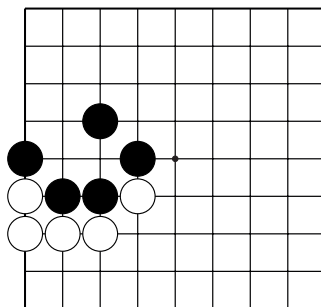
№18



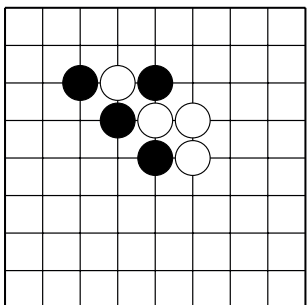
Тема №14. "Вилка" или Двойное атари.  
 Ход чёрных.  
 Как **защититься** от двойного атари?



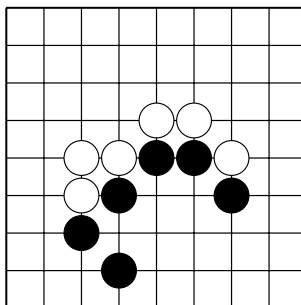
№19



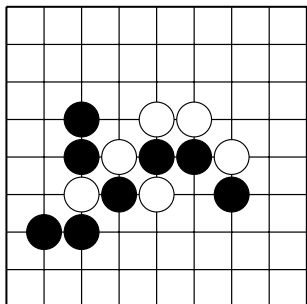
№20



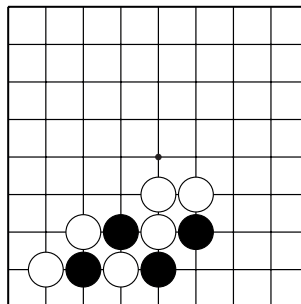
№21



№22

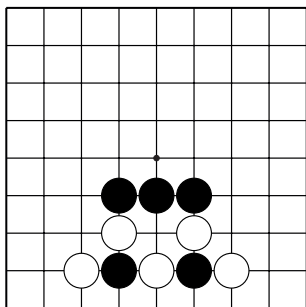


№23

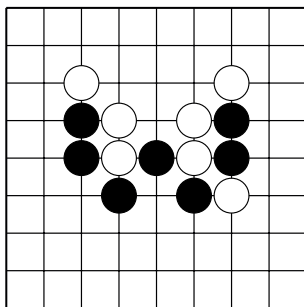


№24

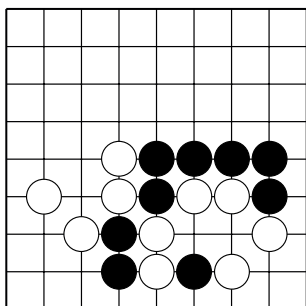
Тема №14. "Вилка" или Двойное атари.  
 Ход чёрных.  
 Как атаковать белые камни?



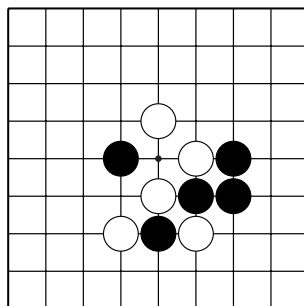
№25



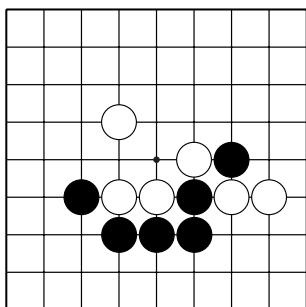
№26



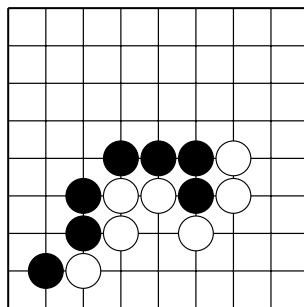
№27



№28

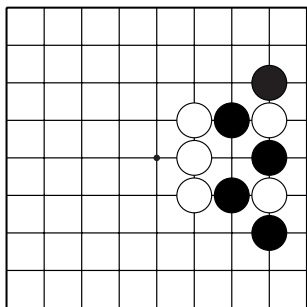


№29

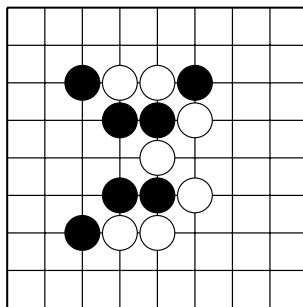


№30

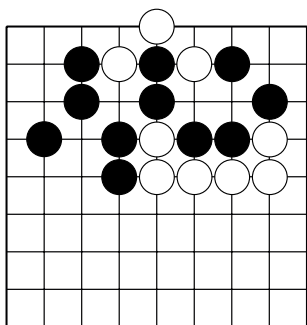
Тема №14. "Вилка" или Двойное атари.  
 Ход чёрных.  
 Как **защититься** от двойного атари?



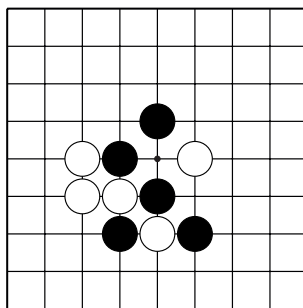
№31



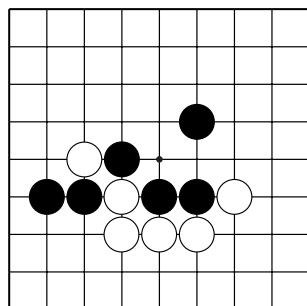
№32



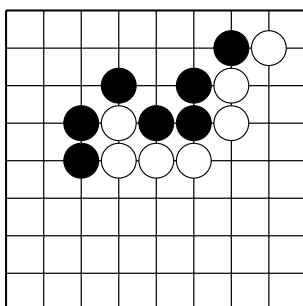
№33



№34

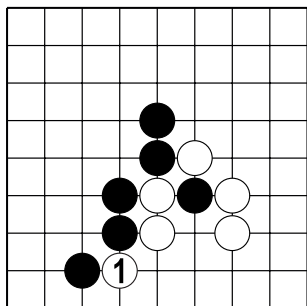


№35

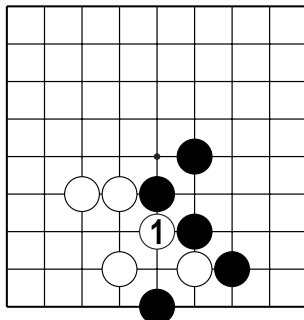


№36

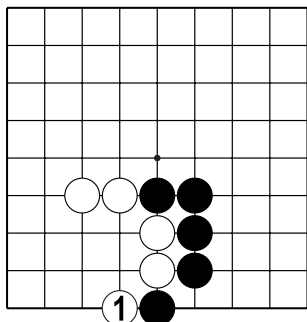
Тема №14. "Вилка" или Двойное атари.  
 Ход чёрных.  
 Как атаковать белые камни?



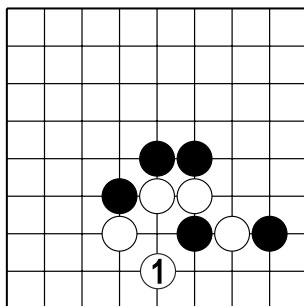
№37



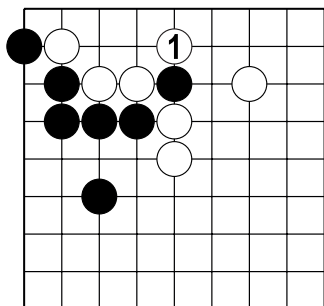
№38



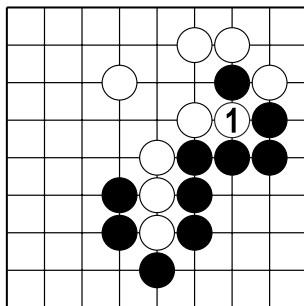
№39



№40

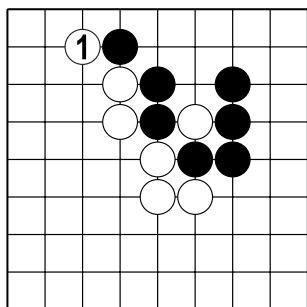


№41

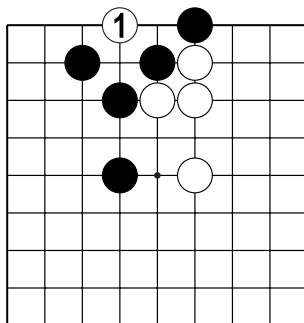


№42

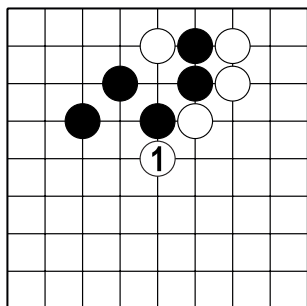
Тема №14. "Вилка" или Двойное атари.  
 Ход чёрных.  
 Как **защититься** от двойного атари?



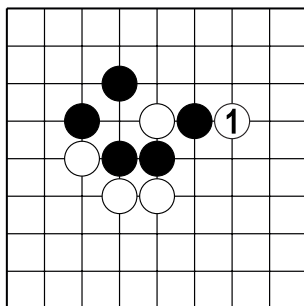
№43



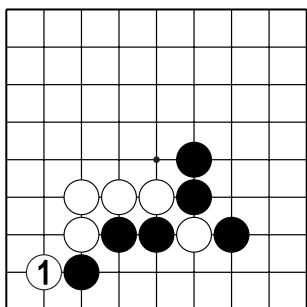
№44



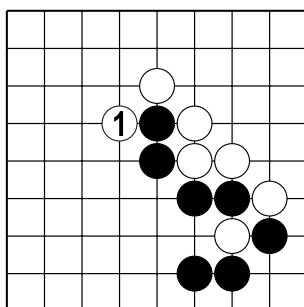
№45



№46



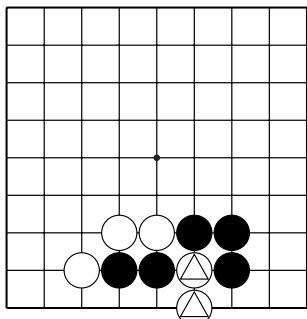
№47



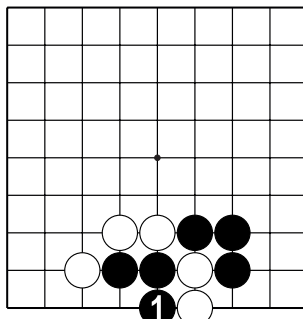
№48

## Тема №15. Самоатари.

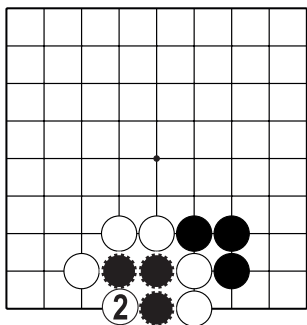
Самоатари – ход, который ставит свои камни в атари.



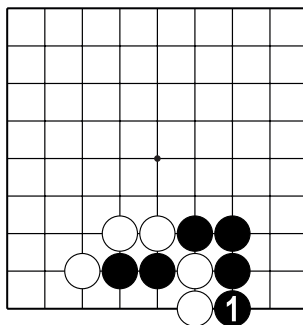
Д.1. Как атаковать отмеченные камни белых?



Д.2. Ходом 1 чёрные нападают на два белых камня. Но! Чёрные ставят свои камни в атари...



Д.3. ... и белые захватят три чёрных камня.

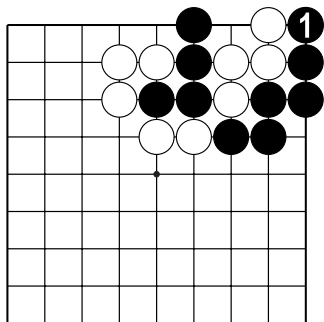


Д.4. Чтобы поймать два белых камня, чёрным нужно напасть с другой стороны.

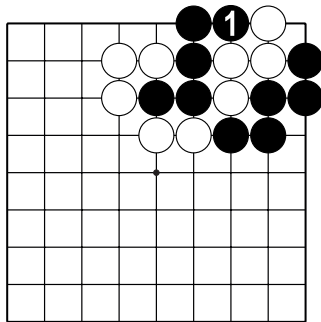
Тема №15. Самоатари.

1. Сравните левую и правую диаграммы.

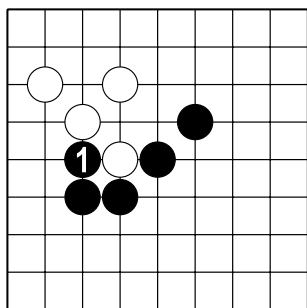
2. Определите ход ч.1 хороший или плохой?



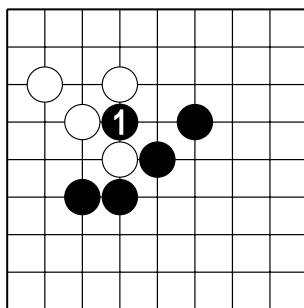
№1 ( )



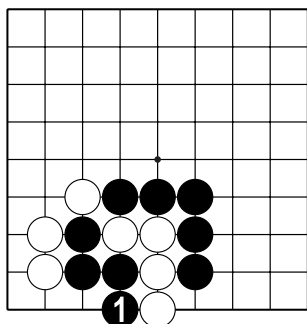
№2 ( )



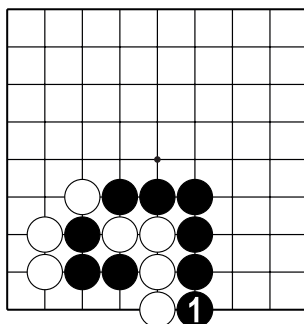
№3 ( )



№4 ( )



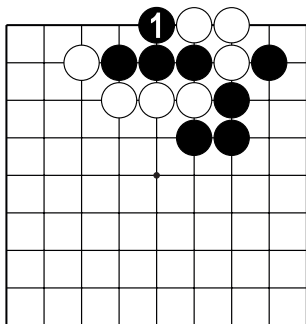
№5 ( )



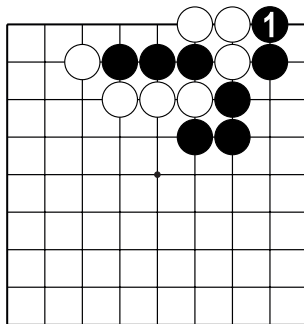
№6 ( )

Тема №15. Самоатари.

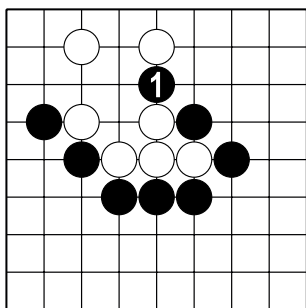
1. Сравните левую и правую диаграммы.
2. Определите ход ч.1 хороший или плохой?



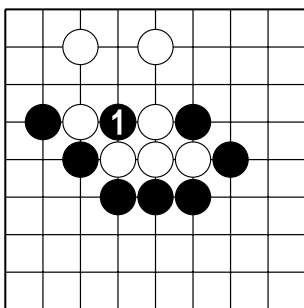
№7 ( )



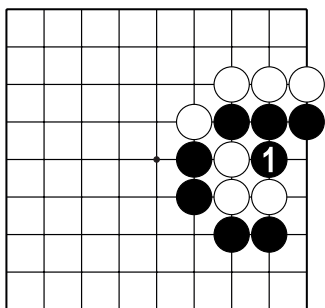
№8 ( )



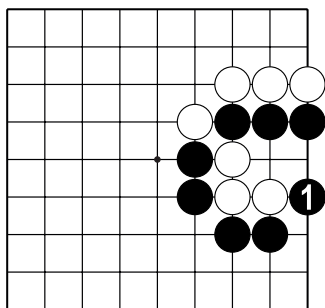
№9 ( )



№10 ( )



№11 ( )

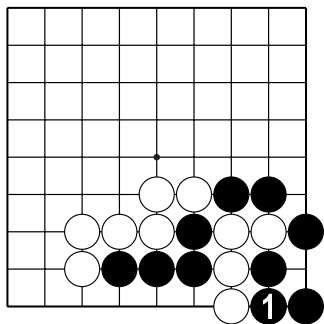


№12 ( )

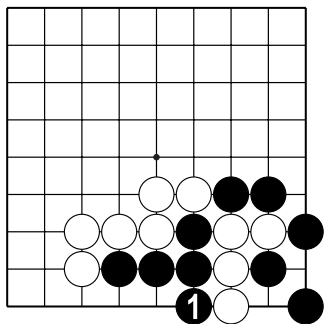


Тема №15. Самоатари.

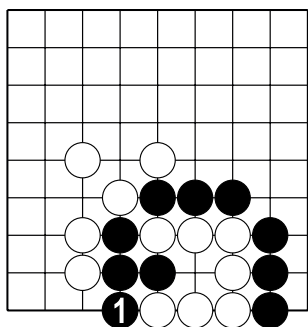
1. Сравните левую и правую диаграммы.
2. Определите ход ч.1 хороший или плохой?



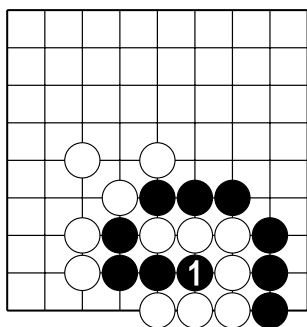
№13 ( )



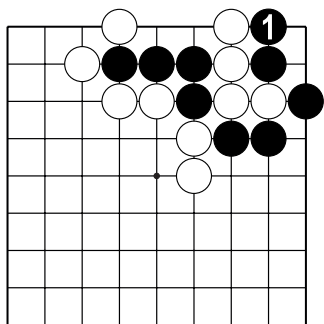
№14 ( )



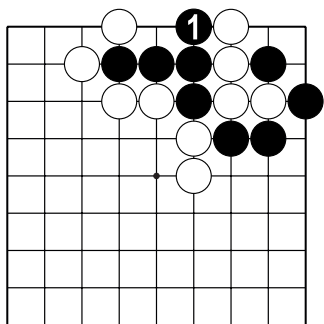
№15 ( )



№16 ( )



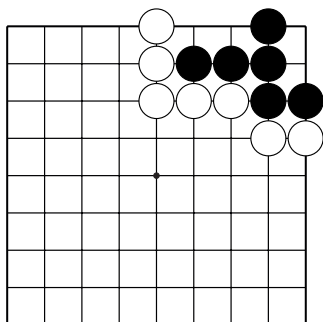
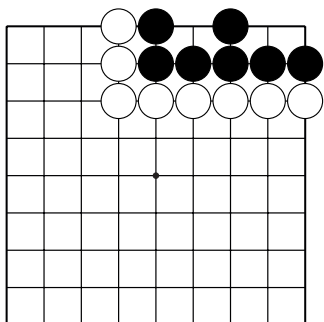
№17 ( )



№18 ( )

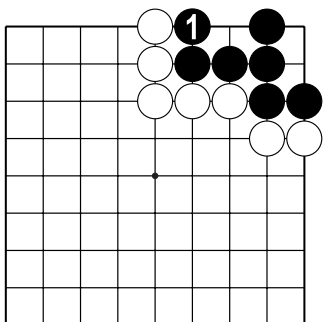
Тема №16. Один глаз из двух пунктов.

один глаз + один глаз = живая группа

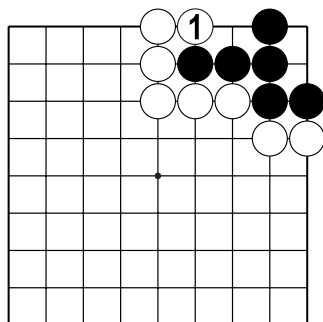


Д.1. У чёрных два глаза – из одного пункта и из двух пунктов. Это – живая группа. Такую группу камней захватить невозможно.

Д.2. У чёрных есть один глаз из двух пунктов. Как создать второй глаз?



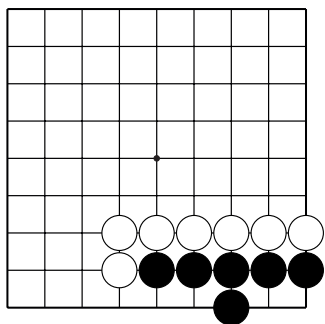
Д.3. Ходом 1 чёрные защищают один свободный пункт, таким образом строя второй глаз. Другими словами, чёрные строят живую группу.



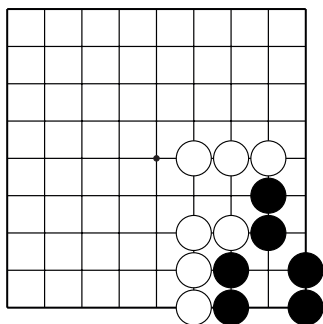
Д.4. Ходом 1 белые не дают чёрным построить второй глаз. И у чёрных остаётся только один глаз из двух пунктов. Другими словами, белые убивают группу чёрных.

**От умения строить живые группы или убивать группы противника зависит уровень вашего мастерства!**

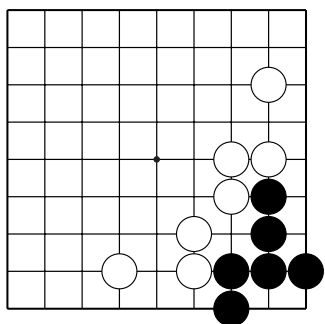
Тема №16. Один глаз из двух пунктов.  
 Ход чёрных.  
 Как **создать** второй глаз?



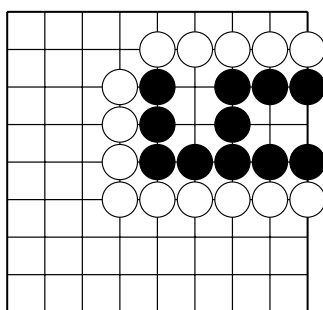
№1



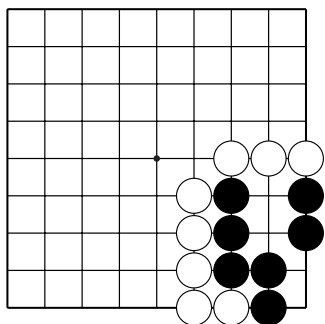
№2



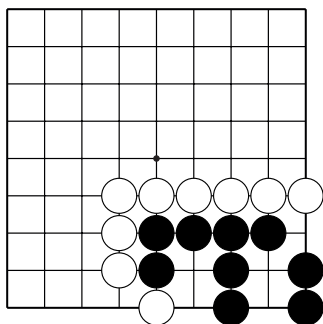
№3



№4

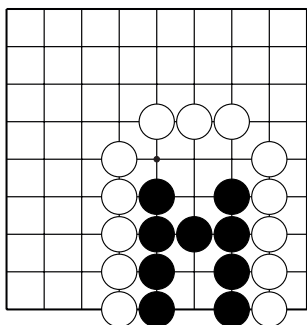


№5

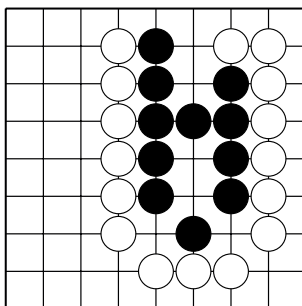


№6

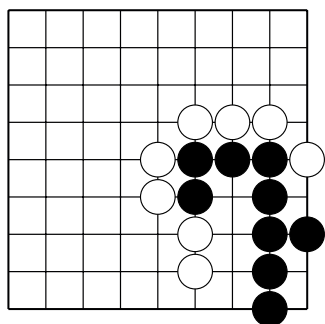
Тема №16. Один глаз из двух пунктов.  
 Ход чёрных.  
 Как **создать** второй глаз?



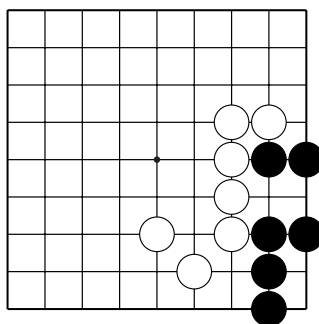
№7



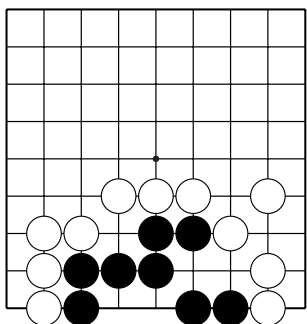
№8



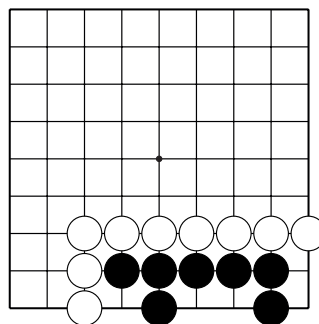
№9



№10

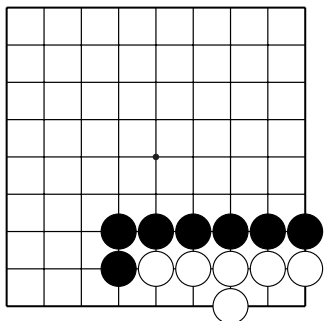


№11

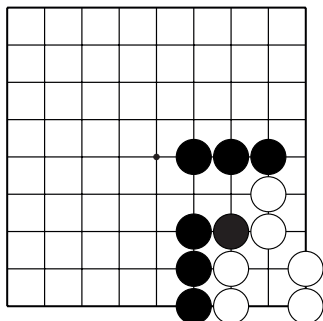


№12

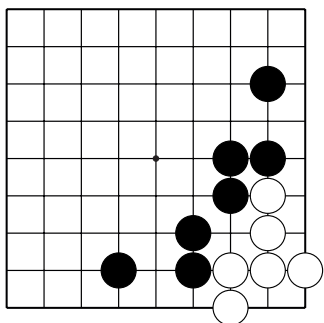
Тема №16. Один глаз из двух пунктов.  
 Ход чёрных.  
 Как **отобрать** второй глаз у белых?



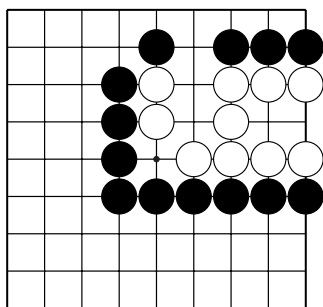
№13



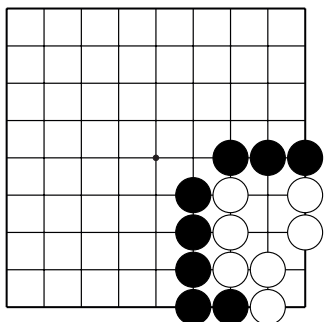
№14



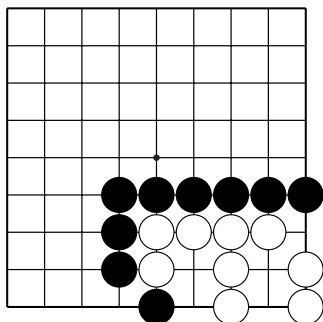
№15



№16

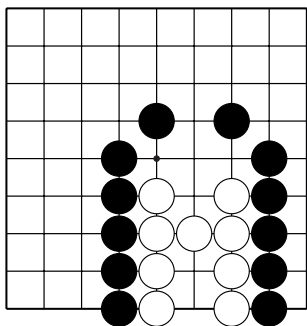


№17

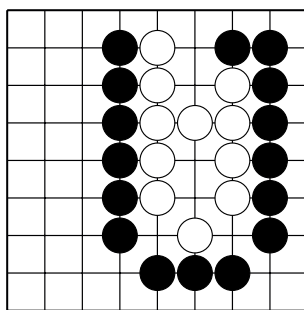


№18

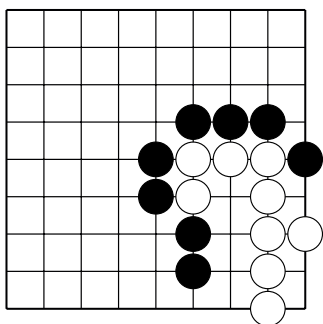
Тема №16. Один глаз из двух пунктов.  
 Ход чёрных.  
 Как **отобрать** второй глаз у белых?



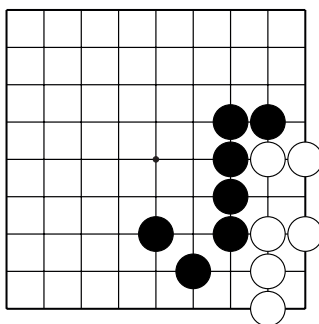
№19



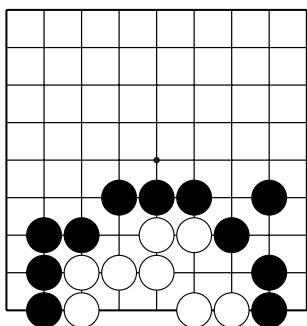
№20



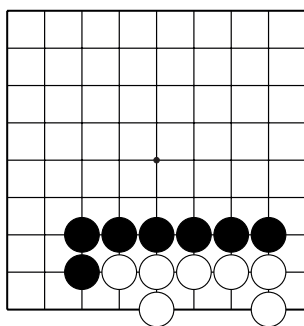
№21



№22



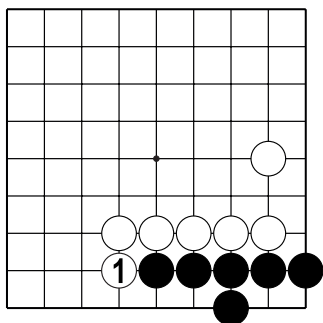
№23



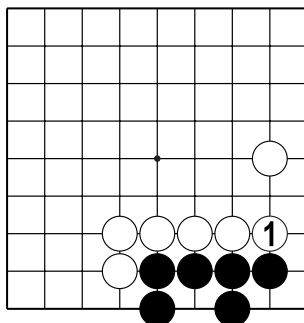
№24

Тема №16. Один глаз из двух пунктов.

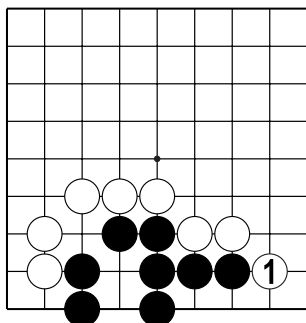
Как чёрным построить второй глаз после хода белых 1?



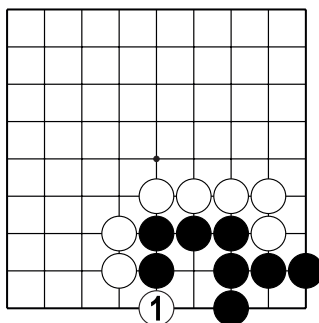
№25



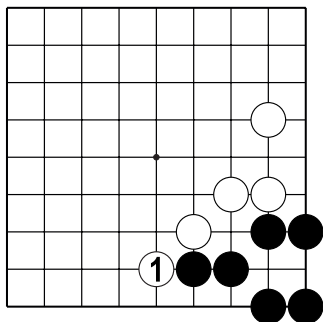
№26



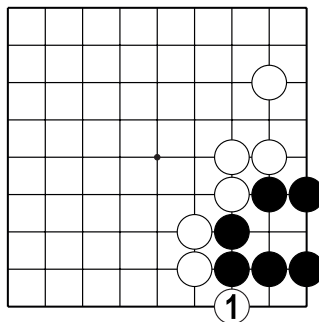
№27



№28



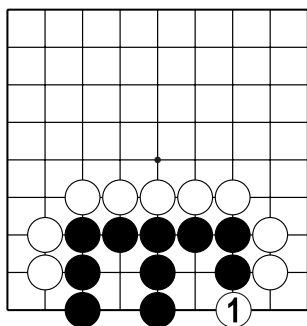
№29



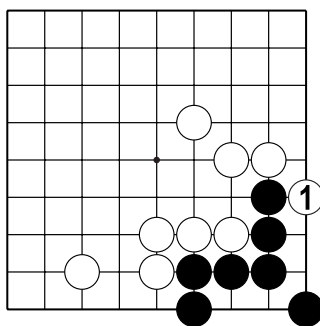
№30

Тема №16. Один глаз из двух пунктов.

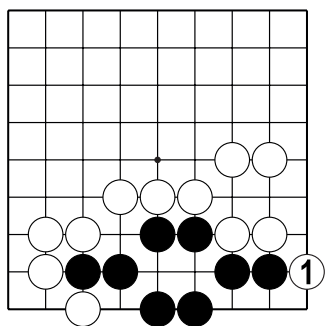
Как чёрным построить второй глаз после хода белых 1?



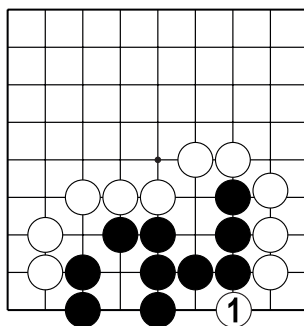
№31



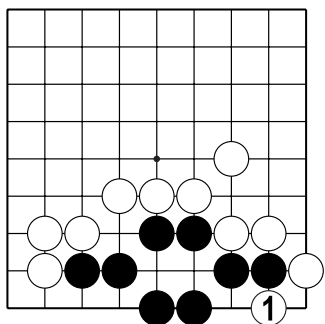
№32



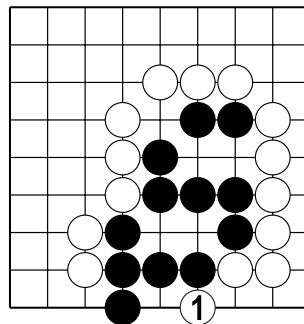
№33



№34



№35

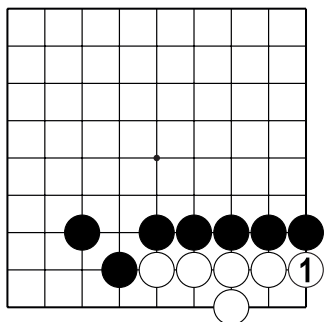


№36

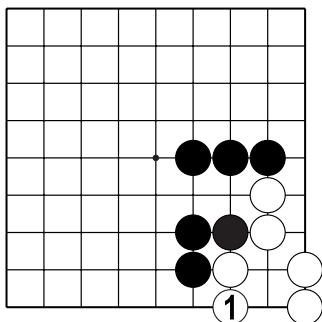


Тема №16. Один глаз из двух пунктов.

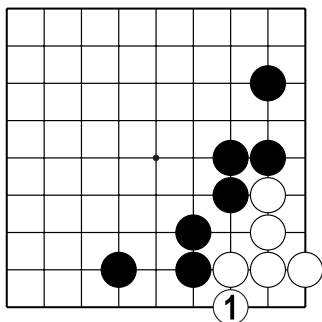
Как чёрным отобрать второй глаз у белых после хода 1?



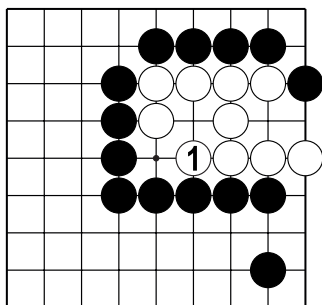
№37



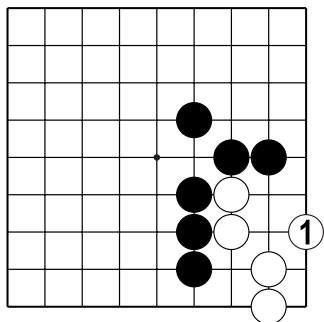
№38



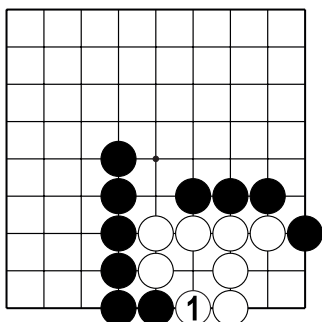
№39



№40



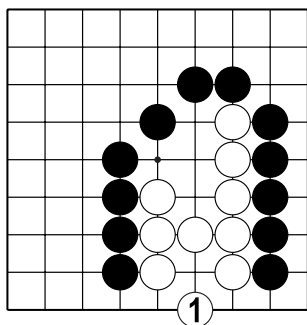
№41



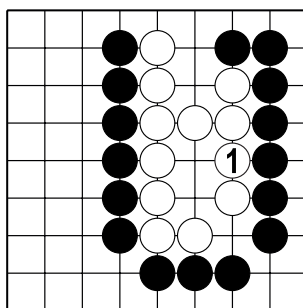
№42

Тема №16. Один глаз из двух пунктов.

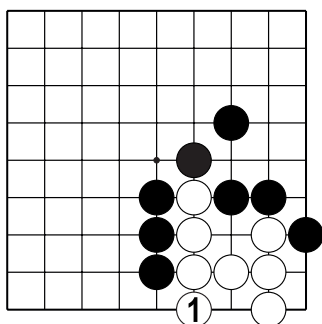
Как чёрным отобрать второй глаз у белых после хода 1?



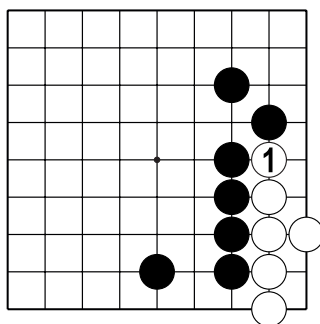
№43



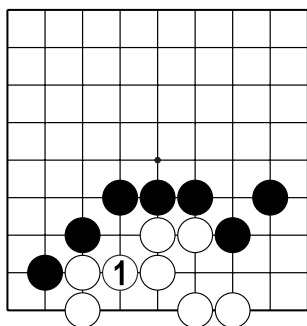
№44



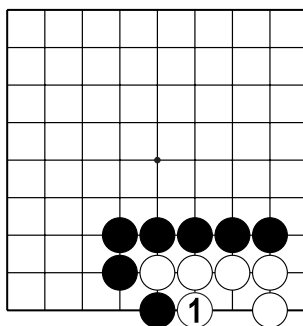
№45



№46



№47

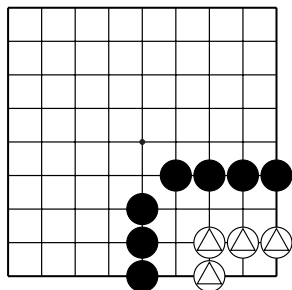


№48

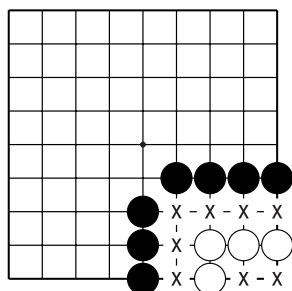
Тема №17. Статус группы.

**Живая группа** – группа, у которой есть или которая может построить два глаза!

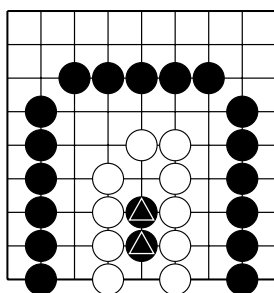
**Мёртвая группа** – группа, у которой нет или которая не может построить два глаза!



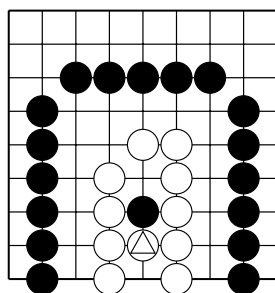
Д.1. Группа белых  $\triangle$  не может построить второй глаз. Такая группа считается мёртвой (пленной) при условии, что окружающие камни чёрных безусловно живы.



Д.2. Закрывать дамэ "х" чёрным не нужно – это будут ходы на свою территорию. По завершению партии камни белых снимутся с доски без дополнительных ходов.



Д.3. Внутри белой группы один глаз из четырёх пунктов. Два камня  $\triangle$  не дают белым создать два глаза. Белая группа мертва.

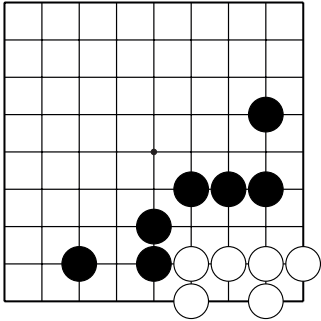


Д.4. Камень  $\triangle$  разделяет глазное пространство белых на две части. То есть группа белых жива. А камень чёрных внутри группы белых мёртв. В конце партии этот камень удаляется с доски, его не нужно добивать.

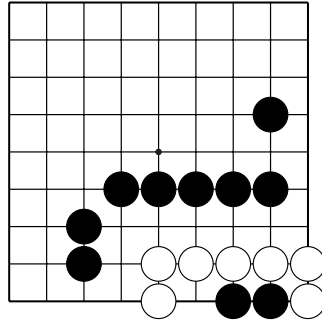
**Чтобы захватить группу, не обязательно закрывать все дамэ. Достаточно отобрать возможность построить два глаза!**

**Пленные камни не нужно добивать без необходимости!**

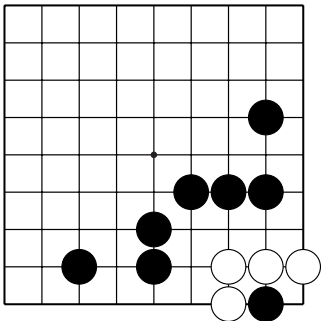
Тема №17. Статус группы.  
 Определите статус белой группы.  
 Живая или мёртвая?



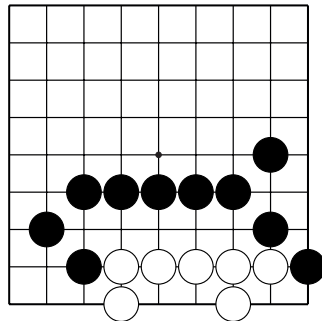
№1 ( )



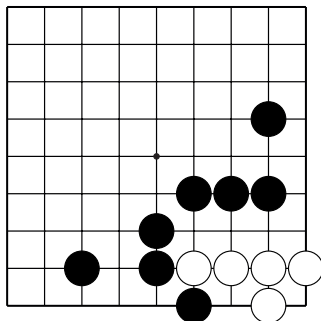
№2 ( )



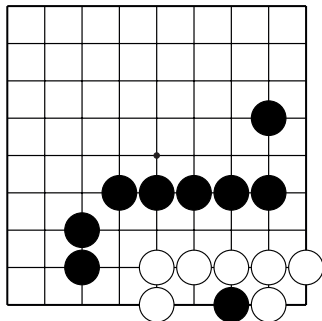
№3 ( )



№4 ( )

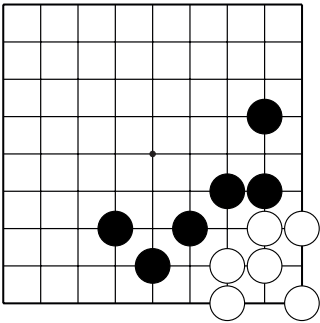


№5 ( )

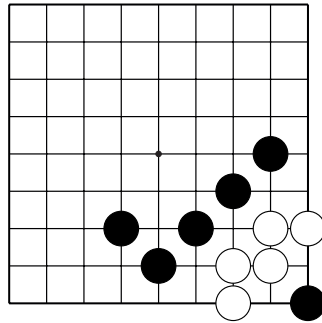


№6 ( )

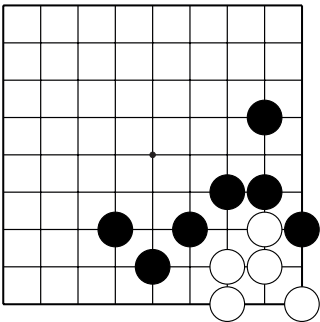
Тема №17. Статус группы.  
 Определите статус белой группы.  
 Живая или мёртвая?



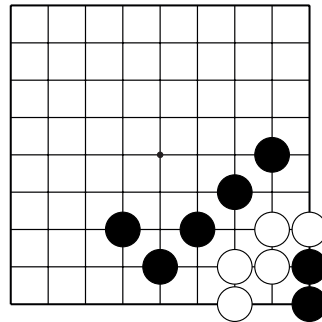
№7 ( )



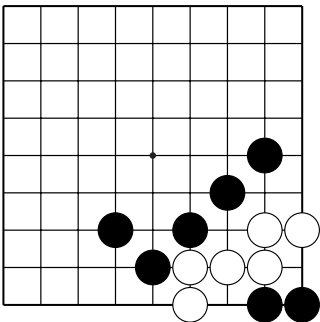
№8 ( )



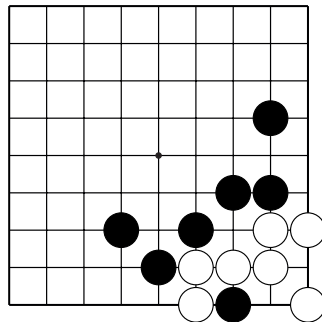
№9 ( )



№10 ( )

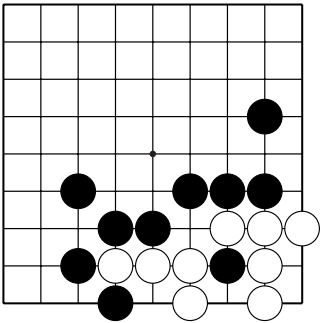


№11 ( )

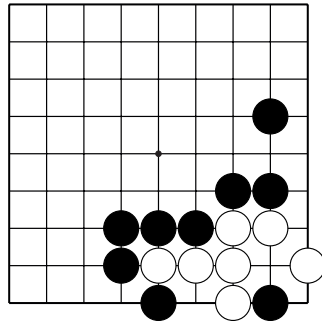


№12 ( )

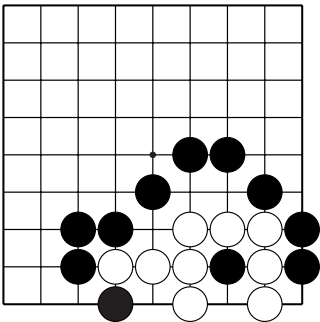
Тема №17. Статус группы.  
 Определите статус белой группы.  
 Живая или мёртвая?



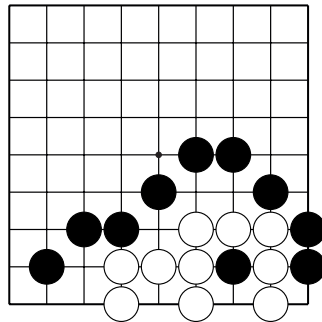
№13 ( )



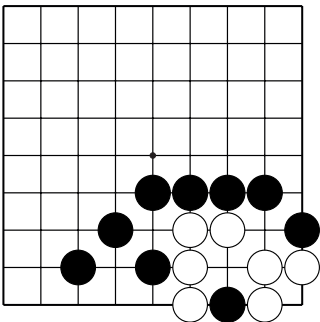
№14 ( )



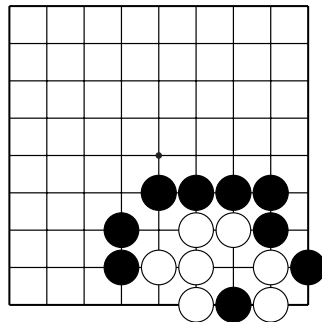
№15 ( )



№16 ( )

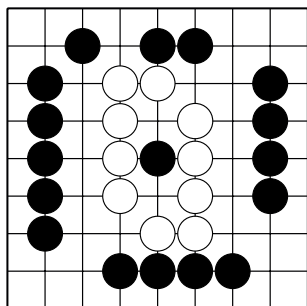


№17 ( )

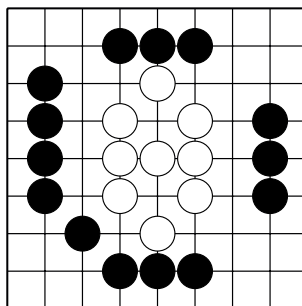


№18 ( )

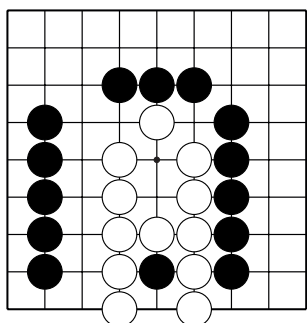
Тема №17. Статус группы.  
 Определите статус белой группы.  
 Живая или мёртвая?



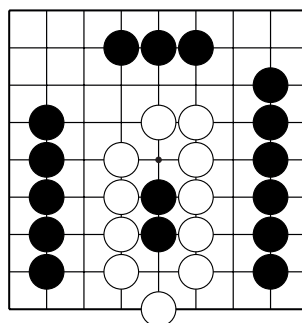
№19 ( )



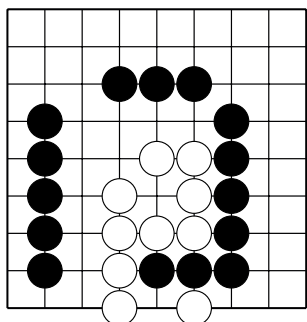
№20 ( )



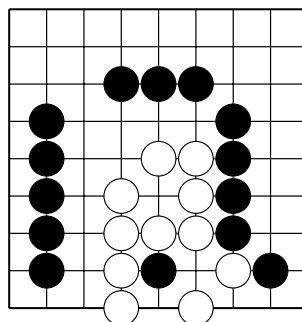
№21 ( )



№22 ( )

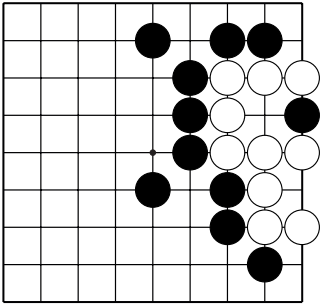


№23 ( )

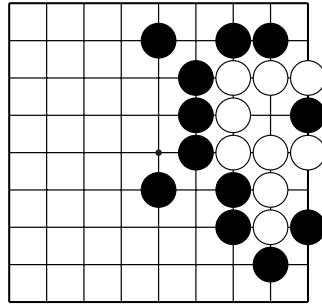


№24 ( )

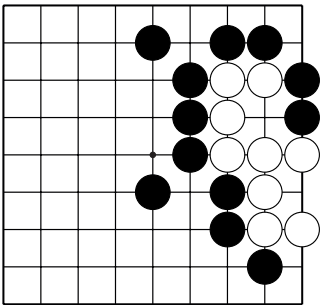
Тема №17. Статус группы.  
 Определите статус белой группы.  
 Живая или мёртвая?



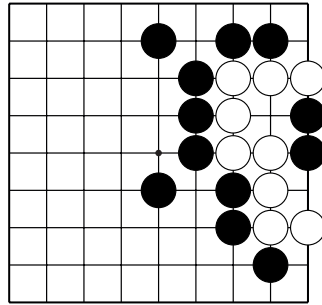
№25 ( )



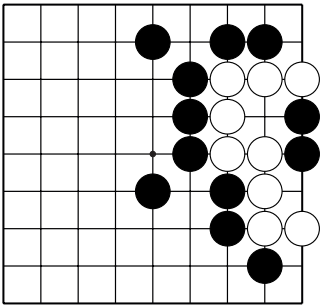
№26 ( )



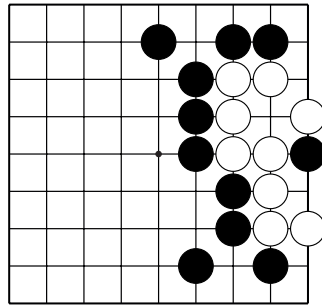
№27 ( )



№28 ( )



№29 ( )



№30 ( )