

Евгений Панюков

**ИГРА ГО  
ВТОРОЙ ЗАДАЧНИК  
ДЛЯ НАЧИНАЮЩИХ  
(IV часть,  
повторение пройденного)**

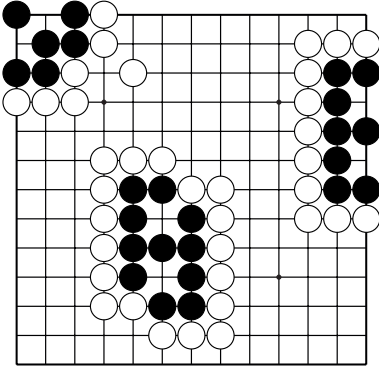
## Содержание

Жизнь и смерть групп.....	1
Статус группы .....	30
Сэки .....	35
Ко-борьба .....	41
Конкурс решения задач .....	45
Контрольные и итоговые тесты .....	57

## Угол – сторона – центр

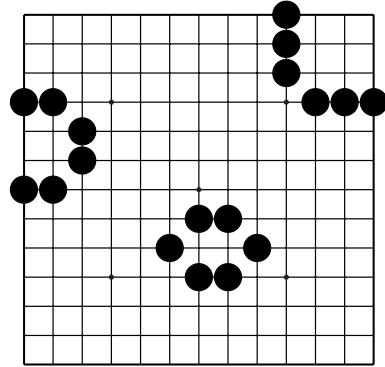
На игровых полях 13x13 и 19x19 первый камень обычно ставят в углу, но не ниже третьей линии!

Угол – очень важная часть игрового поля, этому есть простые доказательства.



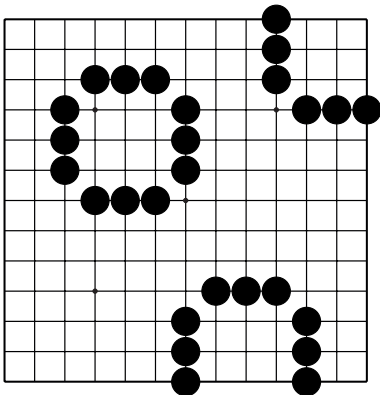
### Д.1. Доказательство I:

Чтобы построить живую группу нужно в углу – шесть камней, на стороне – восемь, в центре – одиннадцать.



### Д.2. Доказательство II:

Шестью камнями можно окружить в углу девять очков, на стороне – четыре, в центре – два.



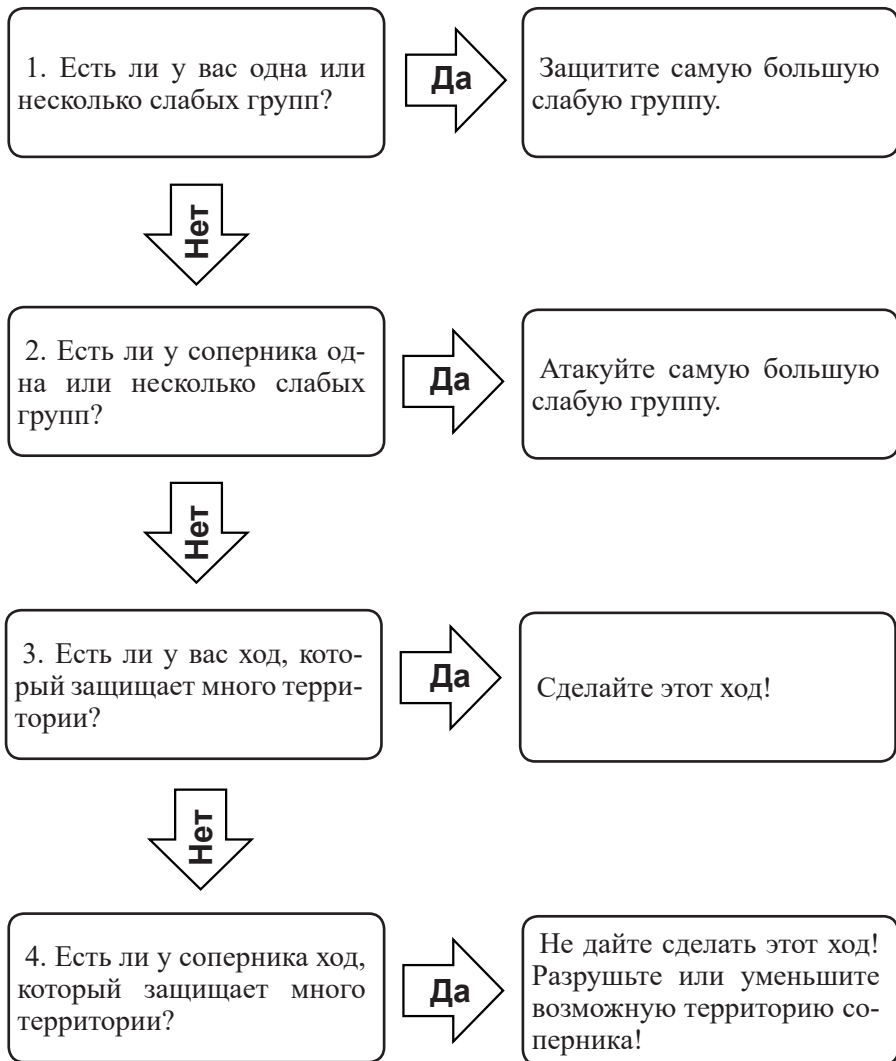
### Д.3. Доказательство III:

Чтобы окружить девять очков, в углу нужно поставить шесть камней. На стороне – девять камней. В центре – двенадцать!

Очевидно, чтобы построить территорию в центре, нужно приложить больше усилий (поставить больше камней), чем на стороне, а на стороне больше, чем в углу.

Доказательства построения живых групп и территории определяет последовательность игры: **угол – сторона – центр!**

**Чтобы выбрать следующий ход, нужно ответить на 4 вопроса:**

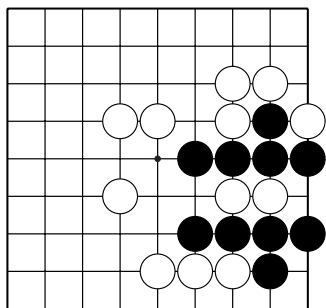


**Идеальный ход преследует несколько целей, но приоритет отдавайте ходу, который отвечает на один из этих вопросов.**

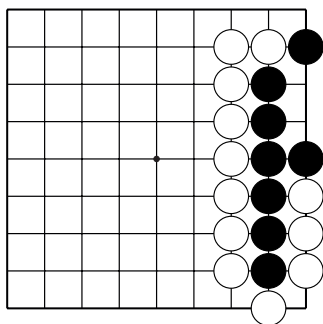
# Жизнь и смерть групп

Ход чёрных. Как выжить?

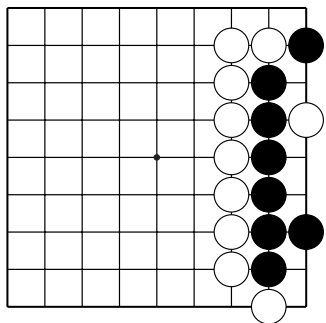
Укажите 1 ход.



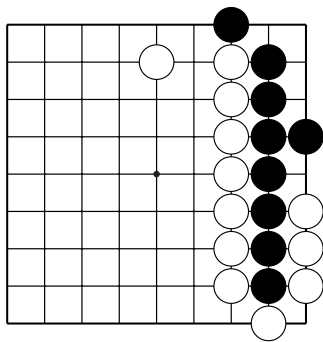
№1



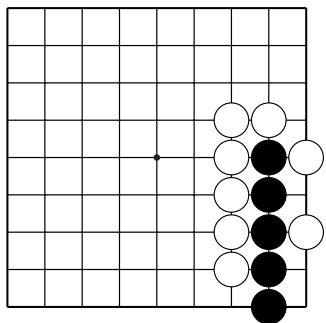
№2



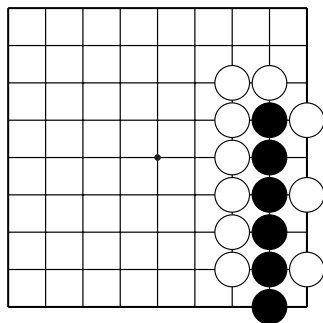
№3



№4



№5

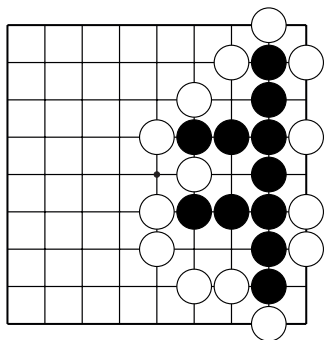


№6

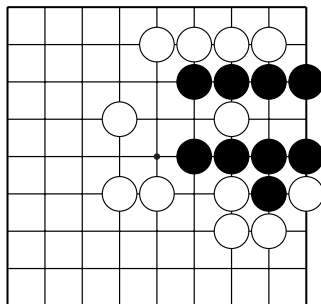
## Жизнь и смерть групп

Ход чёрных. Как выжить?

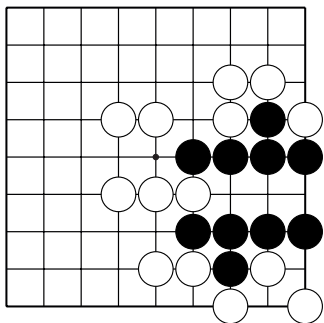
Укажите 1 ход.



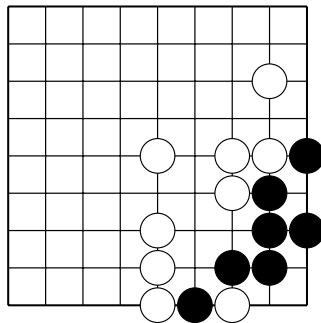
№7



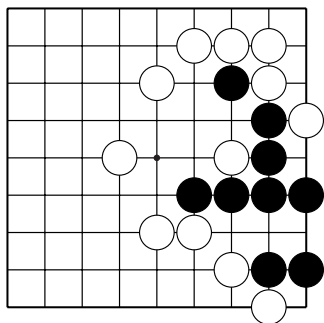
№8



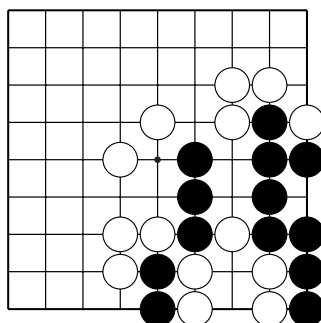
№9



№10



№11

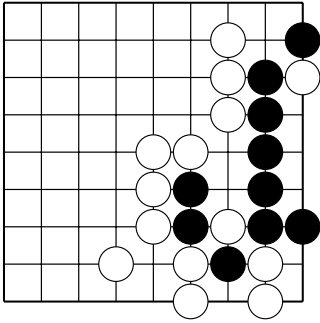


№12

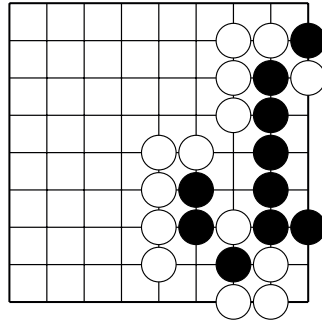
# Жизнь и смерть групп

Ход чёрных. Как выжить?

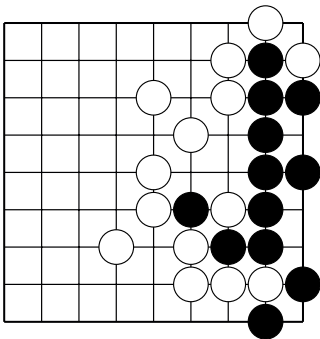
Укажите 1 ход.



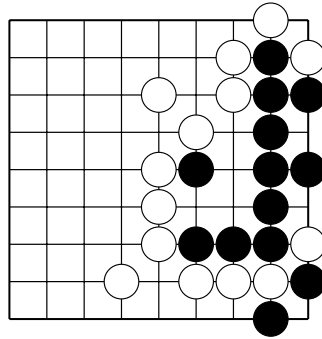
№13



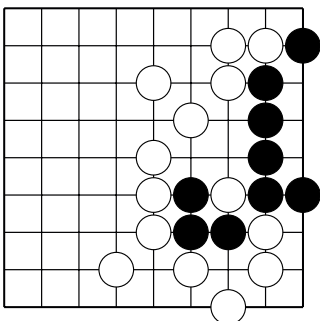
№14



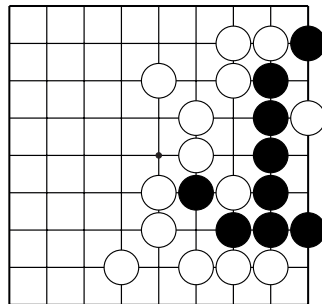
№15



№16



№17

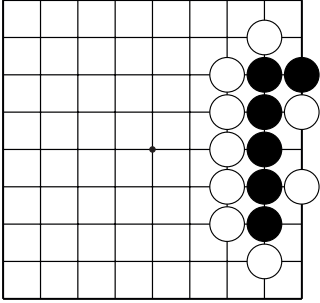


№18

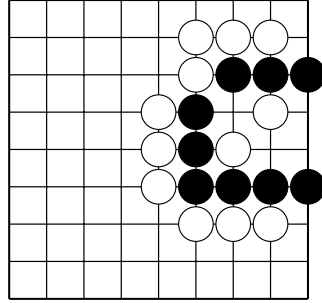
# Жизнь и смерть групп

Ход чёрных. Как выжить?

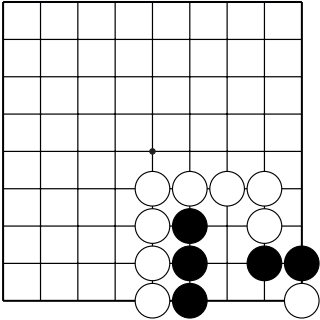
Укажите 1 ход.



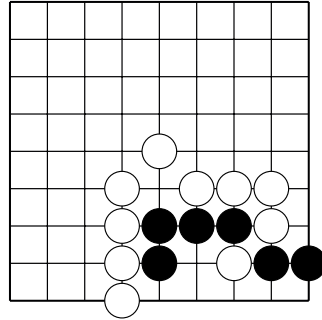
№19



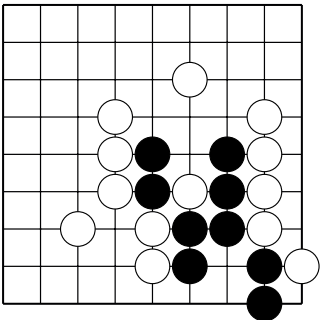
№20



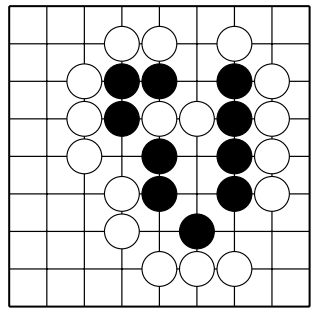
№21



№22



№23



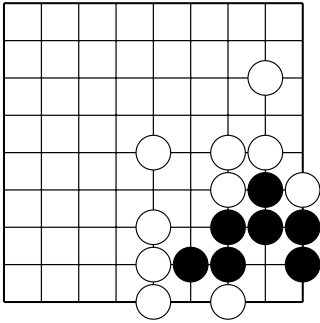
№24



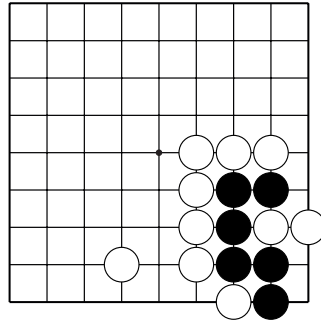
# Жизнь и смерть групп

Ход чёрных. Как выжить?

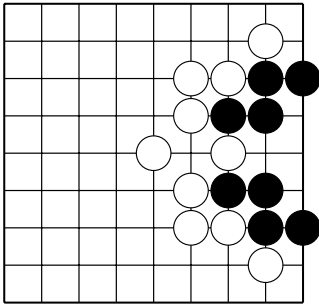
Укажите 1 ход.



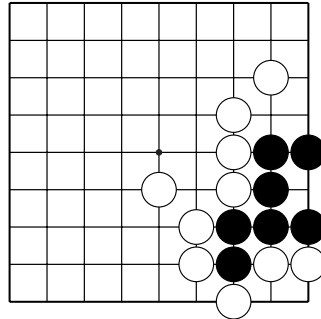
№25



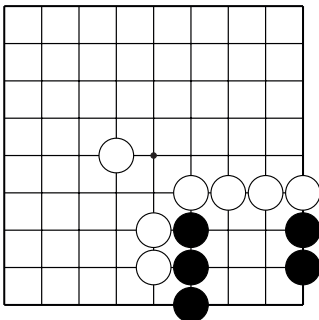
№26



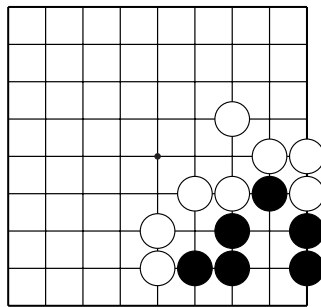
№27



№28



№29

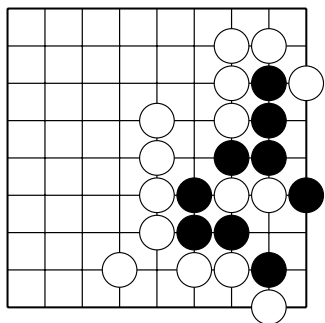


№30

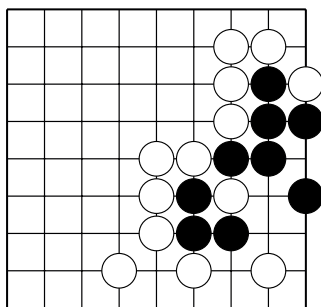
## Жизнь и смерть групп

Ход чёрных. Как выжить?

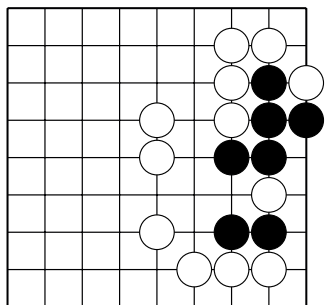
Укажите 1 ход.



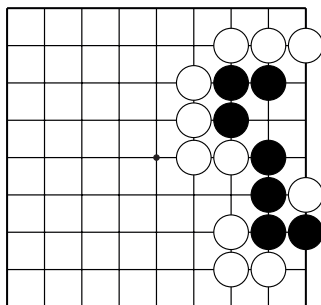
№31



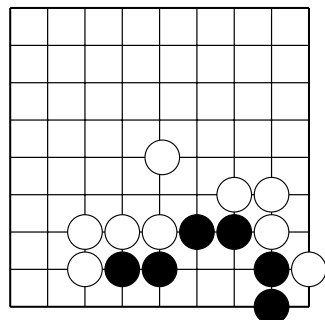
№32



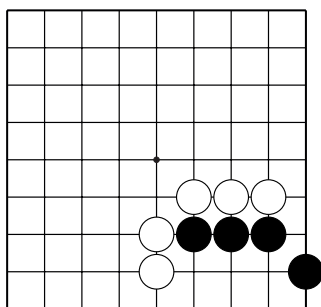
№33



№34



№35

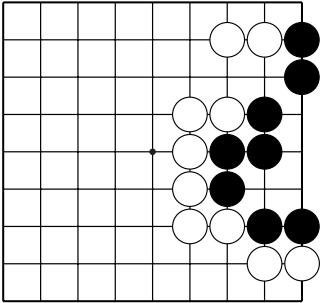


№36

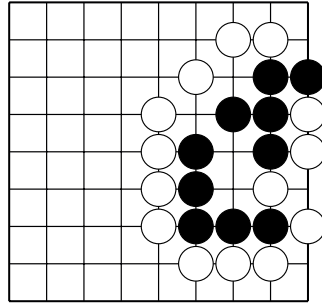
# Жизнь и смерть групп

Ход чёрных. Как выжить?

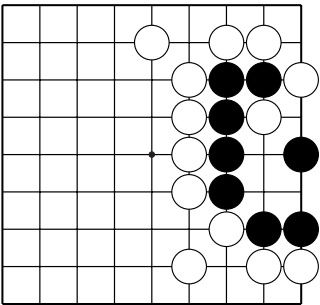
Укажите 1 ход.



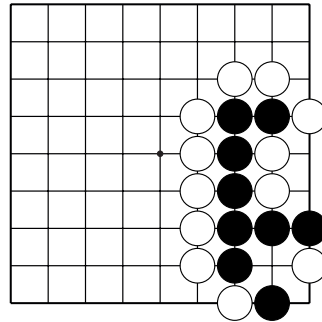
№37



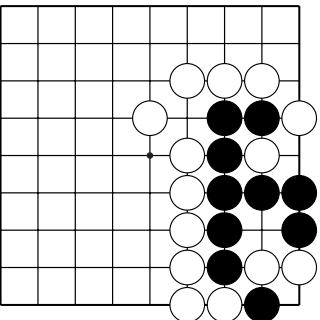
№38



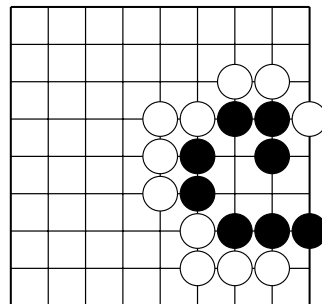
№39



№40



№41

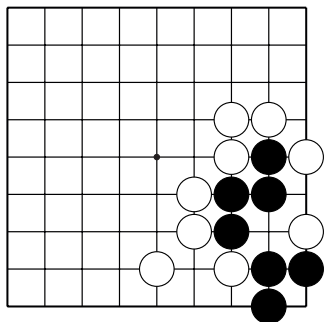


№42

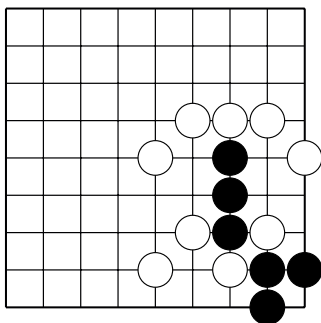
## Жизнь и смерть групп

Ход чёрных. Как выжить?

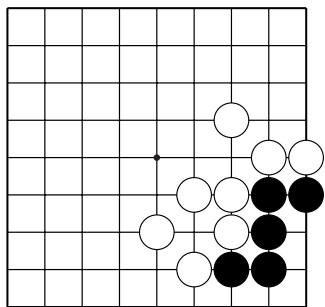
Укажите 1 ход.



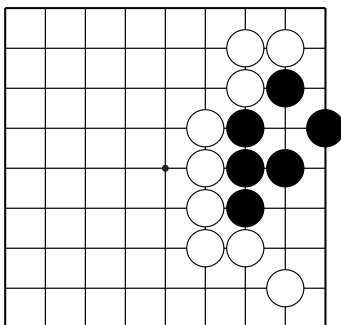
№43



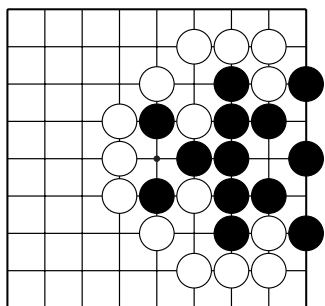
№44



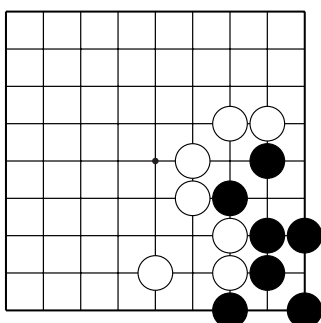
№45



№46



№47

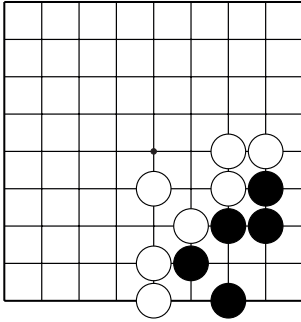


№48

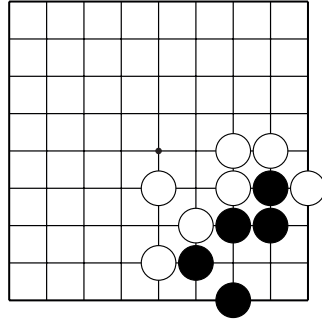
# Жизнь и смерть групп

Ход чёрных. Как выжить?

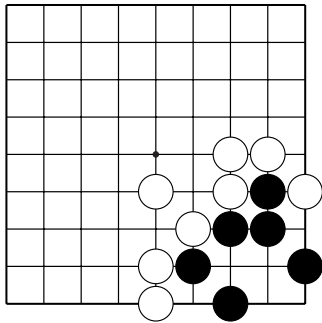
Укажите 1 ход.



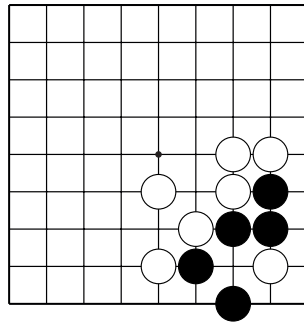
№49



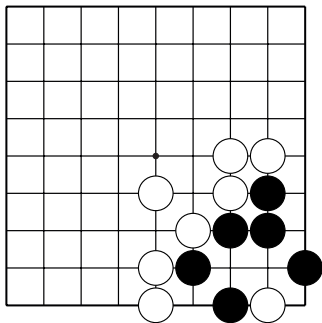
№50



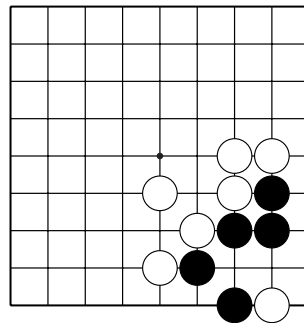
№51



№52



№53

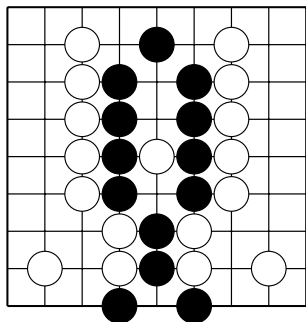


№54

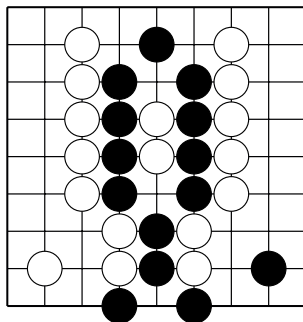
## Жизнь и смерть групп

Ход чёрных. Как выжить?

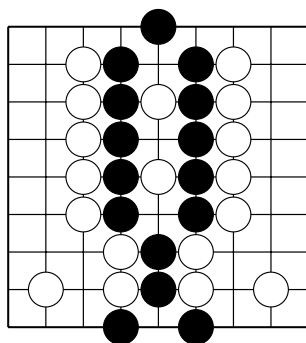
Укажите 1 ход.



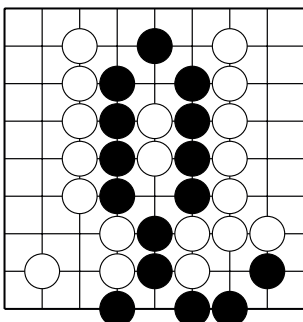
№55



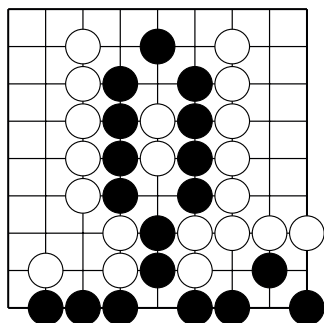
№56



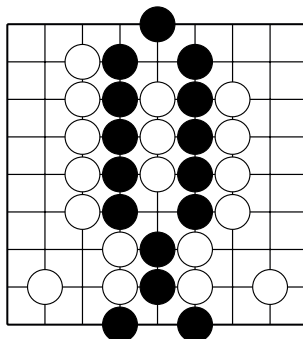
№57



№58



№59



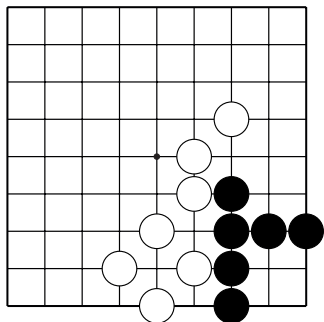
№60



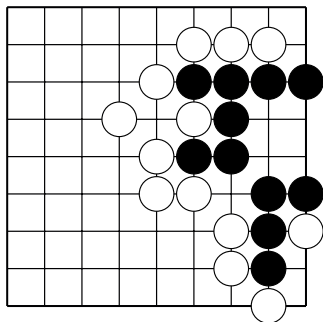
## Жизнь и смерть групп

Ход чёрных. Как выжить?

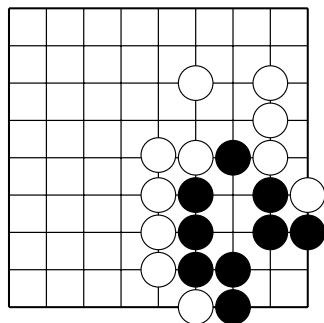
Укажите 1 ход.



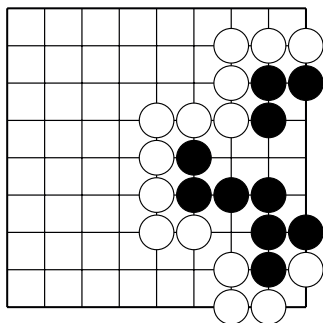
№67



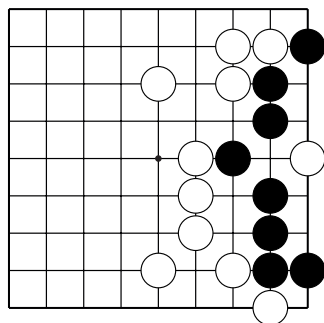
№68



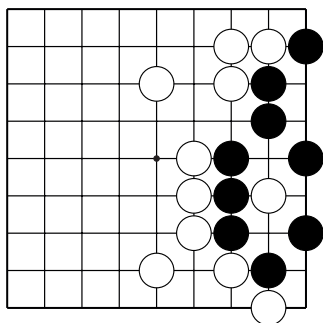
№69



№70



№71



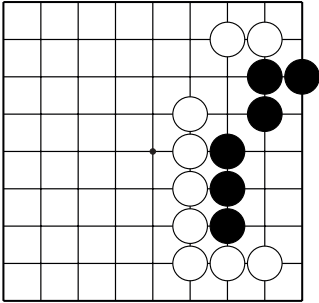
№72



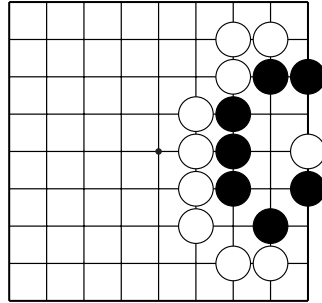
## Жизнь и смерть групп

Ход чёрных. Как выжить?

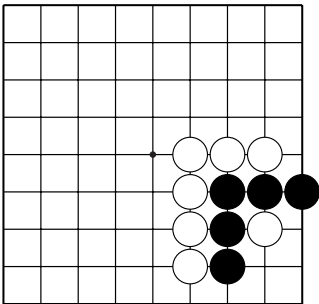
Укажите 1 ход.



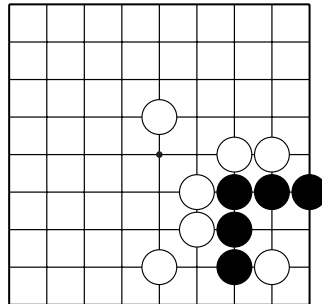
№73



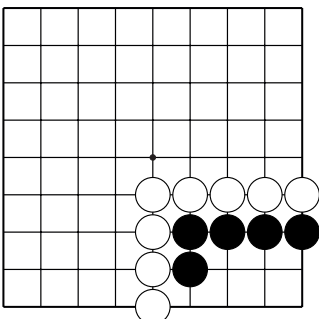
№74



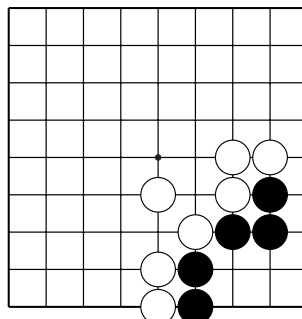
№75



№76



№77

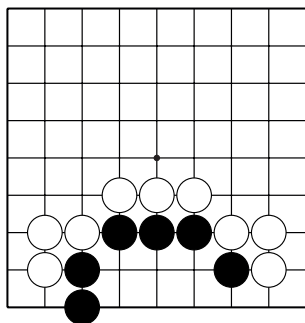


№78

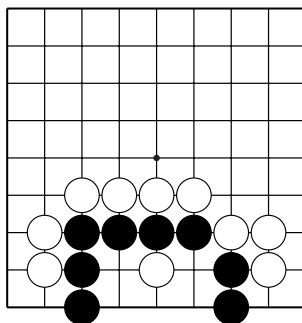
# Жизнь и смерть групп

Ход чёрных. Как выжить?

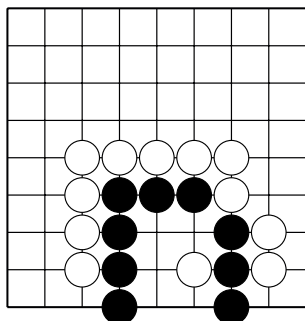
Укажите 1 ход.



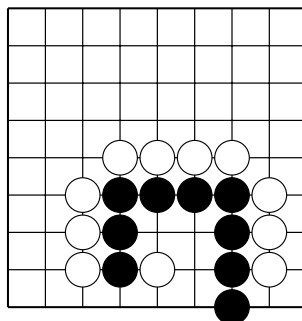
№79



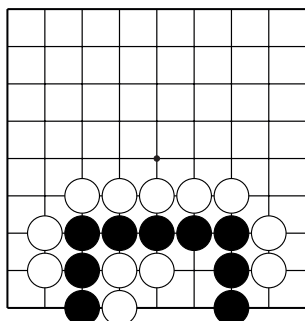
№80



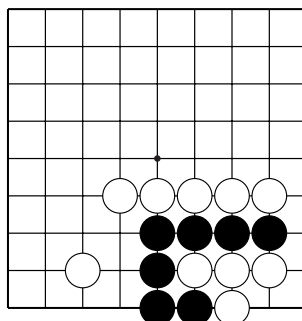
№81



№82



№83. 3 хода.

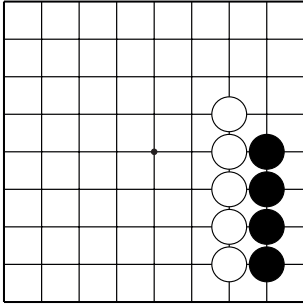


№84. 3 хода.

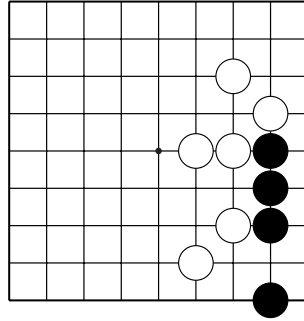
# Жизнь и смерть групп

Ход чёрных. Как выжить?

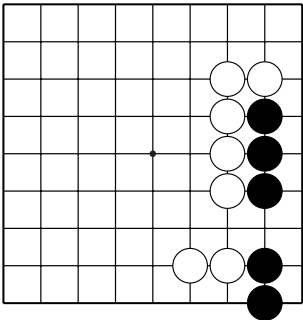
Укажите 1 ход.



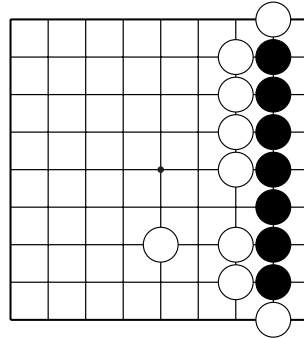
№85



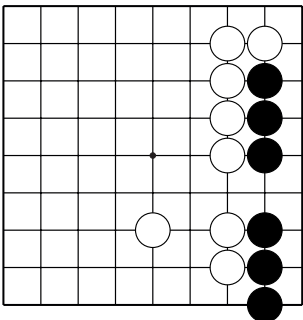
№86



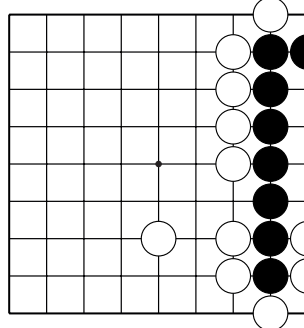
№87



№88



№89

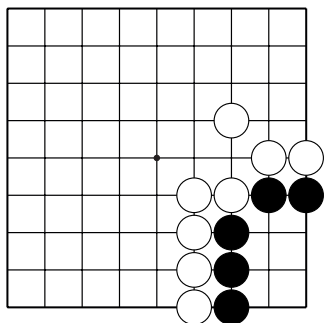


№90

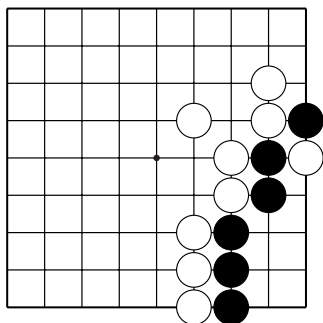
## Жизнь и смерть групп

Ход чёрных. Как выжить?

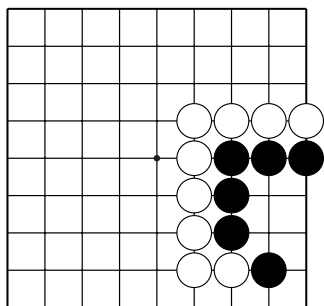
Укажите 1 ход.



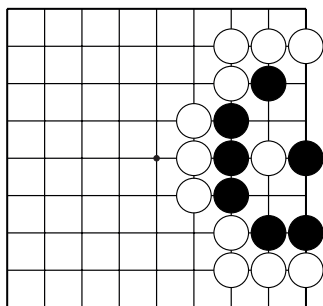
№91



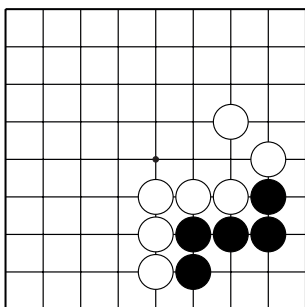
№92



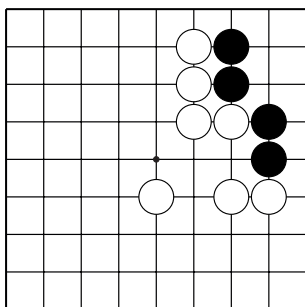
№93



№94



№95

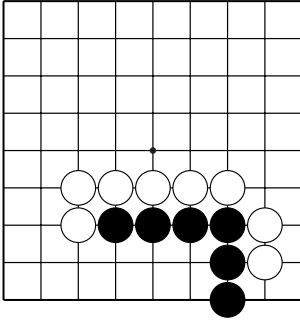


№96

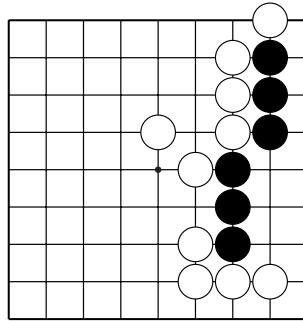
## Жизнь и смерть групп

Ход чёрных. Как выжить?

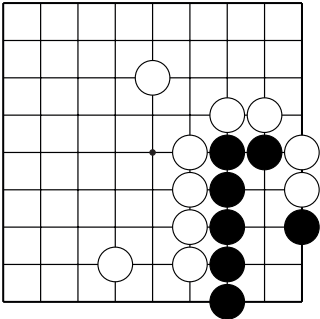
Укажите 3 хода.



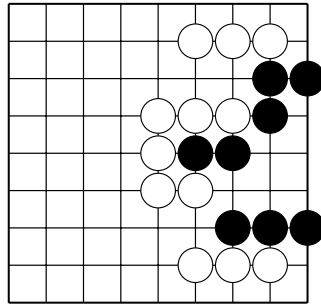
№97



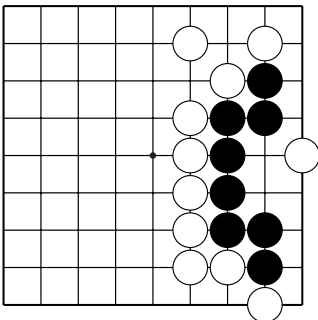
№98



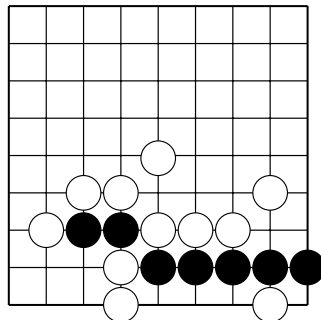
№99



№100



№101

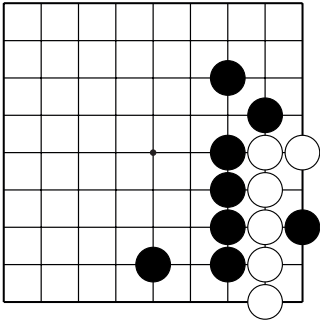


№102

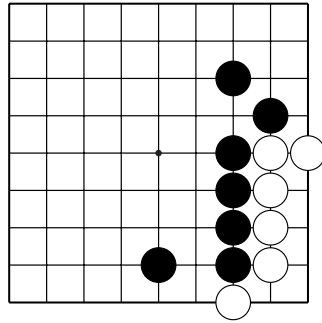
## Жизнь и смерть групп

Ход чёрных. Как убить группу белых?

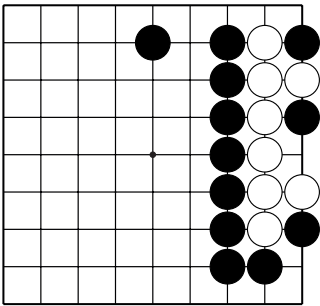
Укажите 1 ход.



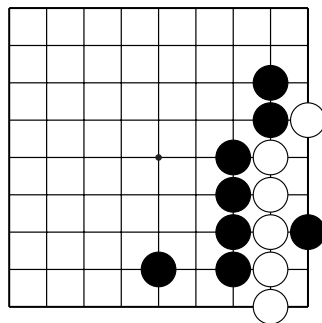
№103



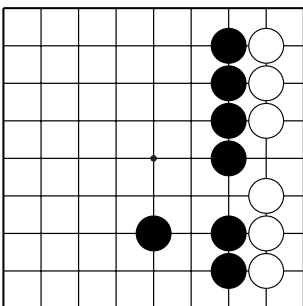
№104



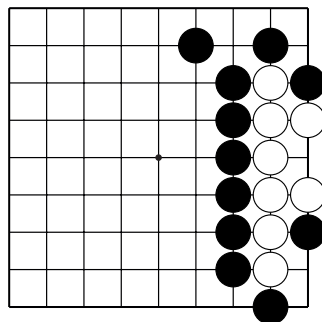
№105



№106



№107

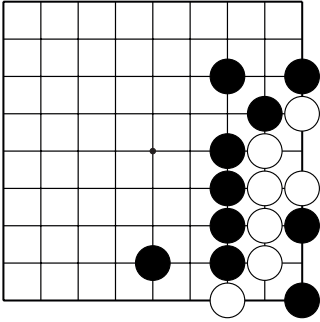


№108

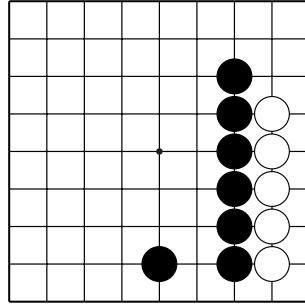
## Жизнь и смерть групп

Ход чёрных. Как убить группу белых?

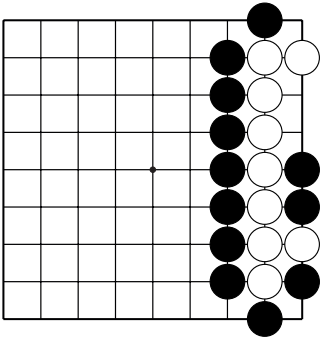
Укажите 1 ход.



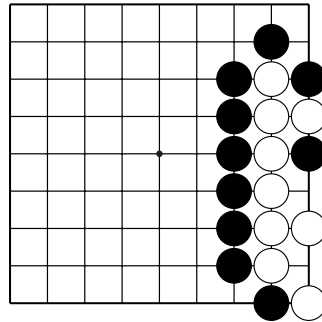
№109



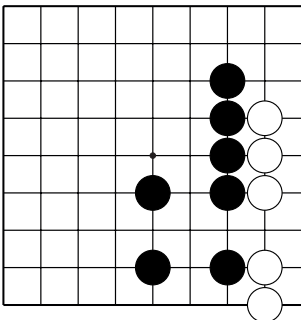
№110



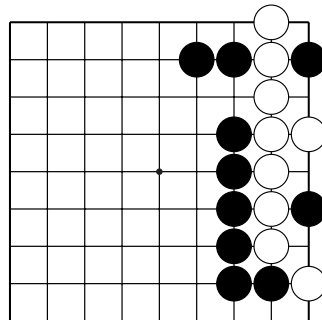
№111



№112



№113

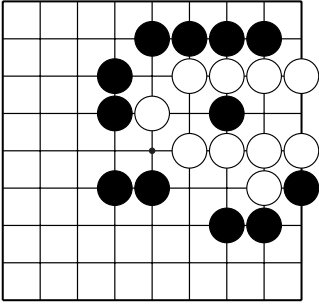


№114

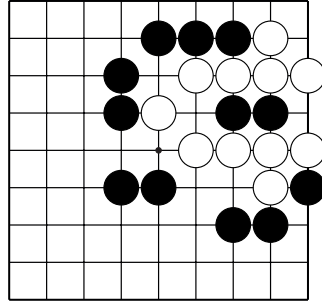
## Жизнь и смерть групп

Ход чёрных. Как убить группу белых?

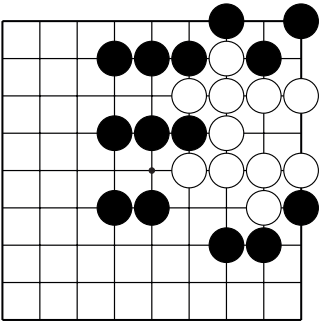
Укажите 1 ход.



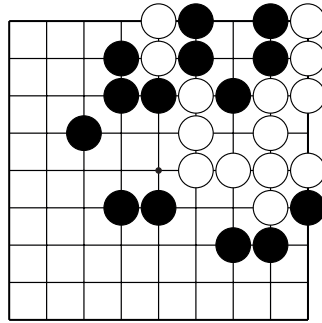
№115



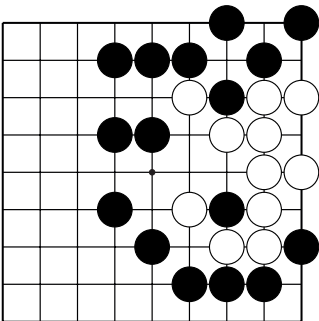
№116



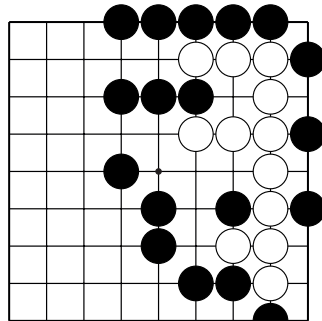
№117



№118



№119



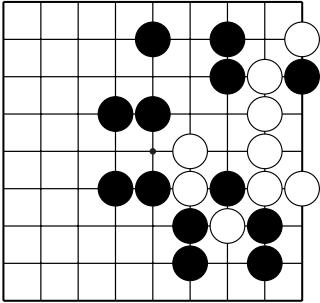
№120



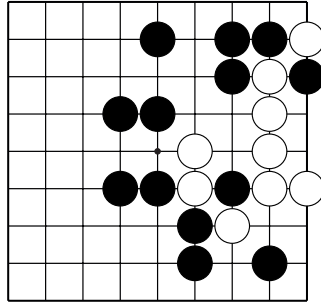
## Жизнь и смерть групп

Ход чёрных. Как убить группу белых?

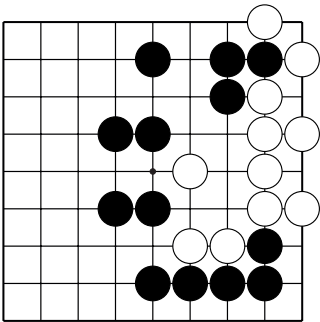
Укажите 1 ход.



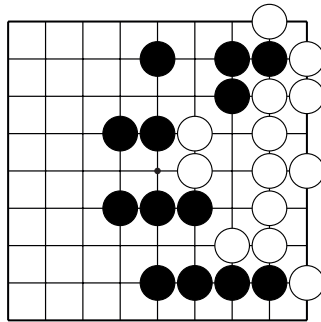
№121



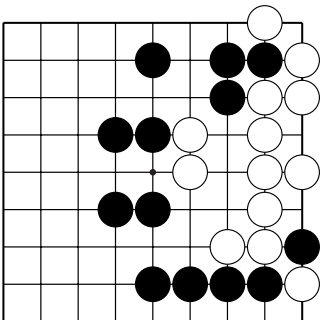
№122



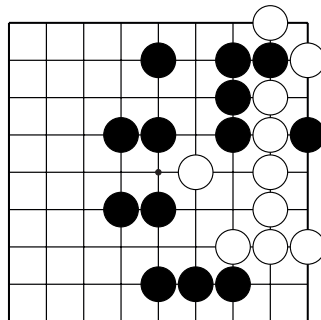
№123



№124



№125

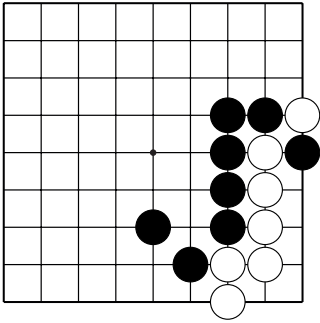


№126

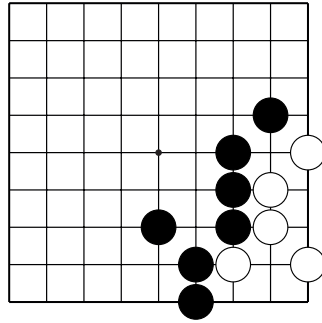
## Жизнь и смерть групп

Ход чёрных. Как убить группу белых?

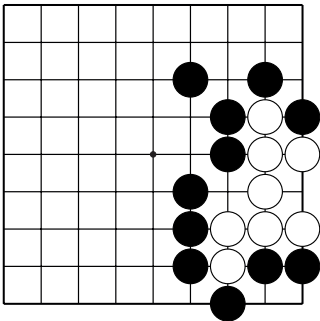
Укажите 1 ход.



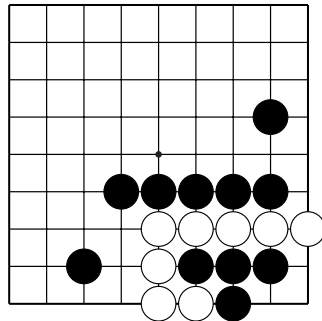
№127



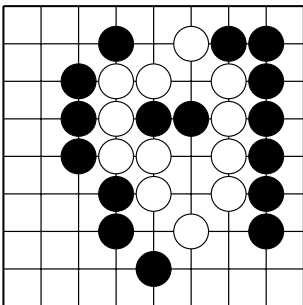
№128



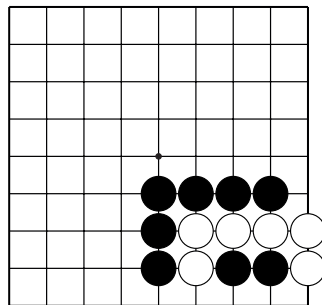
№129



№130



№131

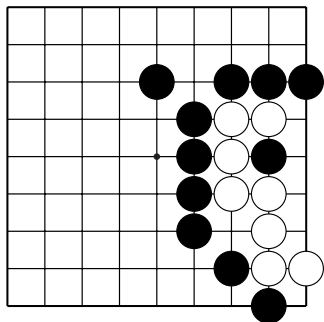


№132

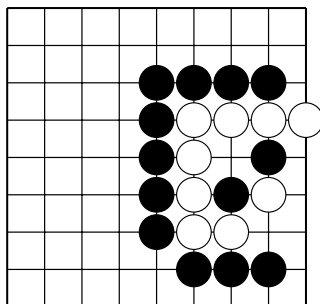
## Жизнь и смерть групп

Ход чёрных. Как убить группу белых?

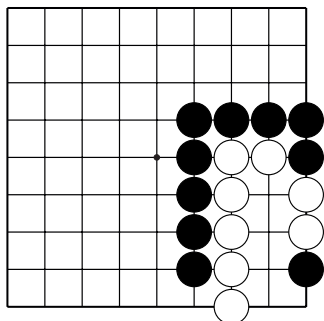
Укажите 3 хода.



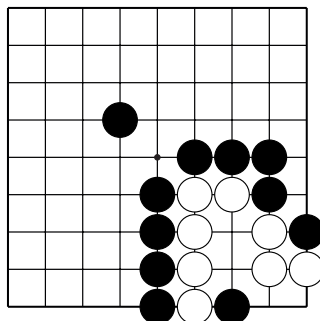
№133



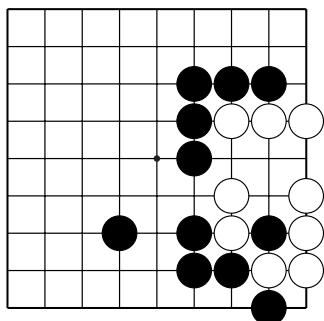
№134



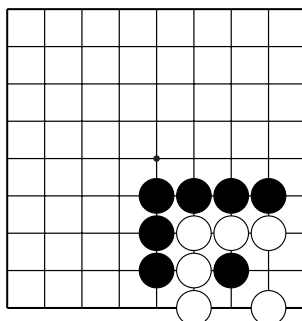
№135



№136



№137

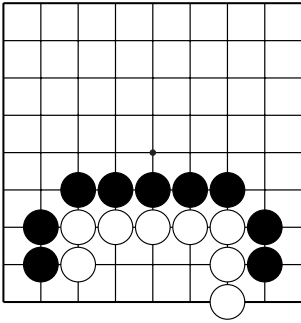


№138

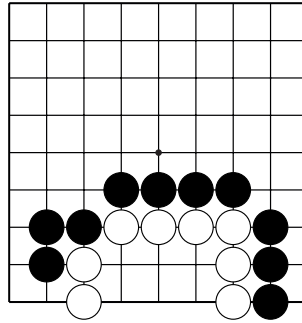
## Жизнь и смерть групп

Ход чёрных. Как убить группу белых?

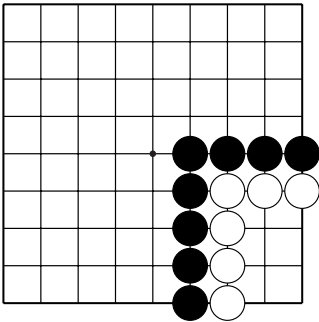
Укажите 3 хода.



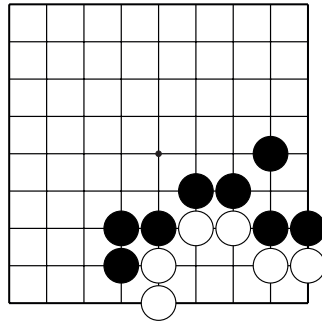
№139



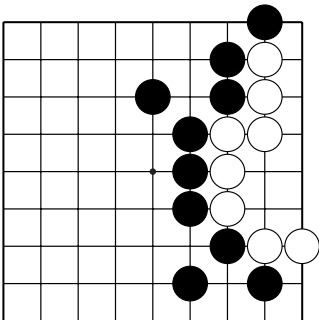
№140



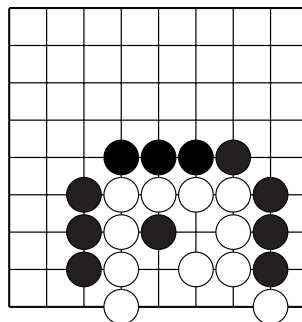
№141



№142



№143

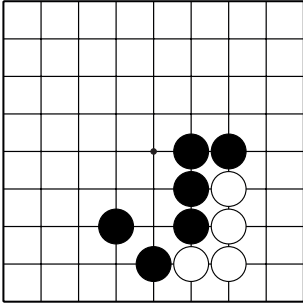


№144

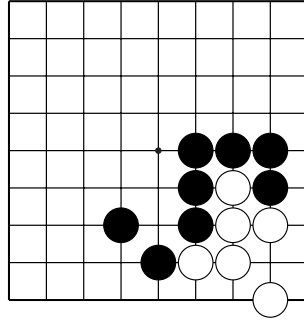
## Жизнь и смерть групп

Ход чёрных. Как убить группу белых?

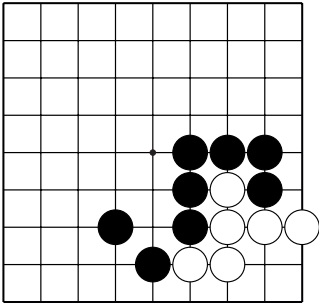
Укажите 3 хода.



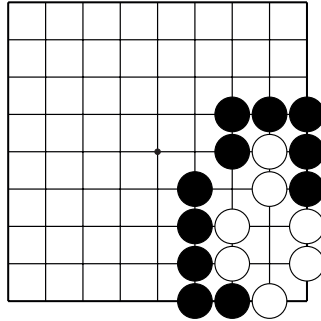
№145



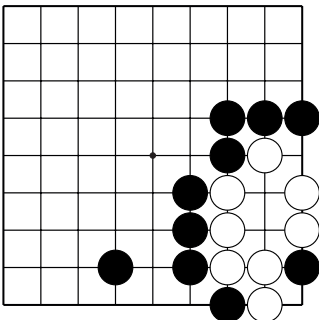
№146



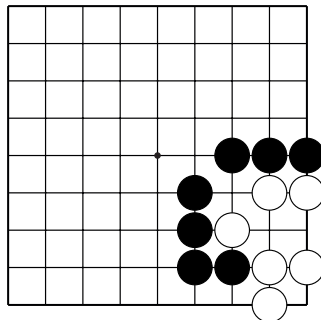
№147



№148



№149

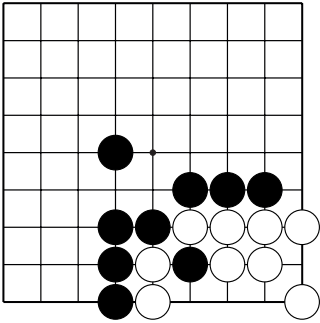


№150

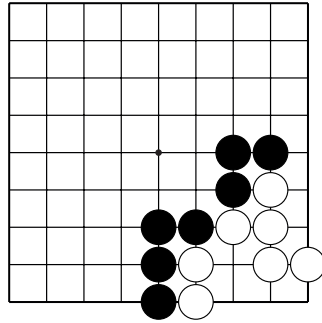
## Жизнь и смерть групп

Ход чёрных. Как убить группу белых?

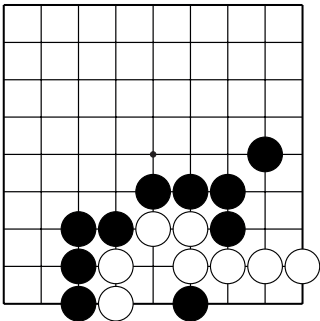
Укажите 1 ход.



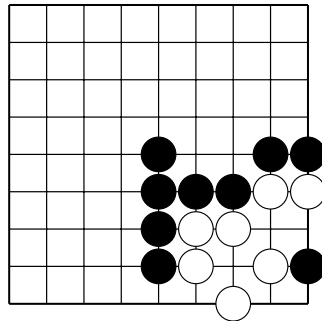
№151



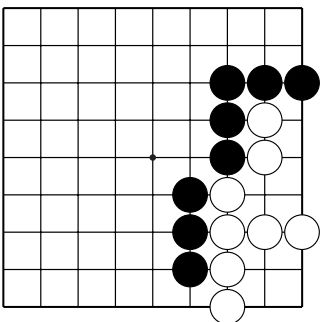
№152



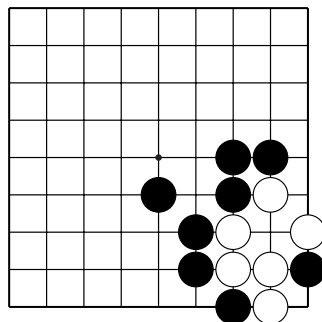
№153



№154



№155

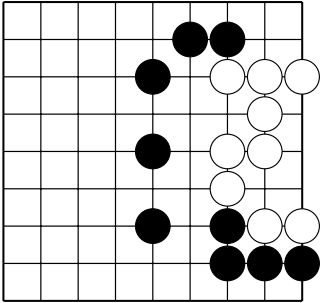


№156

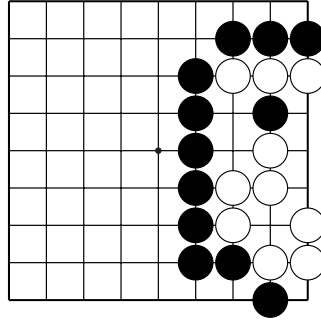
## Жизнь и смерть групп

Ход чёрных. Как убить группу белых?

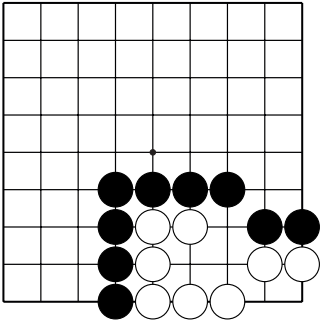
Укажите 3 хода.



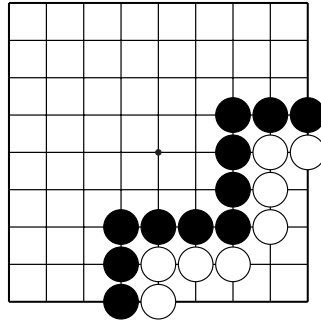
№157



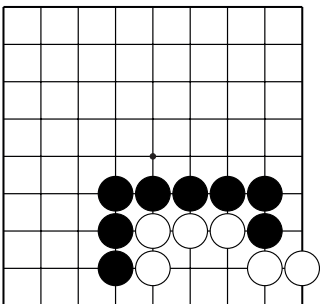
№158



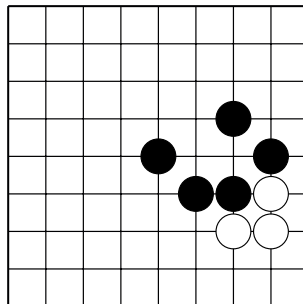
№159



№160



№161

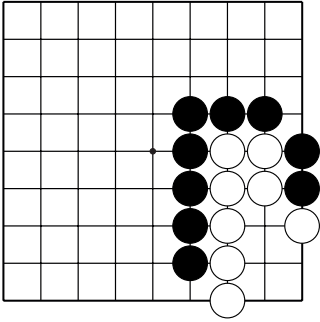


№162

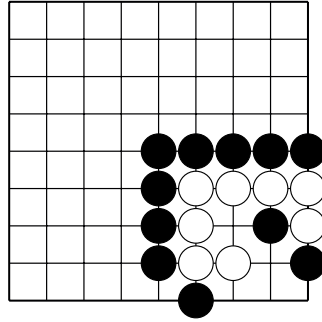
## Жизнь и смерть групп

Ход чёрных. Как убить группу белых?

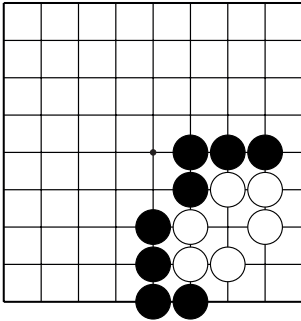
Укажите 3 хода.



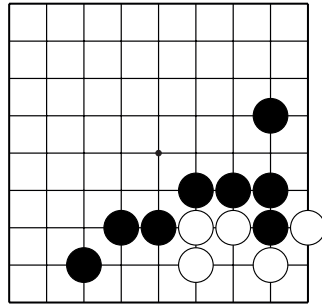
№163



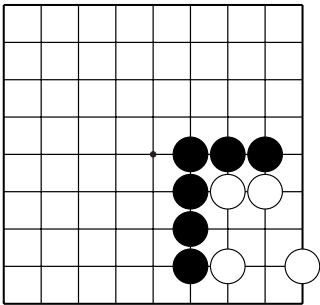
№164



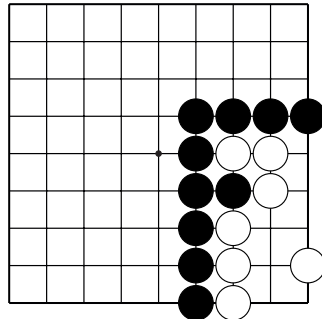
№165



№166



№167



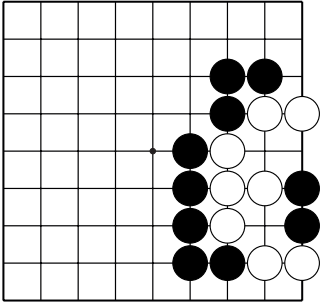
№168



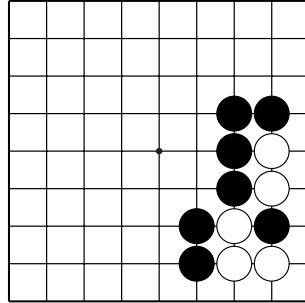
## Жизнь и смерть групп

Ход чёрных. Как убить группу белых?

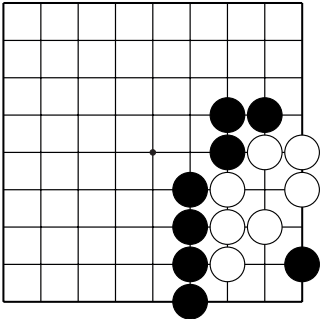
Укажите 3 хода.



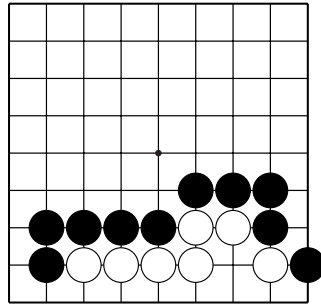
№169



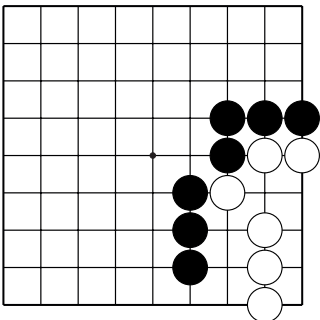
№170



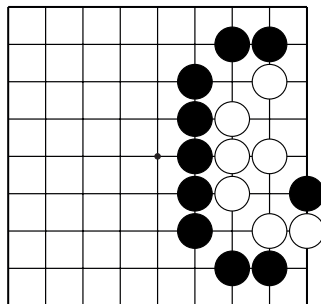
№171



№172



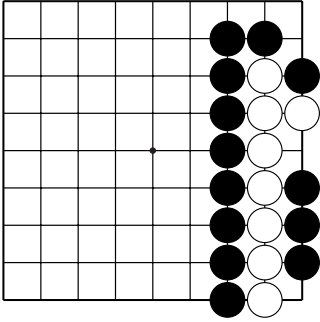
№173



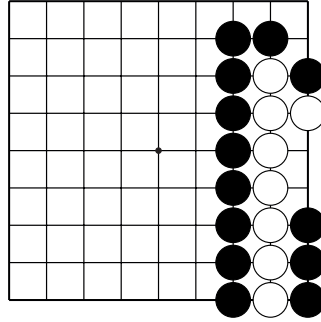
№174

# Статус группы

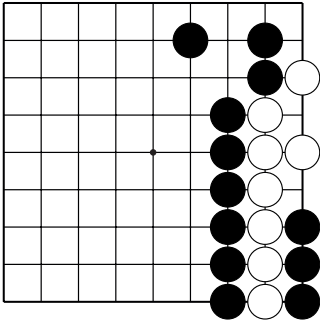
Какой статус группы белых: живая, мёртвая, сэки?



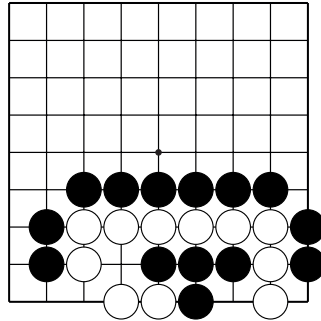
№1 ( )



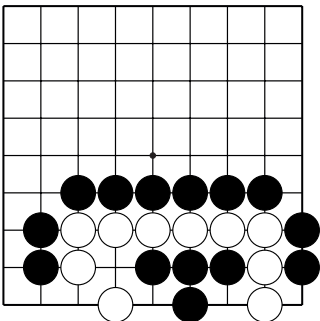
№2 ( )



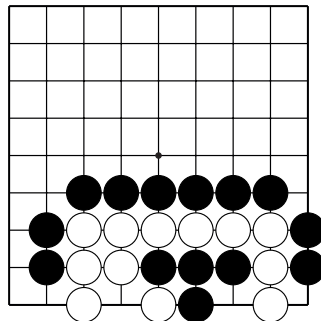
№3 ( )



№4 ( )



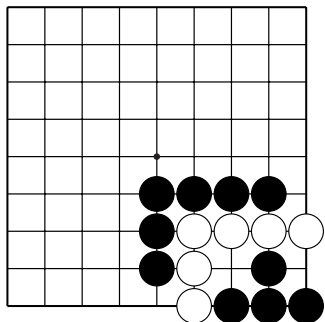
№5 ( )



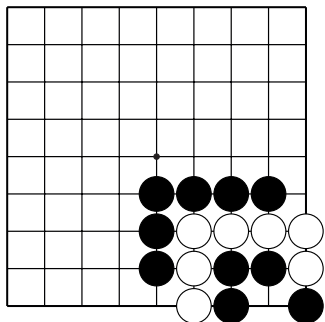
№6 ( )

## Статус группы

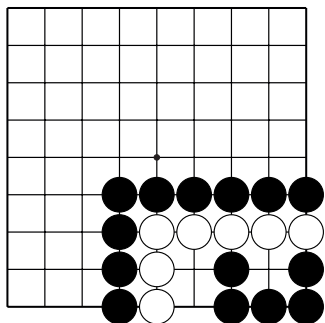
Какой статус группы белых: живая, мёртвая, сэки?



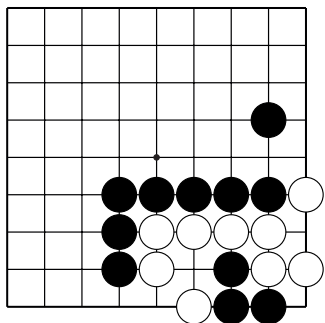
№7 ( )



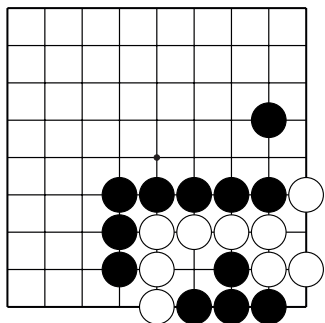
№8 ( )



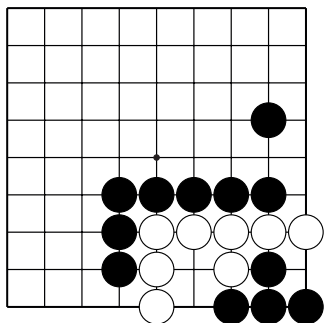
№9 ( )



№10 ( )



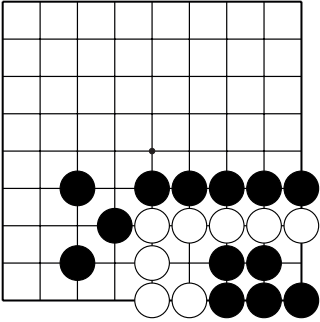
№11 ( )



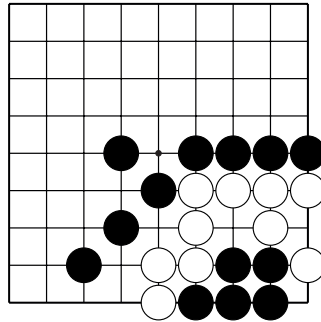
№12 ( )

## Статус группы

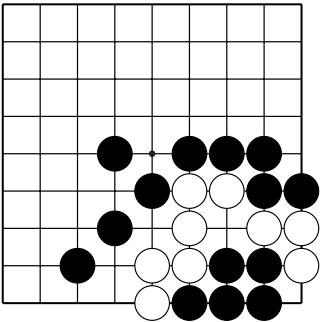
Какой статус группы белых: живая, мёртвая, сэки?



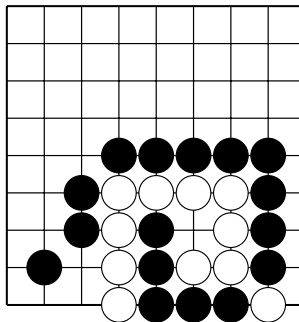
№13 ( )



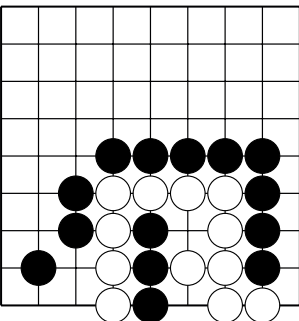
№14 ( )



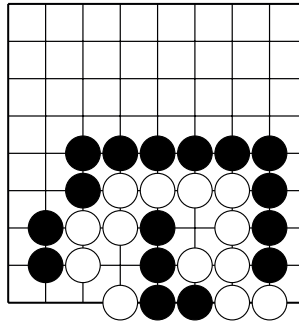
№15 ( )



№16 ( )



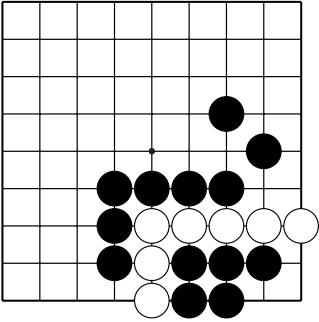
№17 ( )



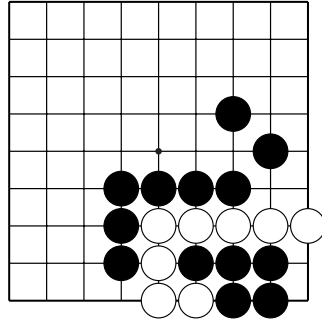
№18 ( )

## Статус группы

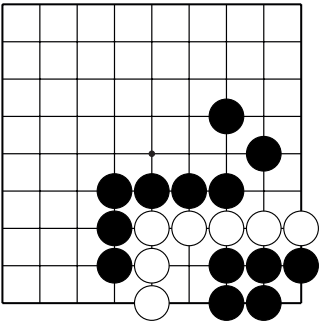
Какой статус группы белых: живая, мёртвая, сэки?



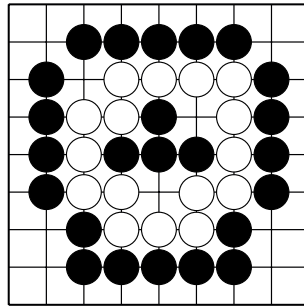
№19 ( )



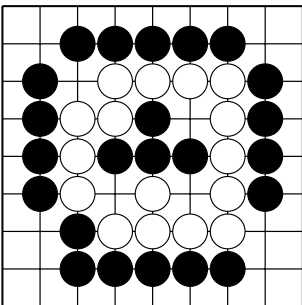
№20 ( )



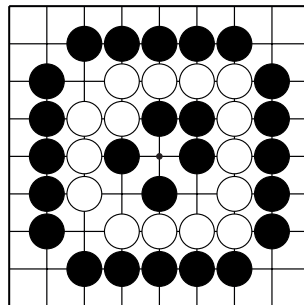
№21 ( )



№22 ( )



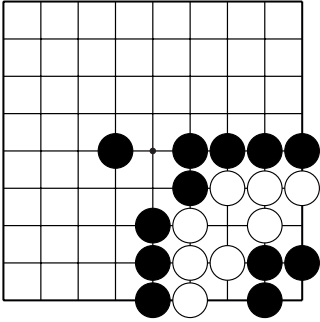
№23 ( )



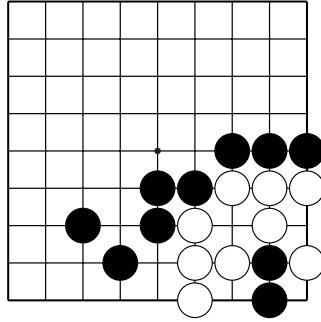
№24 ( )

## Статус группы

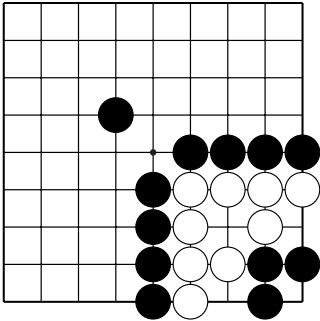
Какой статус группы белых: живая, мёртвая, сэки?



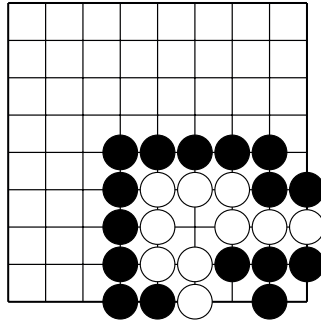
№25 ( )



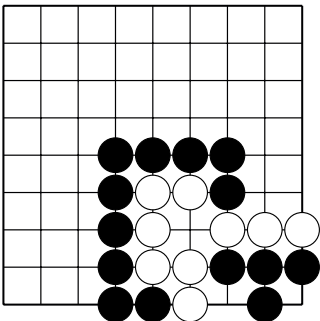
№26 ( )



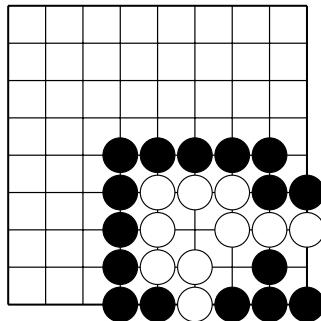
№27 ( )



№28 ( )



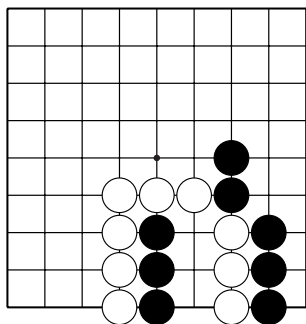
№29 ( )



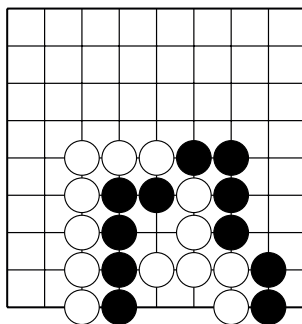
№30 ( )

## Сэки

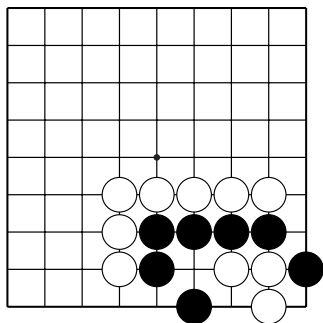
После какого хода чёрных создаётся ситуация сэки?



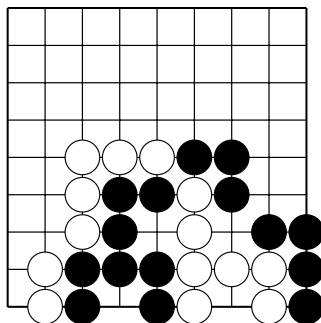
№1



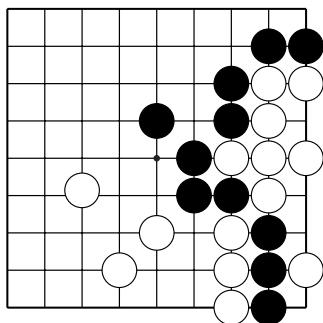
№2



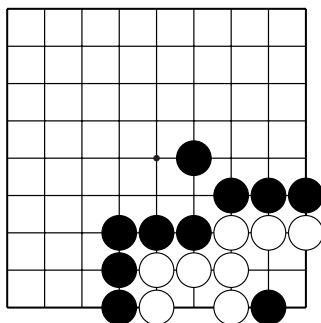
№3



№4



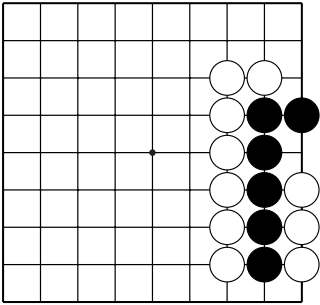
№5



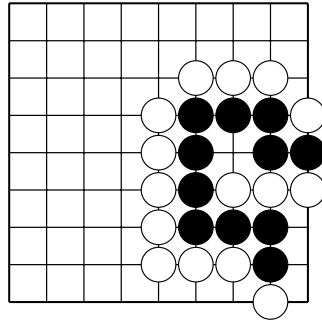
№6

# Сэки

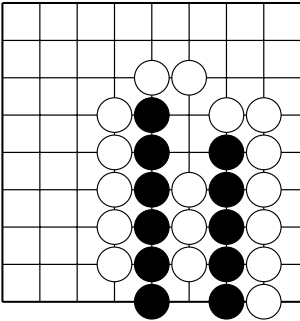
После какого хода чёрных создаётся ситуация сэки?



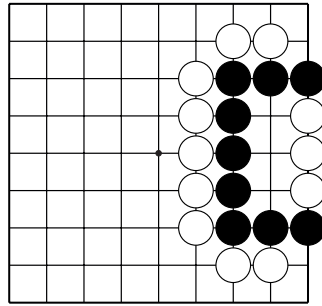
№7



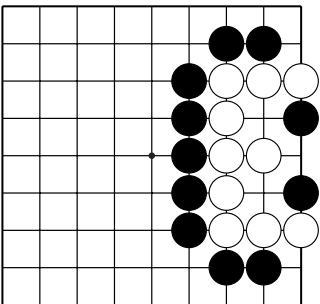
№8



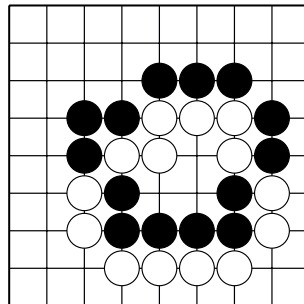
№9



№10



№11

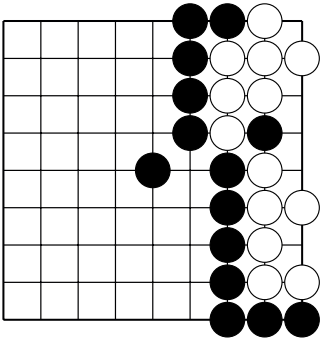


№12

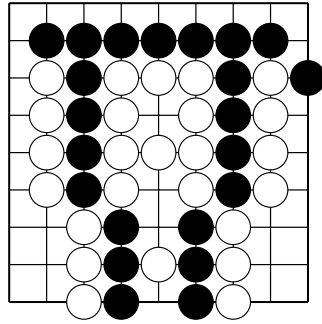


# Сэки

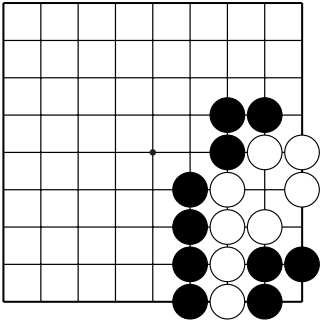
После какого хода чёрных создаётся ситуация сэки?



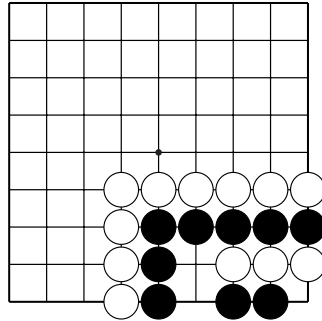
№13



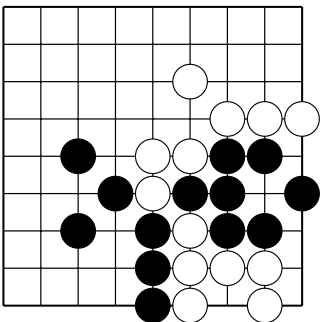
№14



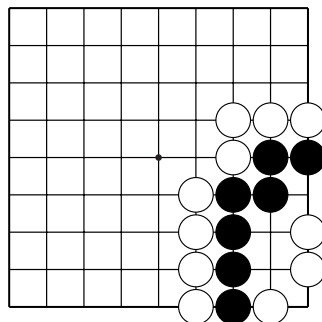
№15



№16



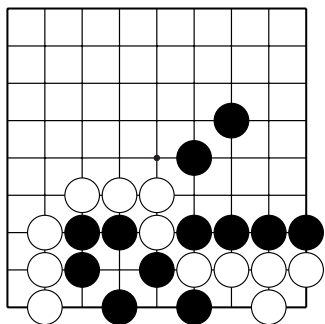
№17



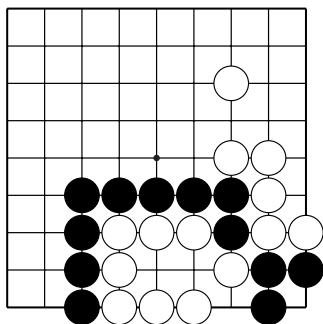
№18

## Сэки

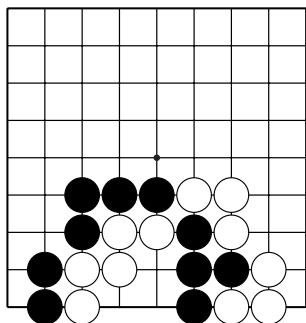
После какого хода чёрных создаётся ситуация сэки?



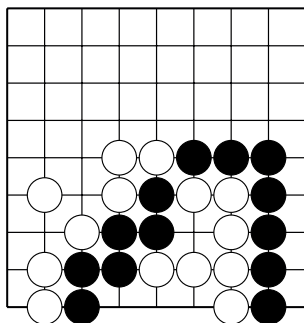
№19



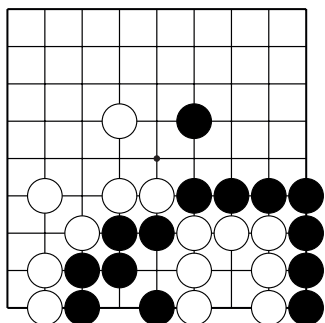
№20



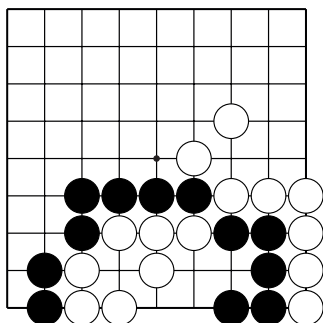
№21



№22



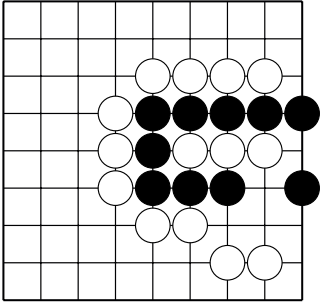
№23



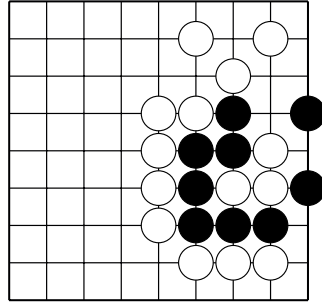
№24

# Сэки

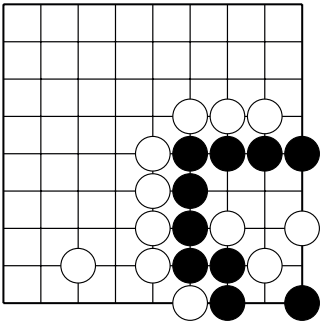
Ход чёрных. Как построить сэки?



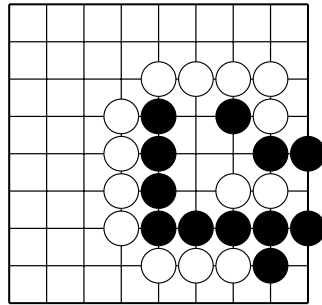
№25



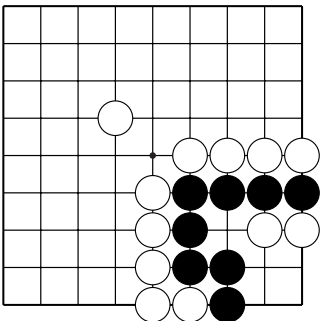
№26



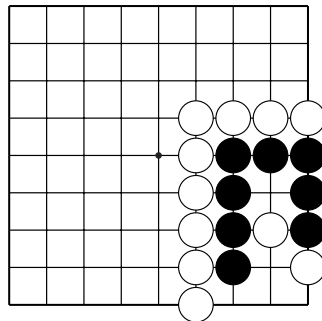
№27



№28



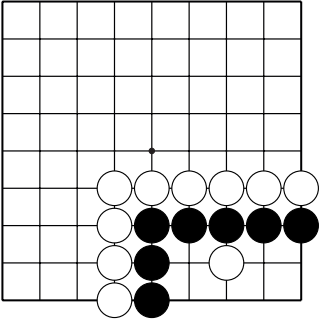
№29



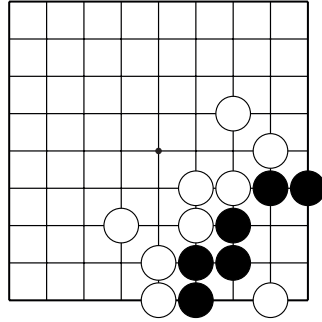
№30

# Сэки

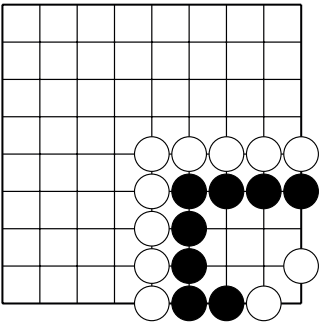
Ход чёрных. Как построить сэки?



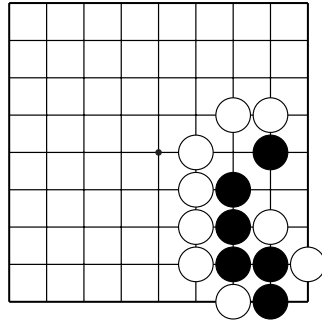
№31



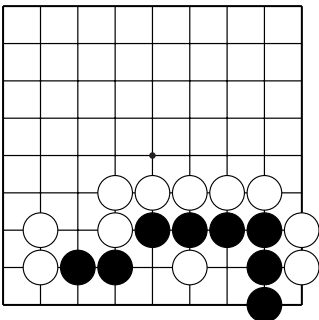
№32



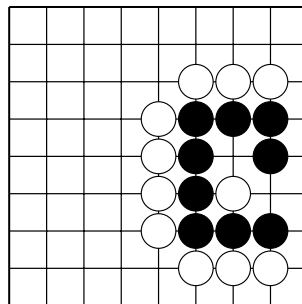
№33



№34



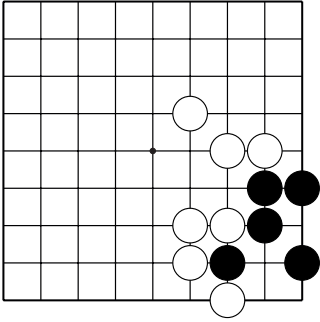
№35



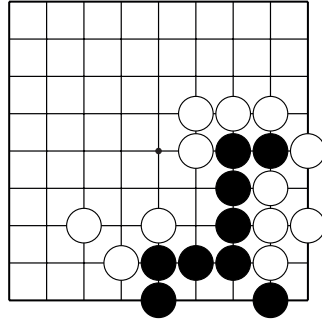
№36

# Ко-борьба

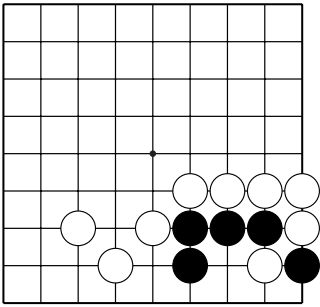
После какого хода чёрных начинается ко-борьба?



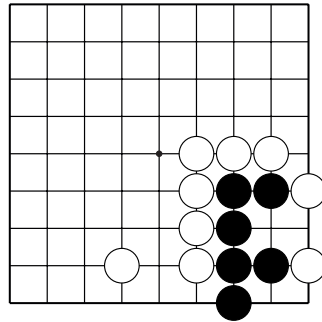
№1



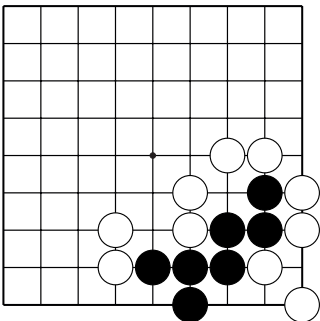
№2



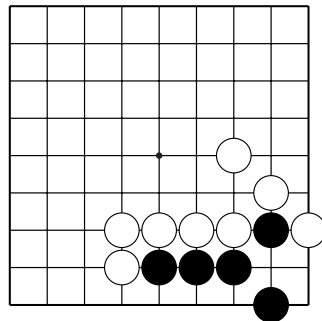
№3



№4



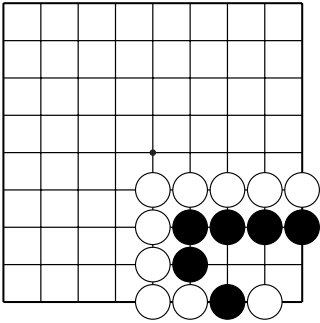
№5



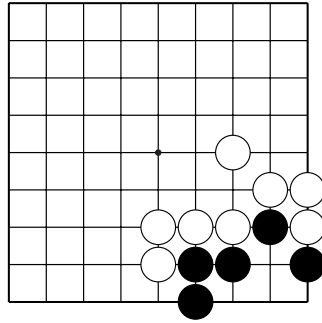
№6

# Ко-борьба

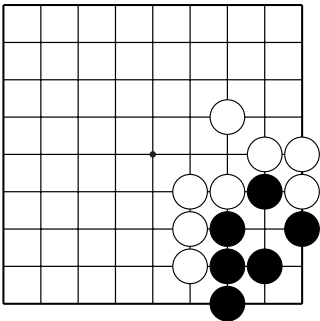
После какого хода чёрных начинается ко-борьба?



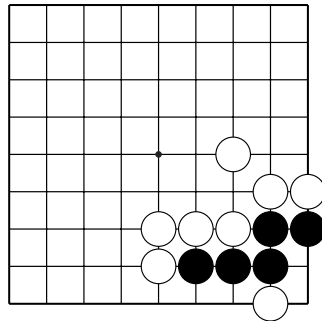
№7



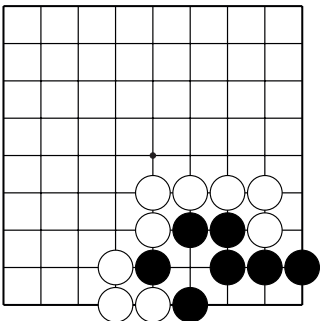
№8



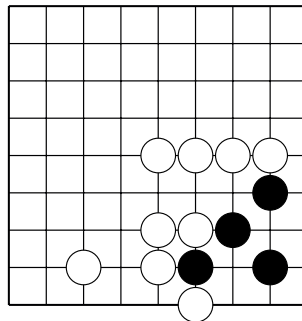
№9



№10



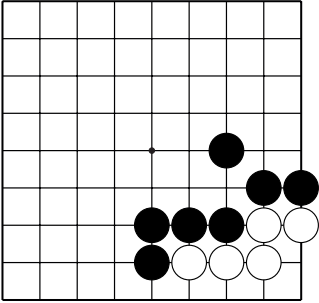
№11



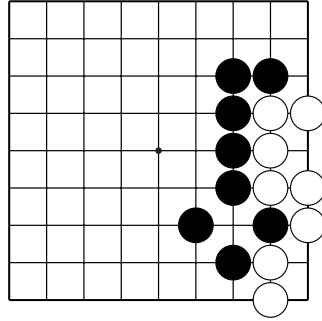
№12

# Ко-борьба

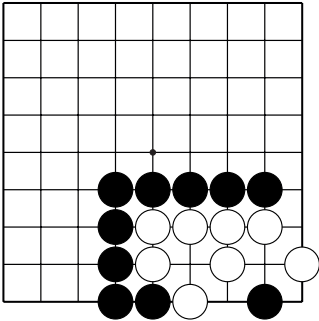
После какого хода чёрных начинается ко-борьба?



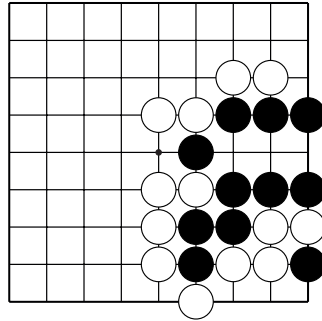
№13



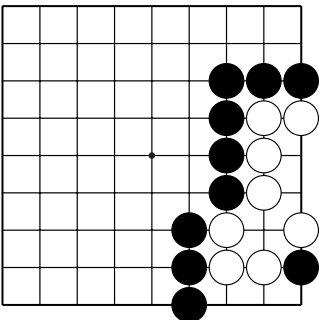
№14



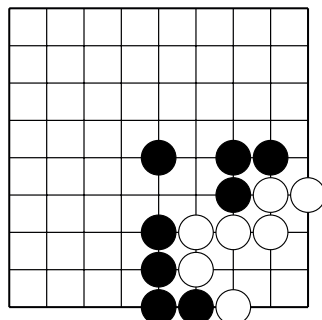
№15



№16



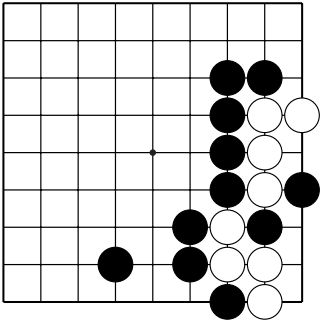
№17



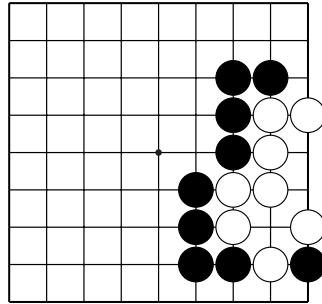
№18

# Ко-борьба

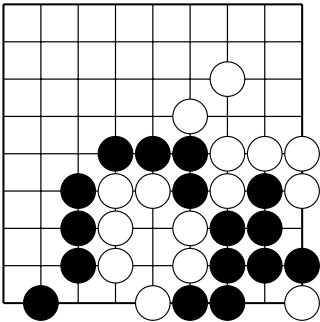
После какого хода чёрных начинается ко-борьба?



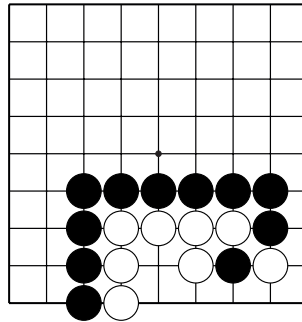
№19



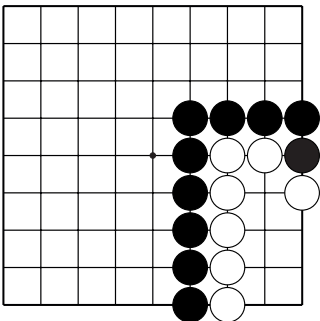
№20



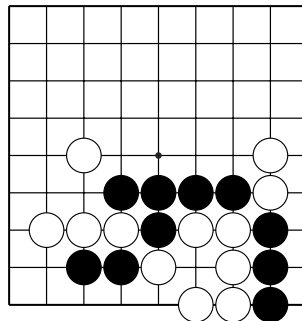
№21



№22. 3 хода.



№23. 3 хода

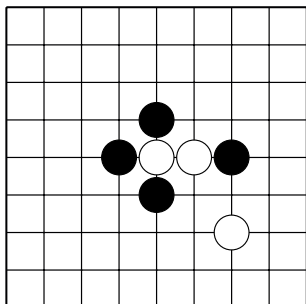


№24. 3 хода

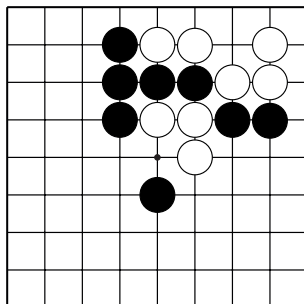


## Конкурс решения задач

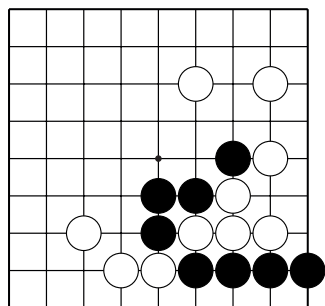
Найдите правильное решение, используя изученные приёмы.



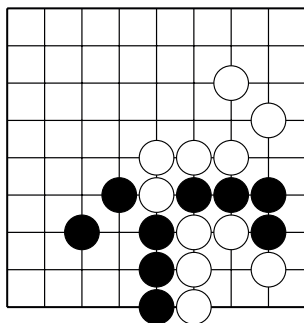
№1. "Лесенка". 3 хода.



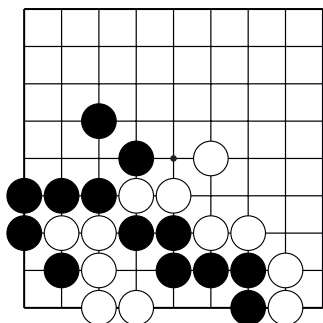
№2. "Хомутик". 1 ход.



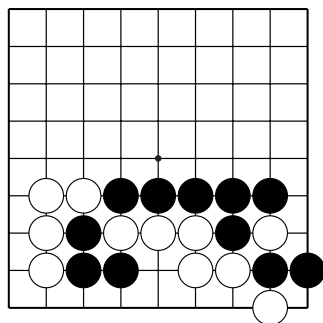
№3. Серия атари. 3 хода.



№4. "Защёлка". 1 ход.



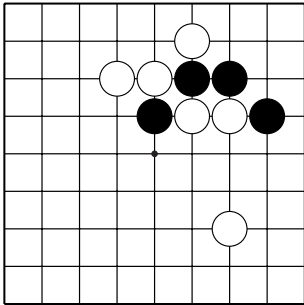
№5. Группа с глазом vs группа без глаза.  
1 ход.



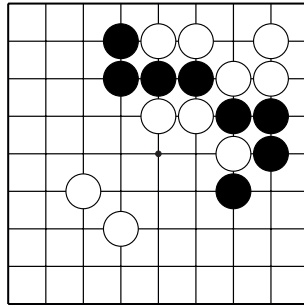
№6. Внутреннее дамэзумари.  
3 хода

## Конкурс решения задач

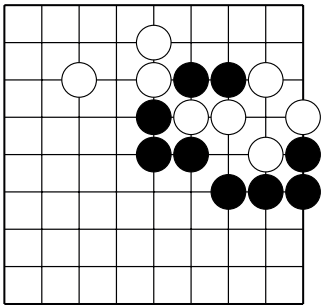
Найдите правильное решение, используя изученные приёмы.



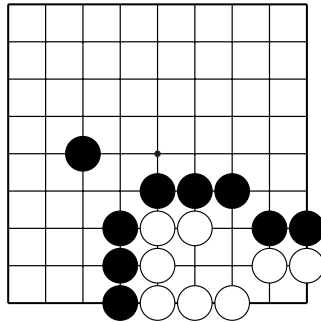
№7. "Лесенка". 5 ходов.



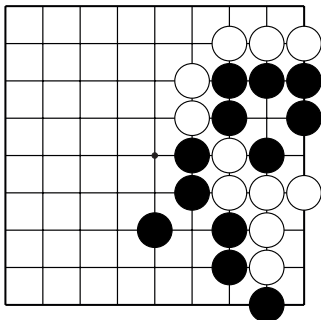
№8. "Хомутик". 1 ход.



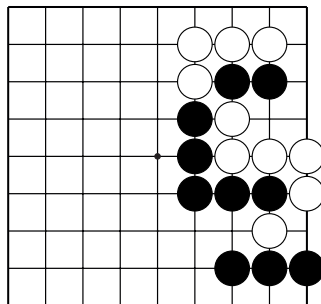
№9. Серия атари. 3 хода.



№10. "Защёлка". 3 хода.



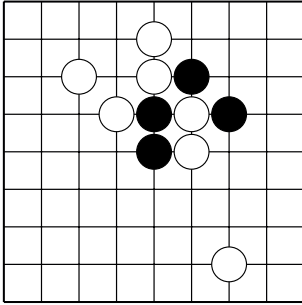
№11. Группа с глазом vs группа без глаза.  
1 ход.



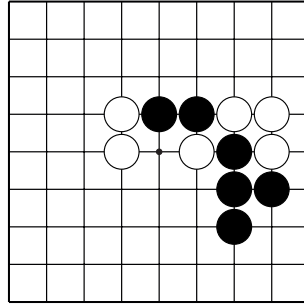
№12. Внутреннее дамэзумари.  
3 хода

## Конкурс решения задач

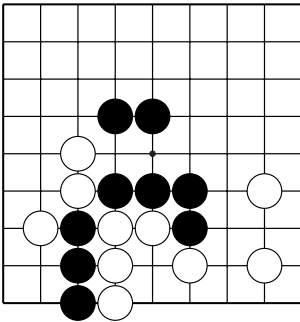
Найдите правильное решение, используя изученные приёмы.



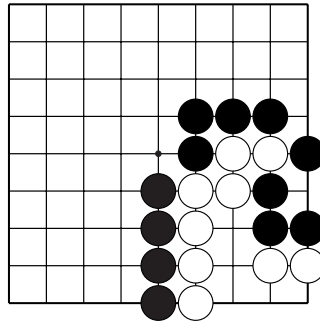
№13. "Лесенка". 7 ходов.



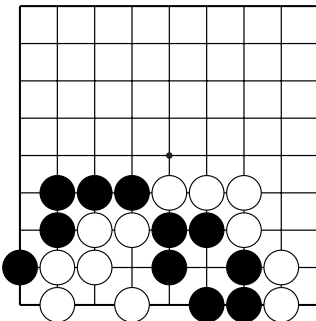
№14. "Хомутик". 3 хода.



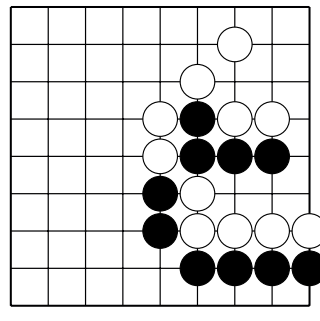
№15. Серия атари. 3 хода.



№16. "Защёлка". 3 хода.



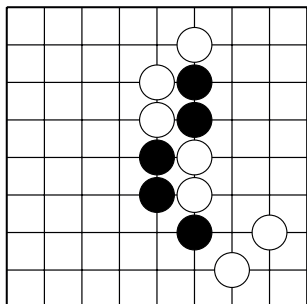
№17. Группа с глазом vs группа без глаза.  
1 ход.



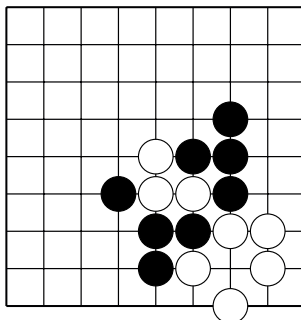
№18. Внутреннее дамэзумари.  
1 ход

## Конкурс решения задач

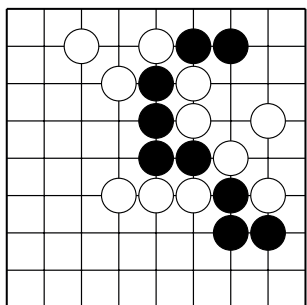
Найдите правильное решение, используя изученные приёмы.



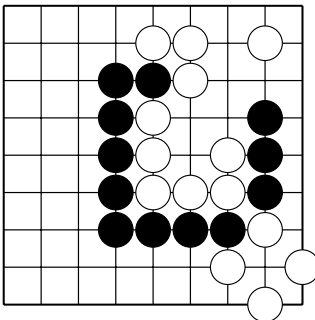
№19. "Лесенка". 7 ходов.



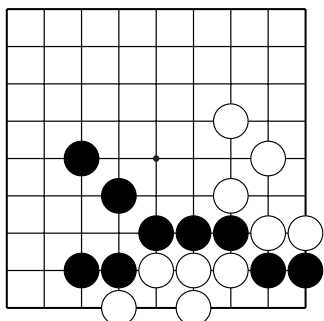
№20. "Хомутик". 1 ход.



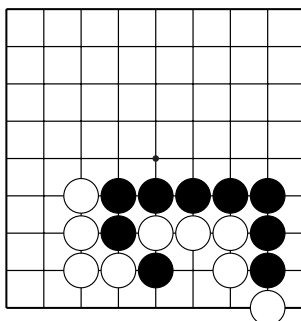
№21. Серия агари. 5 ходов.



№22. "Защёлка". 3 хода.



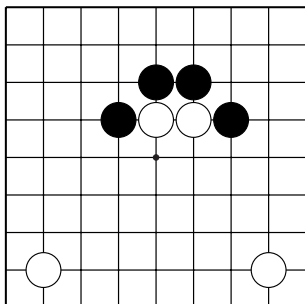
№23. Группа с глазом vs группа без глаза.  
1 ход.



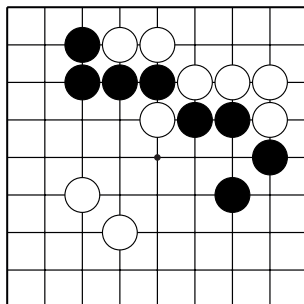
№24. Внутреннее дамэздумари.  
3 хода

## Конкурс решения задач

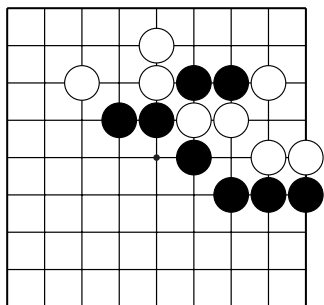
Найдите правильное решение, используя изученные приёмы.



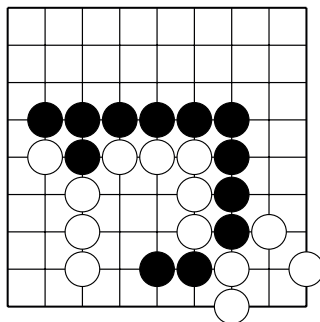
№25. "Лесенка". 9 ходов.



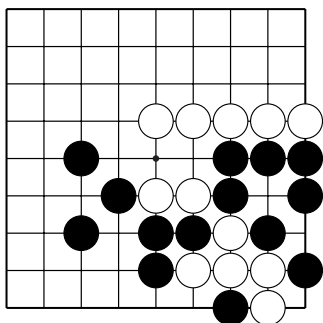
№26. "Хомутик". 1 ход.



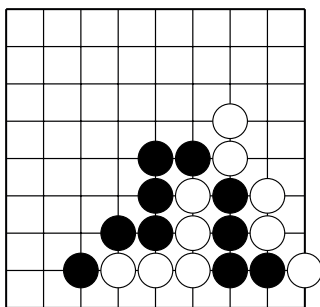
№27. Серия атари. 3 хода.



№28. "Защёлка". 3 хода.



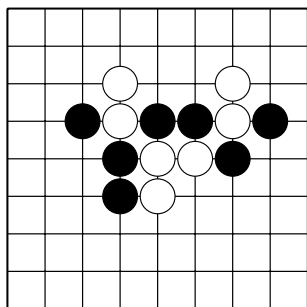
№29. Группа с глазом vs группа без глаза.  
3 хода.



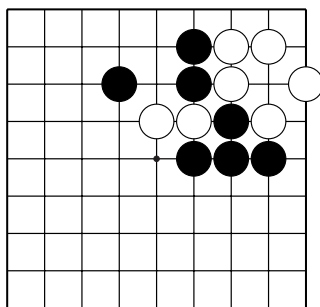
№30. Внутреннее дамэджумари.  
5 ходов

## Конкурс решения задач

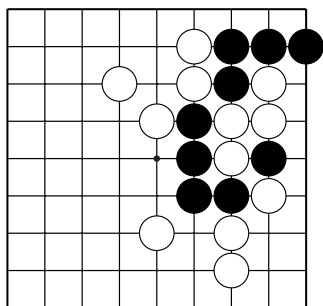
Найдите правильное решение, используя изученные приёмы.



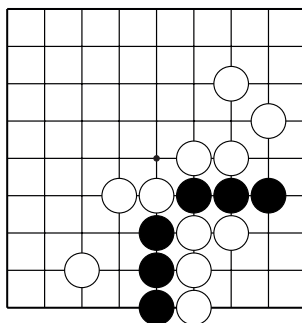
№31. "Лесенка". 3 хода.



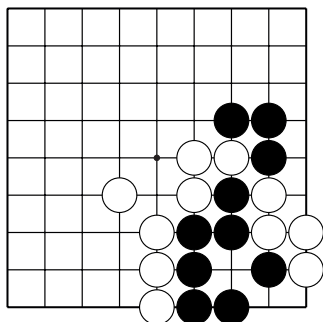
№32. "Хомутик". 1 ход.



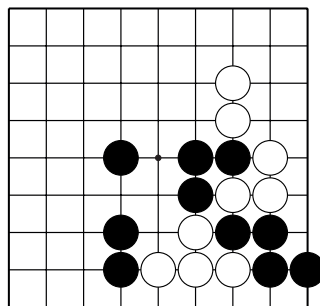
№33. Серия атари. 3 хода.



№34. "Защёлка". 5 ходов.



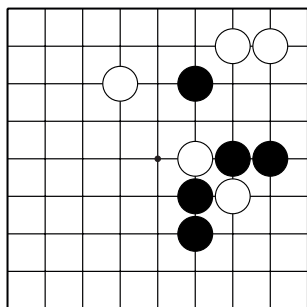
№35. Группа с глазом vs группа без глаза.  
1 ход.



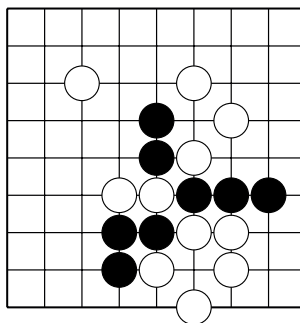
№36. Внутреннее дамэзумари.  
5 ходов

## Конкурс решения задач

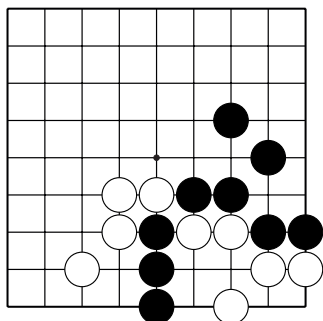
Найдите правильное решение, используя изученные приёмы.



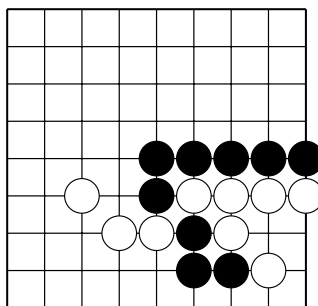
№37. "Лесенка". 7 ходов.



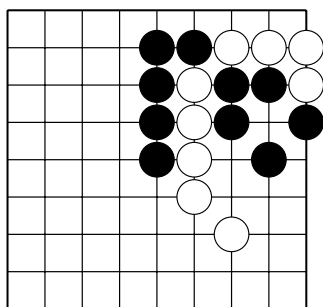
№38. "Хомутик". 3 хода.



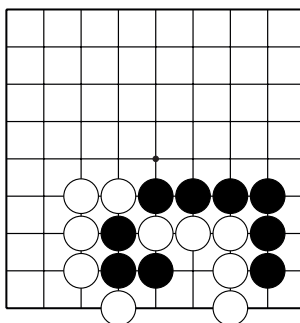
№39. Серия агари. 3 хода.



№40. "Защёлка". 1 ход.



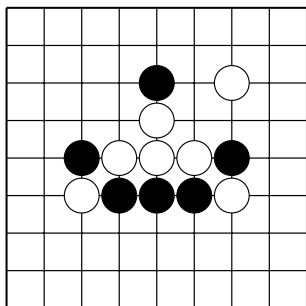
№41. Группа с глазом vs группа без глаза.  
1 ход.



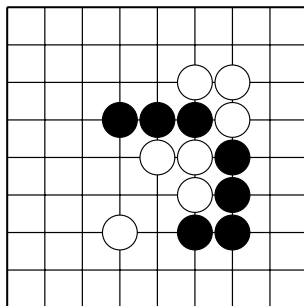
№42. Внутреннее дамэзумари.  
3 хода

## Конкурс решения задач

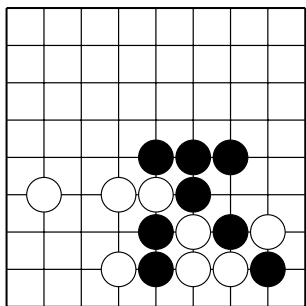
Найдите правильное решение, используя изученные приёмы.



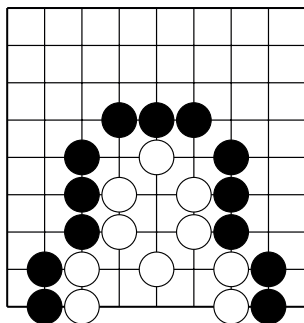
№43. "Лесенка". 5 ходов.



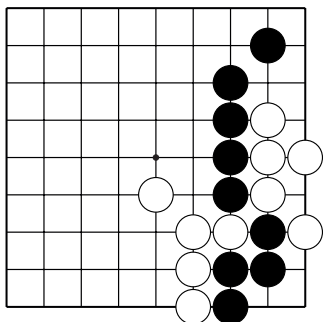
№44. "Хомутик". 1 ход.



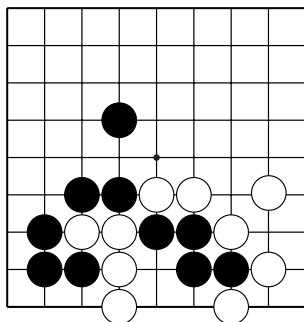
№45. Серия атари. 5 ходов.



№46. "Защёлка". 3 хода.



№47. Группа с глазом vs группа без глаза.  
3 хода.

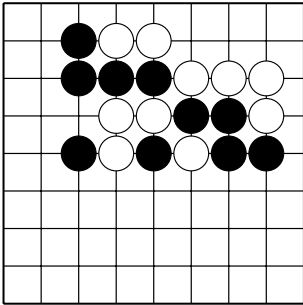


№48. Внутреннее дамэзумари.  
3 хода

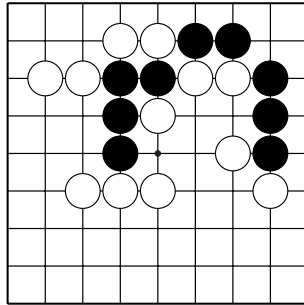


## Конкурс решения задач

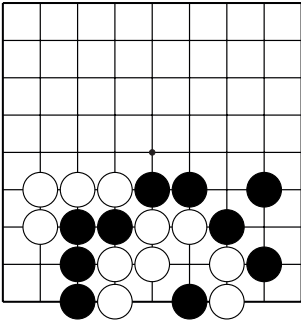
Найдите правильное решение, используя изученные приёмы.



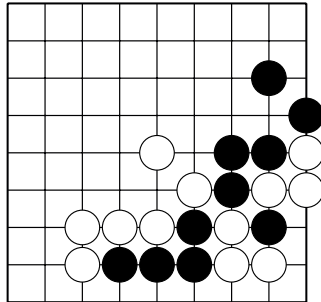
№49. "Лесенка". 5 ходов.



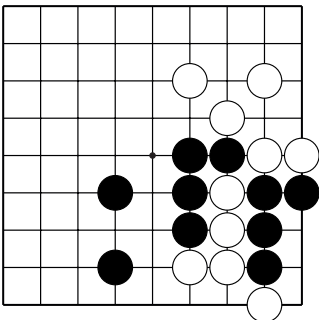
№50. "Хомутик". 1 ход.



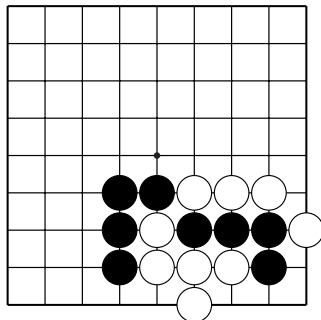
№51. Серия атари. 5 ходов.



№52. "Защёлка". 1 ход.



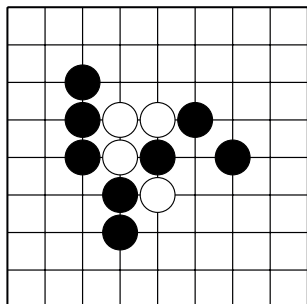
№53. Группа с глазом vs группа без глаза.  
3 хода.



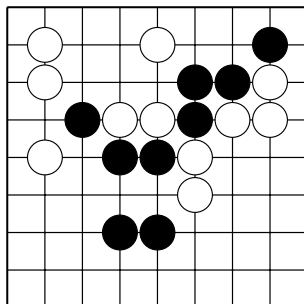
№54. Внутреннее дамэзумари.  
3 хода

## Конкурс решения задач

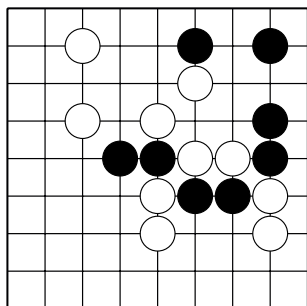
Найдите правильное решение, используя изученные приёмы.



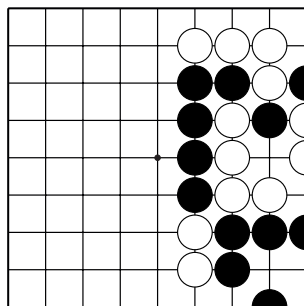
№55. "Лесенка". 5 ходов.



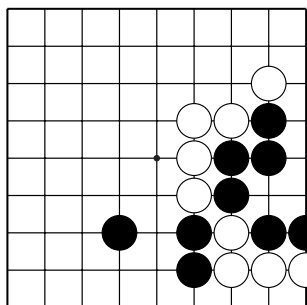
№56. "Хомутик". 3 хода.



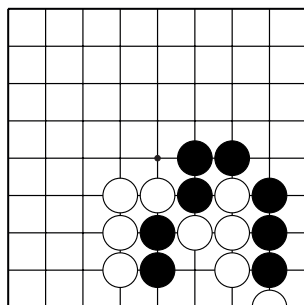
№57. Серия атари. 9 ходов.



№58. "Защёлка". 1 ход.



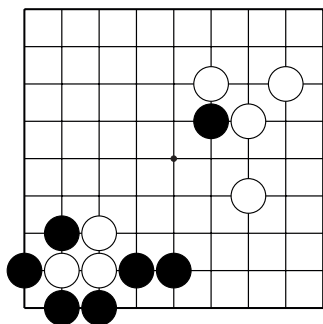
№59. Группа с глазом vs группа без глаза.  
3 хода.



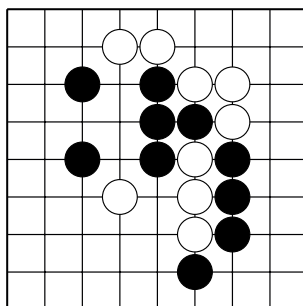
№60. Внутреннее дамэзумари.  
3 хода

## Конкурс решения задач

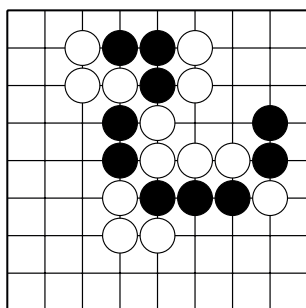
Найдите правильное решение, используя изученные приёмы.



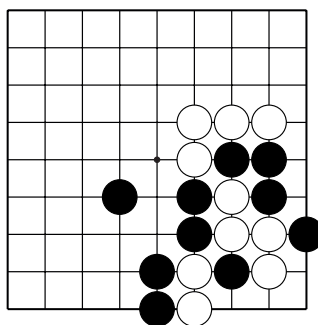
№61. "Лесенка". 9 ходов.



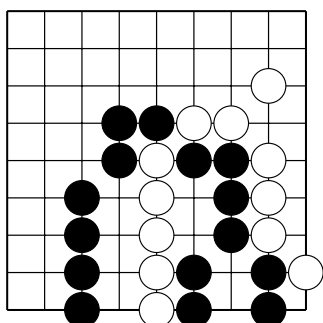
№62. "Хомутик". 3 хода.



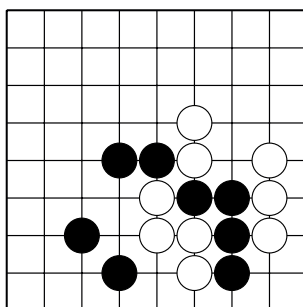
№63. Серия атари. 5 ходов.



№64. "Защёлка". 1 ход.



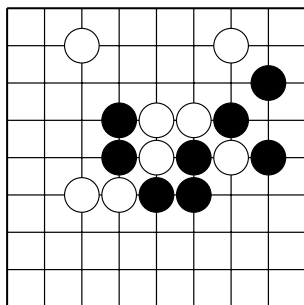
№65. Группа с глазом vs группа без глаза.  
1 ход.



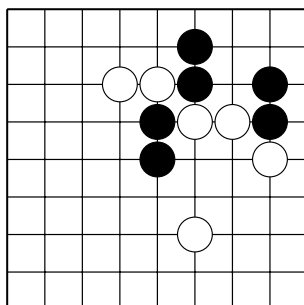
№66. Внутреннее дамэзумари.  
3 хода

## Конкурс решения задач

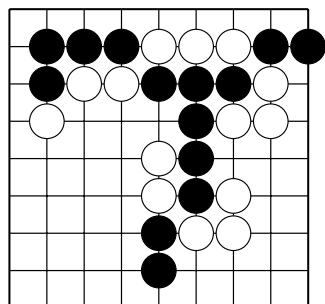
Найдите правильное решение, используя изученные приёмы.



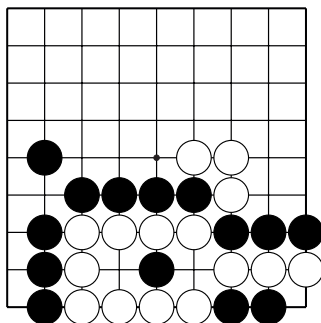
№67. "Лесенка". 9 ходов.



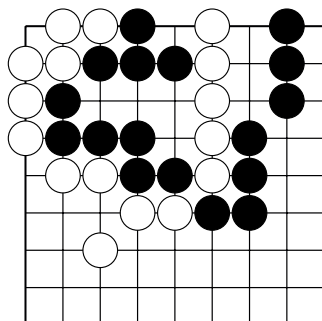
№68. "Хомутик". 3 хода.



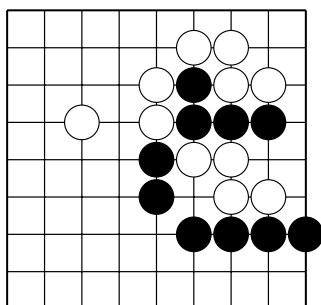
№69. Серия атари. 5 ходов.



№70. "Защёлка". 3 хода.



№71. Группа с глазом vs группа без глаза.  
1 ход.



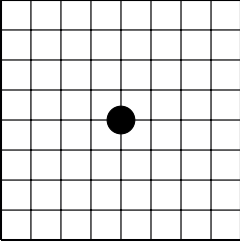
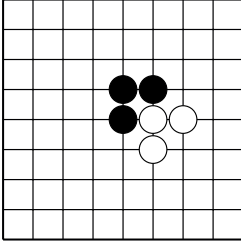
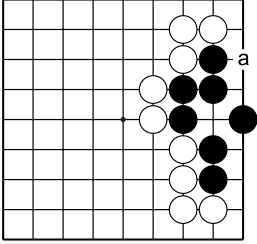
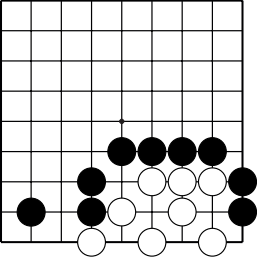
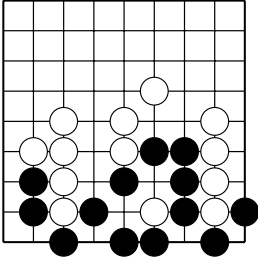
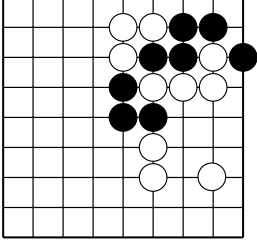
№72. Внутреннее дамэзумари.  
3 хода

## Контрольные и итоговые тесты

### 1 тест

Тема	Вопросы	Варианты ответа
1. Термины игры.	Термин "тоби" означает...	А) Прыжок через пункт Б) Удлинение от своего камня
2. Атрибуты игры.	Сколько игровых пунктов на поле 9x9?	А) 81 Б) 99
3. Правила игры.	Запрещено делать ход, если...	А) Камень стоит в углу доски Б) Позиция повторится
	Если внутри группы есть два свободных пункта, то туда ставить камень...	А) Разрешено безусловно Б) Разрешено, если внешние дамы закрыты

#### 4. Основные приёмы и концепции

		
а) Сколько тоби можно сделать от камня чёрных?	б) Чья форма лучше? Чёрных или белых? Почему?	в) Где миаи для пункта "а"?
		
г) Как убить белых?	д) Как выжить чёрным?	е) Захватите белые камни приёмом "хомутик".

## Контрольные и итоговые тесты

### 2 тест

Тема	Вопросы	Варианты ответа
1. Системы соревнований	Круговая система – это...	А) Все участники играют друг с другом поочерёдно в порядке, определяемом таблицами очередности игры. Б) Встреча двух игроков или команд между собой.
2. Термины	Термин "миаи" – это...	А) Два пункта одинакового значения. Б) Прыжок через два пункта.
3. Правила игры.	Во время партии запрещается...	А) Записывать ходы противника. Б) Горопить противника сделать ход.
	Если противник сказал «пас», нужно...	А) Обязательно ответить "пас" Б) Подумать и сделать ход.

### 4. Основные приёмы и концепции

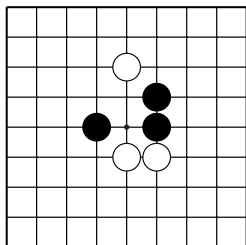
а) Сколько "Пастей тигра" чёрные могут создать?	б) У кого форма лучше? У чёрных или у белых?	в) Сколько ложных глаз у белых?
г) Как убить белых?	д) Как чёрным выжить?	е) Чёрные могут выжить? Да или нет?

## Контрольные и итоговые тесты

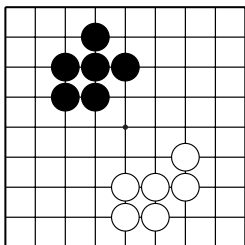
### 3 тест

Тема	Вопросы	Варианты ответа
1. Этикет	Если вы взяли в руки камень, то нужно...	А) Сделать ход. Б) Ещё немножечко подумать.
2. Правила игры.	Если возникла спорная ситуация, нужно...	А) Позвонить другу Б) Позвать судью
	Ход считается сделанным, если...	А) Камень коснулся доски. Б) Рука отпустила камень.
3. Термины	Сэнтэ – это...	А) Ход, на который лучше ответить. Б) Ход, на который не нужно отвечать.

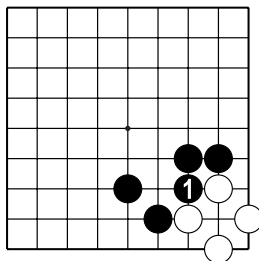
### 4. Основные приёмы и концепции



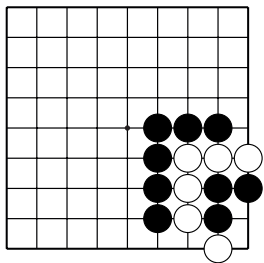
а) Как чёрным создать "бамбуковое" соединение?



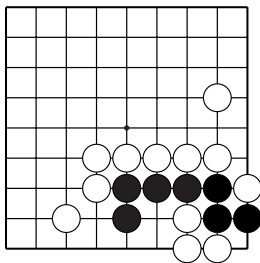
б) Кто создал форму "кролик"? Чёрные или белые?



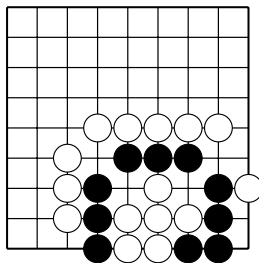
в) Ход ч.1 сэнтэ? Да или нет?



г) Как чёрным убить группу белых?



д) Как чёрным построить сэки?



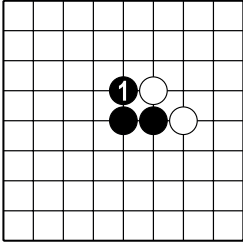
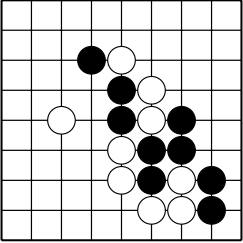
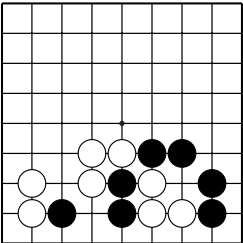
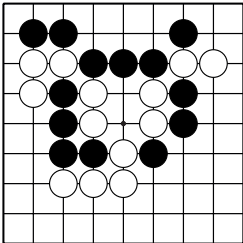
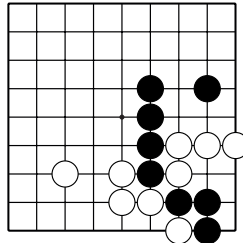
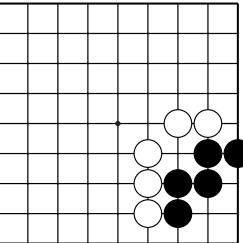
е) Как чёрным выжить?

## Контрольные и итоговые тесты

### 4 тест

Тема	Вопросы	Варианты ответа
1. Происхождение и термины игры.	Почему го называется "го"?	А) Так читается японский иероглиф. Б) Так читается китайский иероглиф.
	Где появилась игра го?	А) в Китае Б) в Японии
2. Тактика	Если у группы один глаз в форме "квадратика", эта группа...	А) Мертва безусловно. Б) Жива при своём ходе.
	Если сэмай не в вашу пользу, то...	А) Нужно доиграть сэмай до конца. Б) Оставить позицию для коугроз

### 3. Основные приёмы и концепции

		
а) Ход ч.1 создал хорошую форму или плохую?	б) Захватите белые камни приёмом "лесенка".	в) Как спасти камни чёрных внизу?
		
г) Захватите белые камни приёмом "защёлка".	д) Как спасти камни чёрных в углу?	е) Как выжить чёрным?